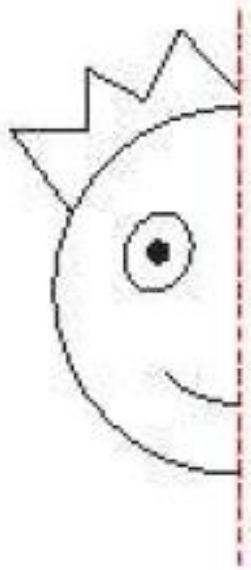


آموزگار: اکرم خاکسار

## فعالیت کلاسی

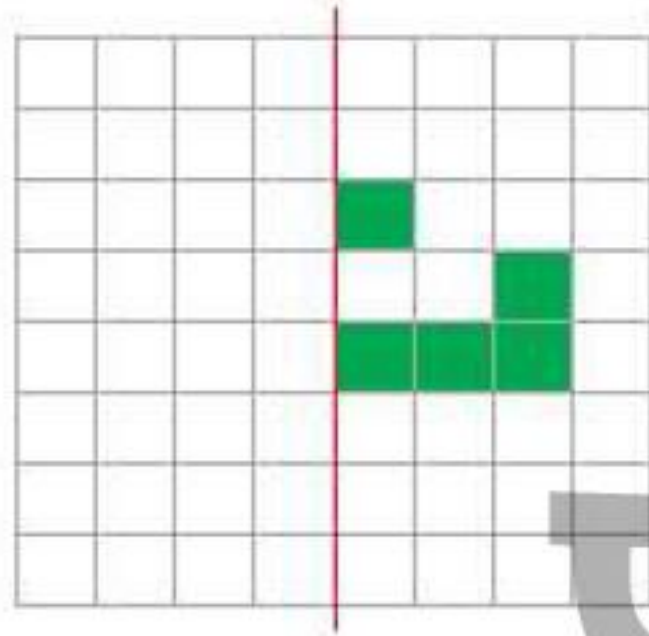


با توجه به خط تقارن، نیمه‌ی دیگر شکل‌ها را کامل کن.



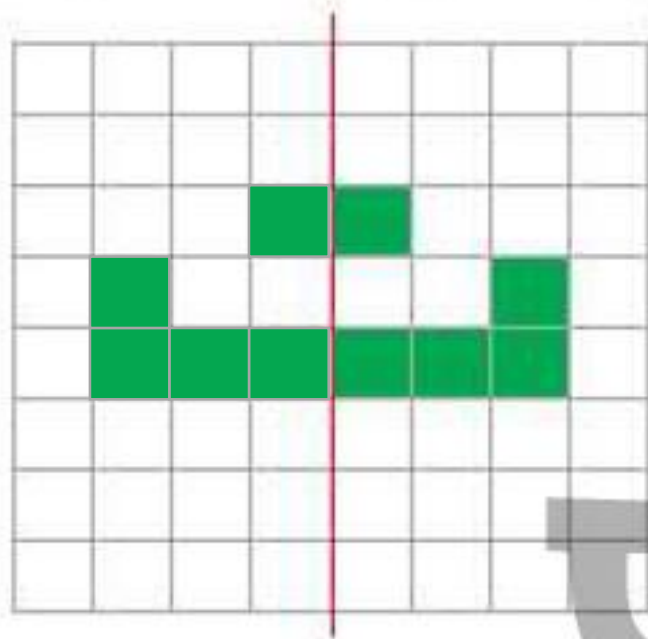
۲

با توجه به خط تقارن، خانه‌های شطرنجی را رنگ کن. بعد از رنگ کردن، کدام «نشانه» دیده می‌شود؟



نشانه ..... دیده می‌شود.

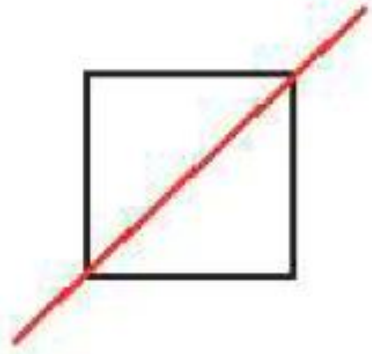
۲ با توجه به خط تقارن، خانه‌های شطرنجی را رنگ کن. بعد از رنگ کردن، کدام «نشانه» دیده می‌شود؟



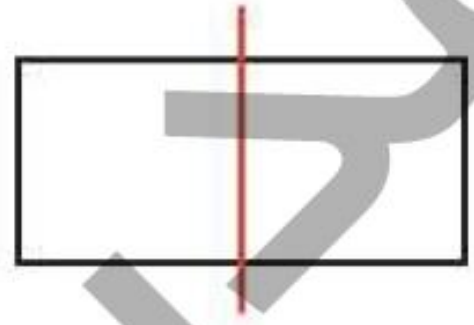
نشانه ..... ت ..... دیده می‌شود.

۳


خط رسم شده در کدام یک از شکل‌های زیر خط تقارن است؟ (دور آن خط بکش)



پ:



ب:



الف:

۴

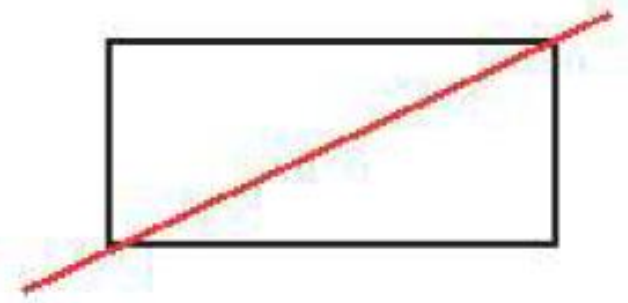
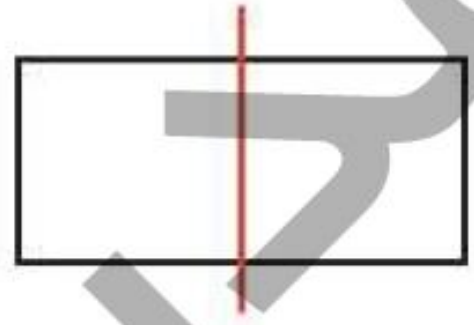
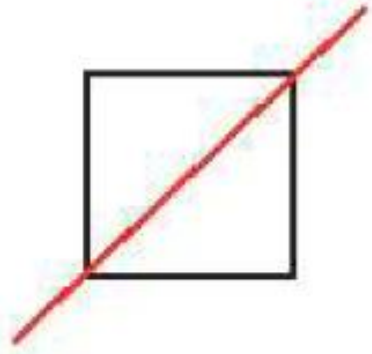
ساعت ۷ است. اگر عقربه‌ی دقیقه شمار، ۳۰ دقیقه (نیم ساعت) حرکت کند. ساعت چند می‌شود؟ آن را روی ساعت نشان بده.



ساعت ..... می‌شود.

۲

خط رسم شده در کدام یک از شکل‌های زیر خط تقارن است؟ (دور آن خط بکش)



الف:

۴

ساعت ۷ است. اگر عقربه‌ی دقیقه شمار، ۳۰ دقیقه (نیم ساعت) حرکت کند. ساعت چند می‌شود؟ آن را روی ساعت نشان بده.



ساعت ... هفت و نیم ... می‌شود.

۷:۳۰

در کدام یک از شکل‌های زیر، خط کشیده شده، خط تقارن نیست؟ (دور آن خط بکش)


الف:



ب:



پ:



ت:



در کدام یک از شکل‌های زیر، خط کشیده شده، خط تقارن نیست؟ (دور آن خط بکش)


الف:



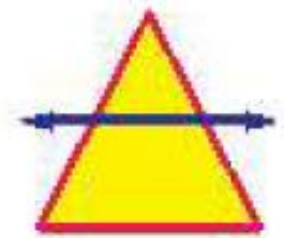
ب:



پ:



ت:





## تمرین



هر عبارت را به جواب صحیح آن وصل کن.

۱

- شکلی با ۳ ضلع مساوی و ۳ خط تقارن
- شکلی دارای بی‌نهایت خط تقارن
- شکلی با ۴ خط تقارن
- شکلی با ۲ خط تقارن

- مربع
- مستطیل
- دایره
- مثلث

# تمرین



۱

هر عبارت را به جواب صحیح آن وصل کن.



شکلی با ۳ ضلع مساوی و ۳ خط تقارن

شکلی دارای بی‌نهایت خط تقارن

شکلی با ۴ خط تقارن


شکلی با ۲ خط تقارن

مربع

مستطیل

دایره

مثلث



۲ درستی  و نادرستی  هر عبارت را مشخص کن.

الف: هر ساعت  $60^\circ$  دقیقه و نیم ساعت همان  $30^\circ$  دقیقه است.



ب: تعداد خطهای تقارن شکل‌های هندسی مختلف با هم برابر است.

پ: خط تقارن می‌تواند در شکل‌ها به صورت افقی و عمودی رسم شود.

ت: ساعت  $2:30$  همان ساعت دو و نیم است.

۲ درستی  و نادرستی  هر عبارت را مشخص کن.

الف: هر ساعت  $60^\circ$  دقیقه و نیم ساعت همان  $30^\circ$  دقیقه است.  

ب: تعداد خطهای تقارن شکل‌های هندسی مختلف با هم برابر است.  

پ: خط تقارن می‌تواند در شکل‌ها به صورت افقی و عمودی رسم شود.  

ت: ساعت  $2:30$  همان ساعت دو و نیم است.  

۲

زمان مربوط به هر ساعت را به دو صورت بنویس.



..... ساعت پ: ساعت

۲:۳۰



..... ساعت ده و نیم پ: ساعت

..... : .....



..... ساعت الف: ساعت

..... : .....

۲

زمان مربوط به هر ساعت را به دو صورت بنویس.



پ: ساعت ... دو و نیم .....

۲:۳۰



پ: ساعت ده و نیم .....

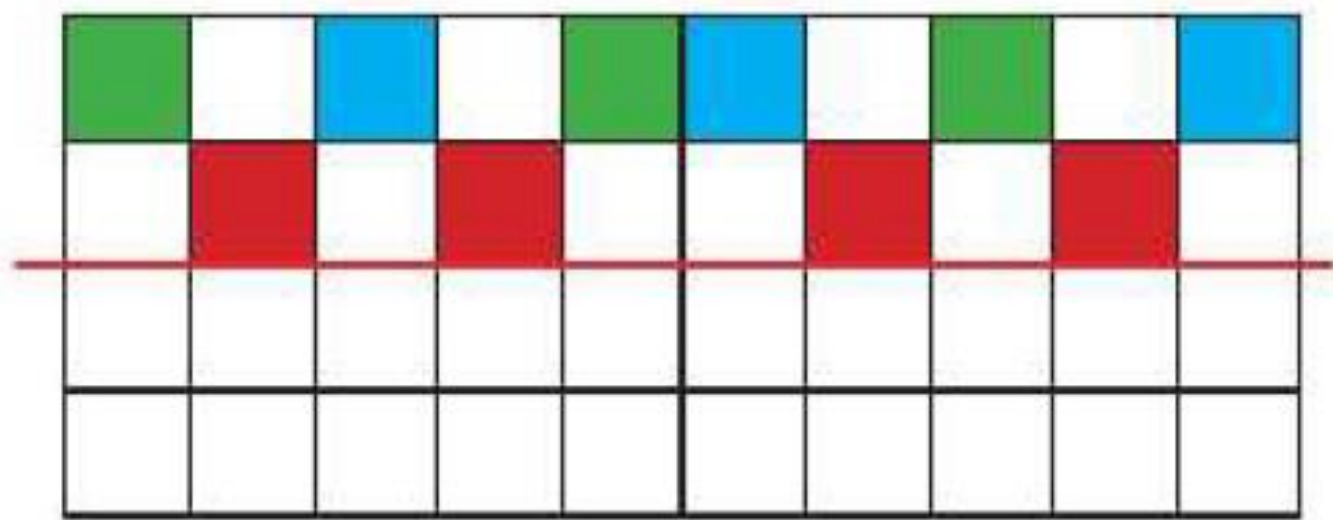
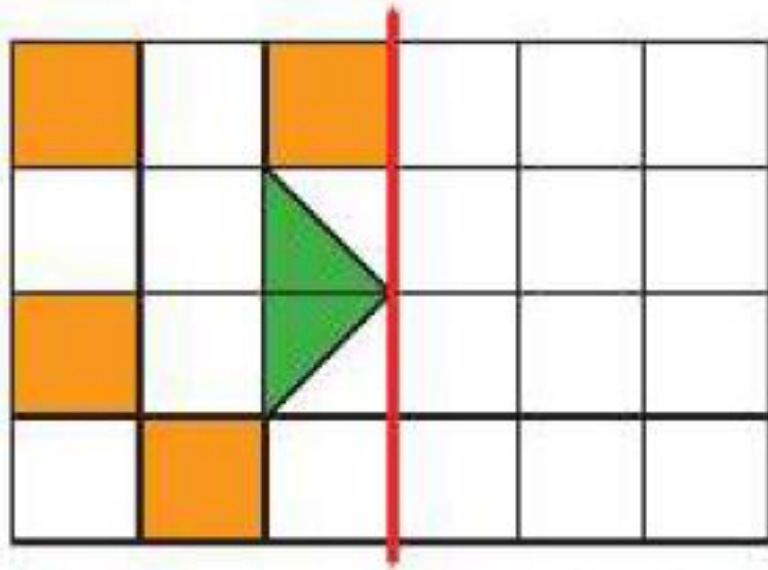
۱۰:۳۰



الف: ساعت دوازده و نیم .....

۱۲:۳۰

با توجه به خط تقارن، نیمه‌ی دیگر شکل‌های زیر را رنگ‌آمیزی کن.







با توجه به خط تقارن، نیمه‌ی دیگر شکل‌های زیر را رنگ‌آمیزی کن.

