



ریاضی

تقارن

به نام خدا

کار علوی
صفحه
۸۲

فعالیت کلاسی



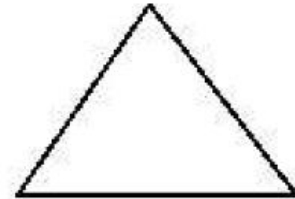

۱ درست یا نادرست بودن هر عبارت را مشخص کن.

الف: تعداد خط تقارن های مربع از دایره کمتر است.

ب: مثلث با ۳ ضلع برابر، ۳ خط تقارن دارد.

پ: ساعت ۱۵:۰۶ یعنی ۱۵ دقیقه به ساعت ۶ مانده است.

۲ خطهای تقارن شکل های زیر را رسم کن.



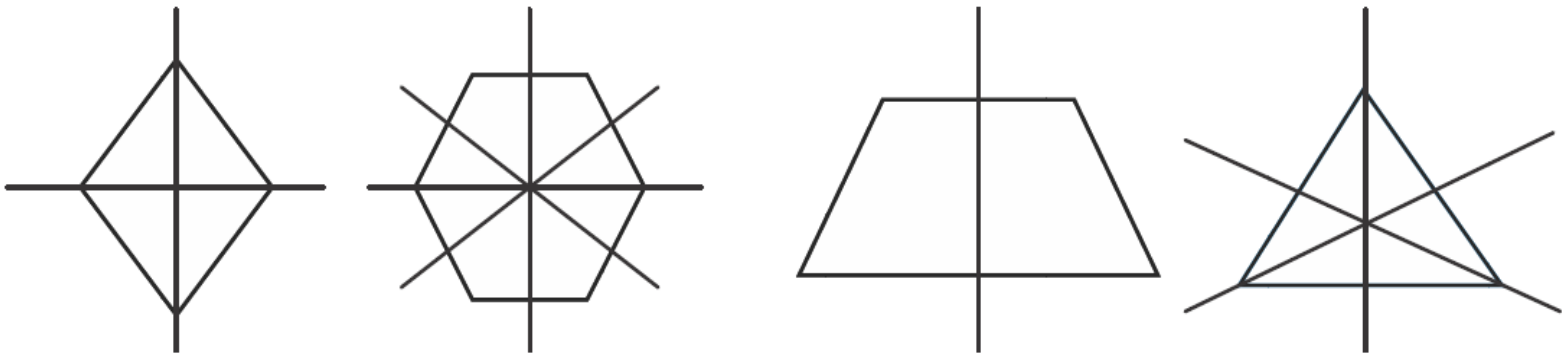
ریاضی دوم دبستان



فعالیت کلاسی



- ۱ درست یا نادرست بودن هر عبارت را مشخص کن.
 - الف: تعداد خط تقارن های مربع از دایره کمتر است.
 - ب: مثلث با ۳ ضلع برابر، ۳ خط تقارن دارد.
 - پ: ساعت ۱۵:۰۶ یعنی ۱۵ دقیقه به ساعت ۶ مانده است.
- ۲ خط های تقارن شکل های زیر را رسم کن.



علوی

۲ زمان‌های زیر را روی هر ساعت نشان بده.



دوازده و ربع



یک و نیم



دو و ربع



هفت و نیم

۴ برای کامل کردن کف آشپزخانه‌ی شکل زیر، چند کاشی مربعی دیگر لازم داریم؟



- ۱۲ (۱)
- ۱۰ (۲)
- ۹ (۳)
- ۶ (۴)
- ۴ (۵)

کار علوی
صفحه
۸۳

تمرین



۱ هر زمان را به ساعت خودش وصل کن.



یک ربع مانده به ۳



نیم ساعت گذشته از ۷



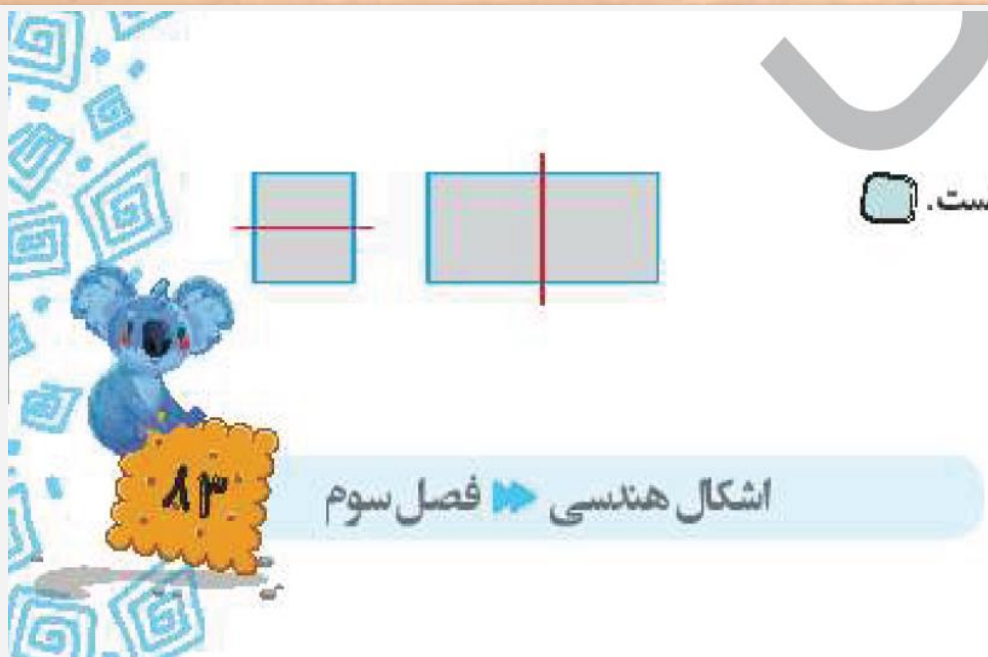
۸:۱۵



۳:۴۵

کار علوی
صفحه
۸۳

کار علوی
صفحه
۸۳



۲ درستی و نادرستی هر عبارت را مشخص کن.


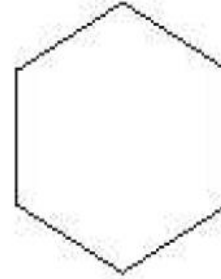

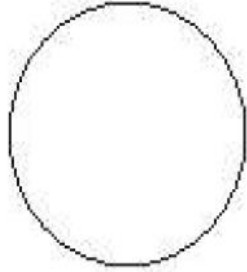
الف: خط‌های رسم شده در مستطیل و مربع روبه‌رو، خط تقارن است.

ب: نیم ساعت بعد از ساعت ۴:۰۷ ساعت ۸ می‌شود.

پ: برای حرف B نمی‌توان خط تقارن رسم کرد.

علوی

۷ برای شکل‌های زیر طوری خط تقارن بکش که تقارن چهار قسمتی داشته باشند.



۸ با توجه به سوالات داده شده، گزینه‌ی صحیح را انتخاب کن.

الف: شش ضلعی داده شده به چه شکل‌هایی تقسیم شده است؟

(۱) شش مثلث

(۲) شش مربع

(۳) شش پنج ضلعی

(۴) شش مستطیل



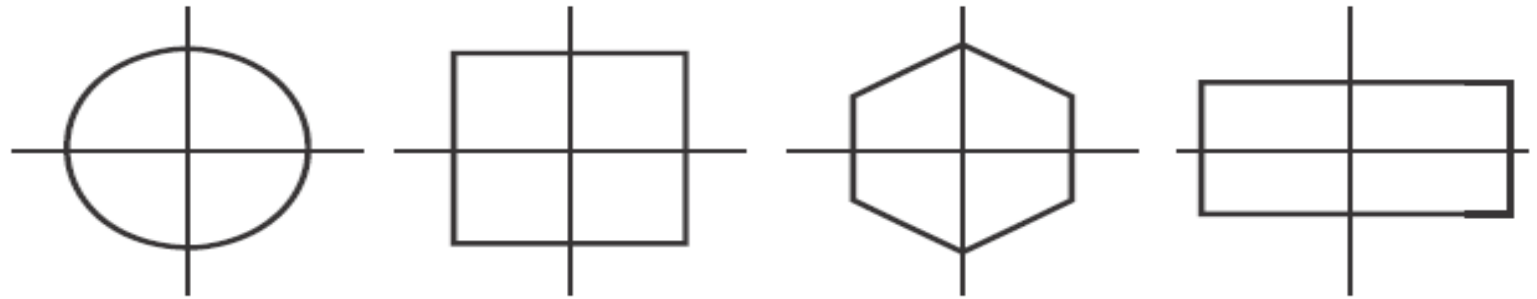
کار علوی

صفحه

۸۵

علوی

۷ برای شکل‌های زیر طوری خط تقارن بکش که تقارن چهار قسمتی داشته باشند.



۸ با توجه به سوالات داده شده، گزینه‌ی صحیح را انتخاب کن.

الف: شش ضلعی داده شده به چه شکل‌هایی تقسیم شده است؟

(۱) شش مثلث

(۲) شش مربع

(۳) شش پنج ضلعی

(۴) شش مستطیل

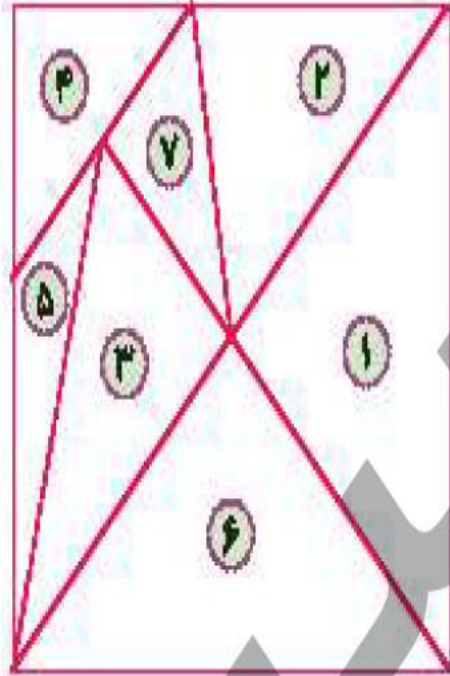


کار علوی

صفحه

۸۵

ب: مربع زیر به هفت قسمت تقسیم شده است. شماره‌ی مثلث‌هایی را که هم‌شکل و هم‌اندازه هستند، کدام است؟



۱) ۱ و ۶

۲) ۷ و ۵

۳) ۲ و ۴ و ۷

۴) ۱ و ۳

کار علوی

صفحه

۸۵

GROUPS

پسر های خوبم
روز خوبی
داشته باشید.
صدیقی