

ارزشیابی ریاضی فصل ۱ تا ۳


۳ صفحه

نام و نام خانوادگی:

۱. در جاهای خالی عدد مناسب بنویسید.
 - یکی و ده تایی برابر است با ۹۸.
 - عدد ۴۷ به نزدیک است.
 - عدد ۲۵ به نزدیک است.
 - سی و دو برابر است با ده تایی و یکی.
۲. جمع های زیر را انجام دهید.

$۱۰ + ۵ + ۱۰ + ۵ + ۲۰ =$	$۳۰ + ۱۰ + ۷ + ۲ + ۱۰ + ۱۰ =$
--------------------------	-------------------------------

۳. با دو کارت زیر چند عدد دو رقمی می توانیم بسازیم؟



-
- ❖ در اعداد بالا ، کوچکترین عدد کدام است؟.....
 - ❖ عدد هایی که یکان از دهگان بزرگتر است را بنویسید
۴. الگوهای زیر را ادامه دهید.

۲ ، ۴ ، ۶ ، ، ،

۵ ، ۱۰ ، ۱۵ ، ، ،

۵. جمع و تفریق ها را به روش فرآیندی حل کنید.

$$\begin{array}{r} ۲۳ \\ + ۳۵ \\ \hline \end{array}$$

$$\begin{array}{r} ۵۸ \\ - ۲۶ \\ \hline \end{array}$$

$$\begin{array}{r} ۴۹ \\ + ۳۸ \\ \hline \end{array}$$

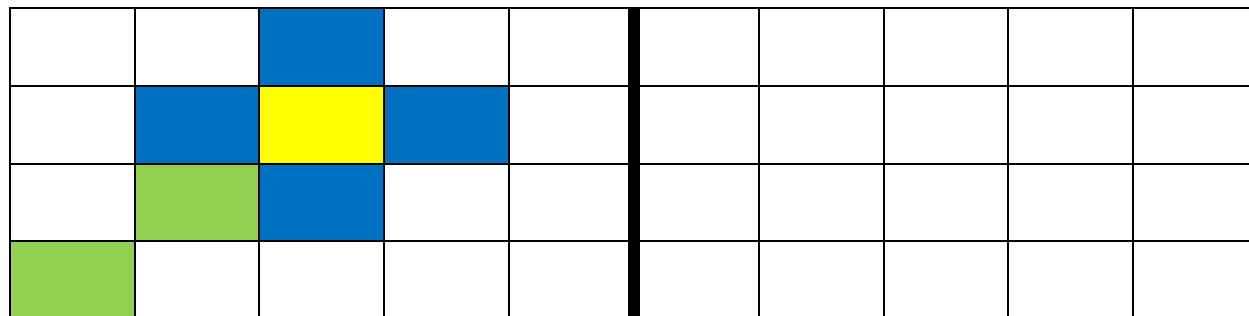
$$\begin{array}{r} ۹۸ \\ - ۶۷ \\ \hline \end{array}$$

↻	۱۱	۱۳	۱۵	۱۷
۱۹				
۲۰				

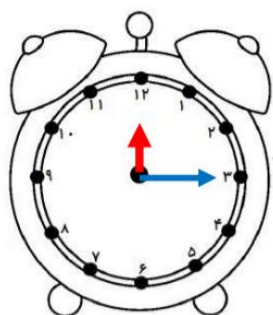
↻	۴	۶	۷	۹
۱۴				
۱۲				

۶. جدول های جمع و تفریق را کامل کنید.

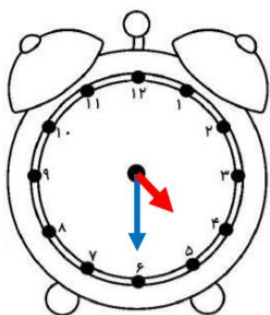
۷. با توجه به خط تقارن رنگ امیزی کنید.



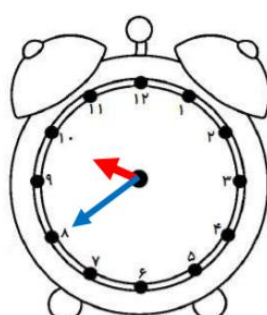
۸. ساعت ها را بنویسید.



ساعت و دقیقه است



ساعت و دقیقه است

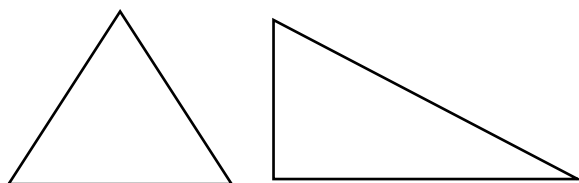


ساعت و دقیقه است



ساعت و دقیقه است

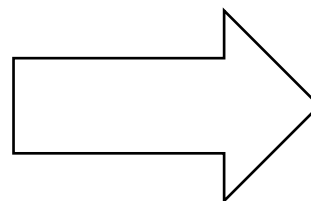
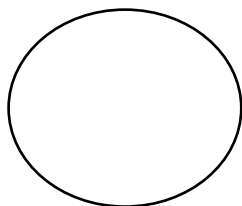

۹. شباهت و تفاوت شکل های زیر را بنویسید.



شباهت:

تفاوت:

۱۰. برای شکل های زیر خط تقارن بکشید.



موفق باشید



نیاز به تلاش



قابل قبول



خوب



خیلی خوب