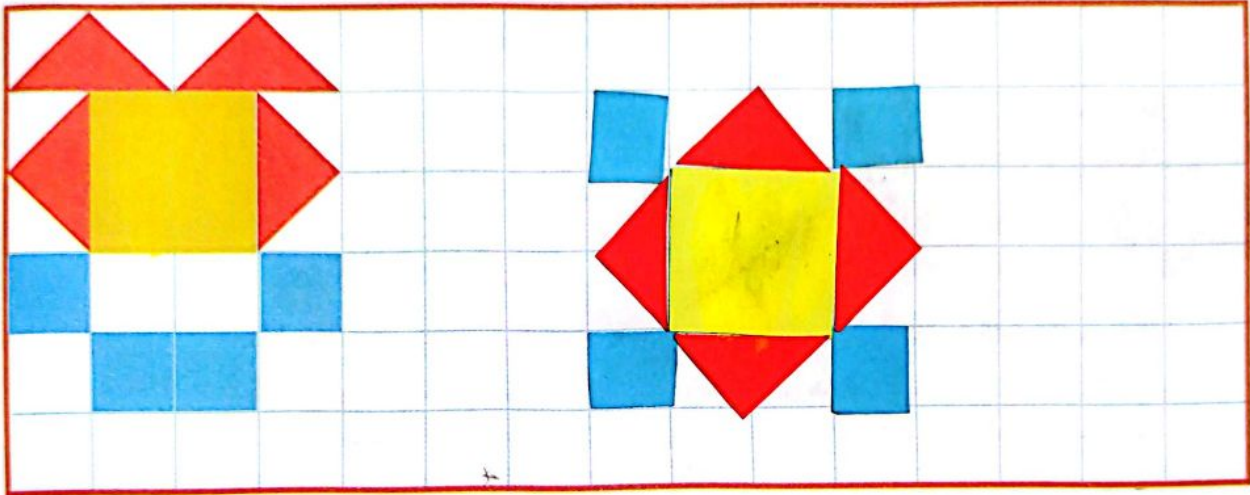



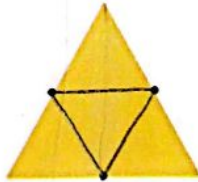
۱۸ / ۹ / ۴۰۲



۱- ۳ مربع بردارید. ۲ تا از مربع‌ها را به ۲ صورت مختلف به ۴ قسمت مثل هم تقسیم کنید. حالا با این ۹ تکه شکل‌های مختلف بسازید و مانند نمونه شکلی را که ساخته‌اید، در قسمت شطرنجی رسم کنید.



۲- با رسم برش‌های لازم، شکل‌ها را به ۴ قسمت مثل هم تقسیم کنید.



۳- ساعت ۲ است. یک ساعت و ربع دیگر چند است؟ $2 + 1 = 3$ ساعت و ربع $3:15$

۴- عقربه‌ی بزرگ را بکشید تا ساعت یک ربع ماندم به ۴ را نشان دهد.

