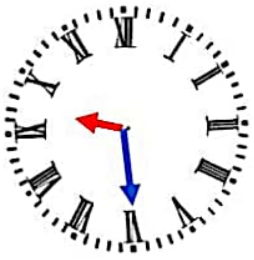
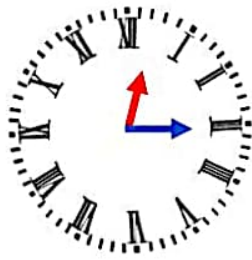


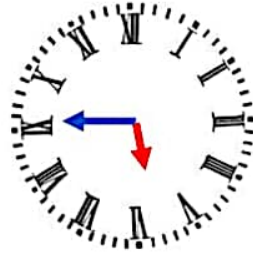
۱. هر ساعت چه زمانی را نشان می دهد مانند نمونه بنویس.



09:00



00:00



00:00

۲. با استفاده از کلمه ی نیم ساعت را به دو صورت بیان کن.



..... : .....



..... : .....



..... : .....



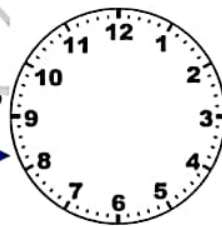
..... : .....

۳. ساعت چند است؟ عقربه بکش.



..... : .....

۲ ساعت بعد




..... : .....



..... : .....

نیم ساعت بعد



..... : .....



..... : .....

نیم ساعت بعد




..... : .....



..... : .....

۲ ساعت و نیم

بعد



..... : .....