

۳- زمانی را که هر ساعت نشان می‌دهد، به دو صورت بنویسید.




هشت و ربع

۸:۱۵




سه و نیم

۳:۳۰



ده و ربع


۱۰:۱۵




دوازده و نیم

۱۲:۱۵

۴- زمان‌های زیر را روی هر ساعت نشان دهید.



نیم ساعت مانده به ۱۰




یک ربع مانده به ۴

۳:۴۵



نیم ساعت بعد از ۷

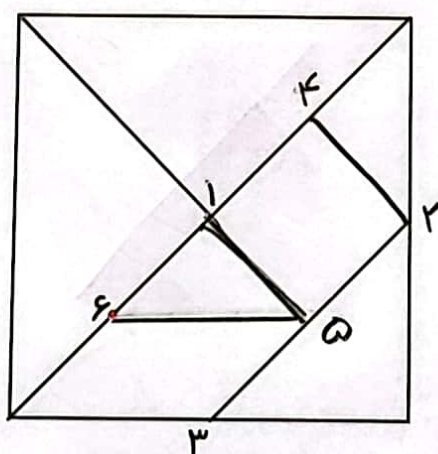
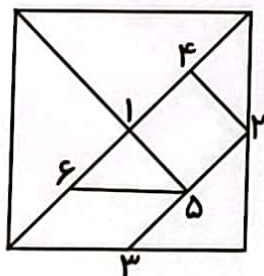


یک ربع بعد از ۹



۵- با توجه به شکل سمت چپ که نشان می‌دهد نقطه‌های مشخص شده وسط ضلع‌ها هستند، سعی کنید

مربع بزرگ را مانند شکل کوچک رسم کنید. به این ترتیب یک شکل نمونه‌ی بزرگ‌تر به دست می‌آید.

شماره‌ی روی نقطه‌ها ترتیب کار شما را نشان می‌دهد. هر تکه از نمونه‌ی بزرگ‌تر را با یک رنگ، رنگ آمیزی کنید.


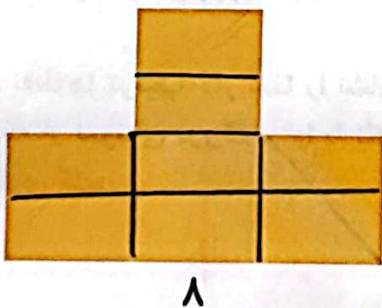
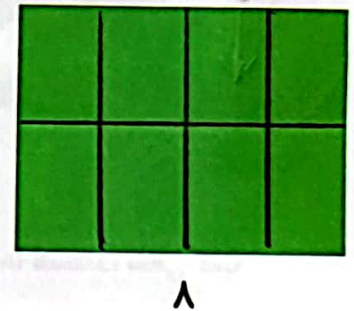

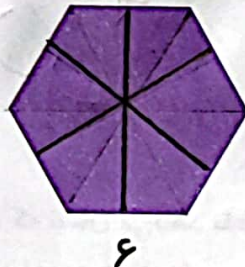
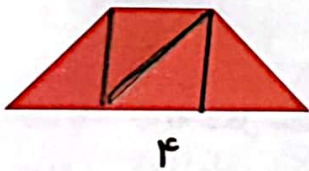
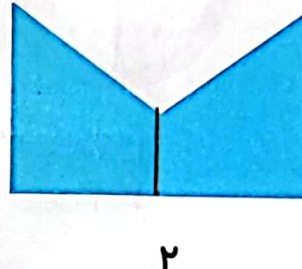

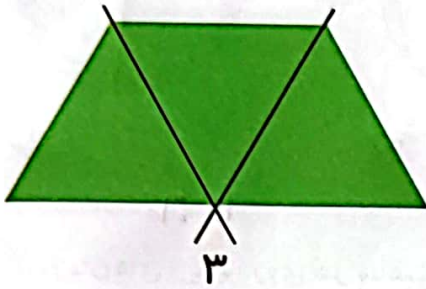


۶- الگوهای زیر را ادامه دهید. هر بار الگو را توصیف کنید.



۵ ۳

با رسم برش‌های لازم شکل‌ها را مانند نمونه به قسمت‌های مساوی تقسیم کنید.
تعداد قسمت‌های مساوی در هر شکل زیر آن نوشته شده است.



فرهنگ خواندن

افسانه‌ی تانگرام

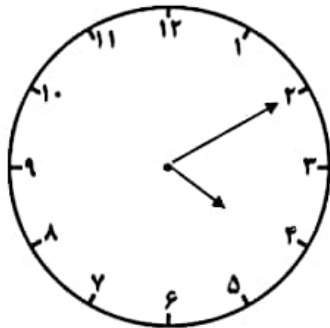
می‌گویند در زمان‌های خیلی قدیم، در سرزمین چین یک کاشی‌کار زندگی می‌کرد. روزی یک کاشی آبی رنگ مربع‌شکل از دست او افتاد و شکست و ۷ تکه شد. او سعی کرد با کنار هم قرار دادن این ۷ قطعه و چسباندن آن‌ها دوباره کاشی را درست کند؛ اما موفق نشد دوباره مربع را بسازد، در عوض چندین شکل مختلف به دست آورد. در آن زمان مردم با علاقه‌ی زیاد این کار را دنبال کردند و با ۷ قطعه‌ی تانگرام شکل‌های بسیار زیادی درست کردند.

ساعت های زیر را به دو صورت بنویس.



.....

.....



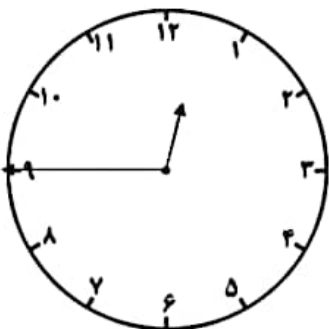
.....

.....



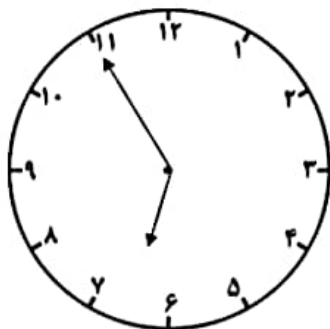
.....

.....



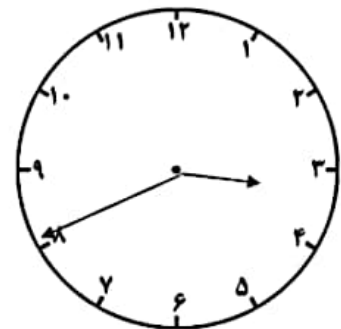
.....

.....



.....

.....



.....

.....