





۱- آموزگار دسته‌های ده‌تایی و یکی را به گروه‌های ۲ نفره می‌دهد. ۹ دسته‌ی ده‌تایی را کنار هم بگذارید.



چه عددی ساخته می‌شود؟ ۹۰  
یک دسته‌ی ده‌تایی دیگر کنار آن قرار دهید. حالا عدد صد ساخته شده است. این عدد را به صورت ۱۰۰ می‌نویسند. حالا از ابتدا دسته‌های ده‌تایی را یکی یکی بشمارید و کنار هم بگذارید و عددها را بنویسید.

۱۰۰ - ۹۰ - ۸۰ - ۷۰ - ۶۰ - ۵۰ - ۴۰ - ۳۰ - ۲۰ - ۱۰

۲- ۹ دسته‌ی ده‌تایی را کنار هم بگذارید. از یکی‌ها یکی بردارید و کنار آن بگذارید. هربار عددی را که ساخته می‌شود، بنویسید.



۱۰۰ - ۹۹ - ۹۸ - ۹۷ - ۹۶ - ۹۵ - ۹۴ - ۹۳ - ۹۲ - ۹۱ - ۹۰



در هر شکل چند تا مربع کوچک وجود دارد؟ تعداد آن را بنویسید.

شکل ۱



شکل ۲



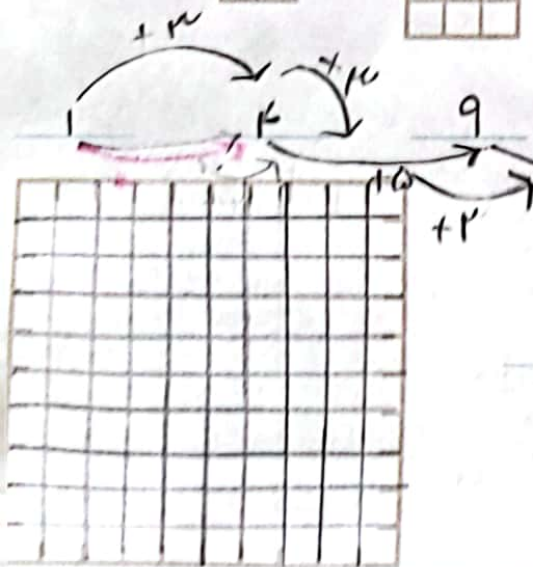

شکل ۳



شکل ۴



شکل ۵



شکل‌های چهارم و پنجم را با خط کش کامل کنید. تعداد مربع‌های هر شکل را زیر آن بنویسید. حدس می‌زنید شکل دهم چند تا مربع دارد؟ ۱۰۰

شکل دهم را با خط کش کامل کنید و تعداد مربع‌ها را بنویسید. ۱۰۰

۱) ساعت ۲۰ : ۵ دقیقه است ، ۲ ساعت بعد از آن چه ساعتی است؟

۲) ساعت ۳۰ : ۸ دقیقه است ، ۱ ساعت بعد از آن چه ساعتی است؟


۲) ساعت ۳۰ : ۲ دقیقه است ، ۶ ساعت بعد از آن چه ساعتی است؟



ساعت ۱۱ و ربع



۷:۱۰



ساعت ۲



۱۲:۴۰



ساعت ۳ و نیم



ساعت ۵ و ۳۵ دقیقه



۴:۲۰



ساعت ۱۰ و ۱۰ دقیقه



۹:۰۰