

ق ا ب





به نام خداوند بخشنده و مهربان

فصل سوم عددهای سه رقمی

آموزگار: خانم خاکسار

دبستان و پیش دبستان علوی

صفحه ی ۶۳



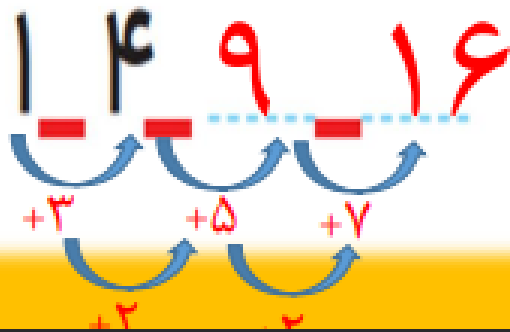



۲- هر شکل از چند کاشی مربع درست شده است؟ الگوی آن را ادامه دهید.



۱ ۴

— — — — —

۲- هر شکل از چند کاشه مربع شکل درست شده است؟ الگوی آن را ادامه دهید.



حذف حالت‌های نامطلوب

۱- با کارت‌های رقم‌های ۴، ۳ و ۹ تمام عددهای سه رقمی را بسازید و بنویسید.

بین عددهایی که نوشته‌اید، عددی بنویسید که: الف) کوچک‌ترین عدد باشد.

ب) رقم دهگان آن بیشتر از رقم یکان باشد و رقم صدگان کمتر از رقم یکان باشد.

ج) رقم صدگان کمتر از رقم یکان باشد.

۲- تمام عددهای سه رقمی را که با رقم‌های ۲ و ۴ و ۶ می‌توان نوشت، بنویسید به گونه‌ای که جمع رقم‌های یکان و صدگان آن برابر رقم دهگان باشد. این مسئله چند جواب دارد؟



حذف حالت‌های نامطلوب



۱- با کارت‌های رقم‌های ۴، ۳ و ۹ تمام عددهای سه رقمی را بسازید و بنویسید.

۳۴۹ - ۳۹۴ - ۴۳۹ - ۴۹۳ - ۹۳۴ - ۹۴۳

بین عددهایی که نوشته‌اید، عددی بنویسید که: الف) کوچک‌ترین عدد باشد. ۳۴۹

ب) رقم دهگان آن بیشتر از رقم یکان باشد و رقم صدگان کمتر از رقم یکان باشد. ۳۹۴

ج) رقم صدگان کمتر از رقم یکان باشد. ۴۳۹ یا ۳۹۴ یا ۳۴۹

۲- تمام عددهای سه رقمی را که با رقم‌های ۲ و ۴ و ۶ می‌توان نوشت، بنویسید به گونه‌ای که جمع رقم‌های یکان و صدگان آن برابر رقم دهگان باشد. این مسئله چند جواب دارد؟



۶۶۶-۲۲۲-۴۴۴-۶۴۲-۶۲۴-۴۶۲-۴۲۶-۲۶۴-۲۴۶



02:25

به سؤال‌های زیر جواب دهید.

۵ دقیقه بعد از ساعت ۲:۲۵ چه ساعتی است؟

۱۰ دقیقه بعد از ساعت ۱۰:۰۵ چه ساعتی است؟

۱۵ دقیقه بعد از ساعت ۷:۴۵ چه ساعتی است؟

نیم ساعت بعد از ساعت ۳:۳۰ چه ساعتی است؟

یک ربع بعد از ساعت ۴:۱۵ چه ساعتی است؟

در بعضی مسئله‌ها با در نظر گرفتن شرایطی که در آن مسئله گفته شده است، می‌توان حالت‌های نامطلوب را حذف کرد تا خواسته‌ی مسئله به دست آید.



02:25

به سؤال‌های زیر جواب دهید.

۲:۳۰

۵ دقیقه بعد از ساعت ۲:۲۵ چه ساعتی است؟

۱۰:۱۵

۱۰ دقیقه بعد از ساعت ۱۰:۰۵ چه ساعتی است؟

۸:۰۰

۱۵ دقیقه بعد از ساعت ۷:۴۵ چه ساعتی است؟

۴:۰۰

نیم ساعت بعد از ساعت ۳:۳۰ چه ساعتی است؟

۴:۳۰

یک ربع بعد از ساعت ۴:۱۵ چه ساعتی است؟

در بعضی مسئله‌ها با در نظر گرفتن شرایطی که در آن مسئله گفته شده است، می‌توان حالت‌های نامطلوب را حذف کرد تا خواسته‌ی مسئله به دست آید.