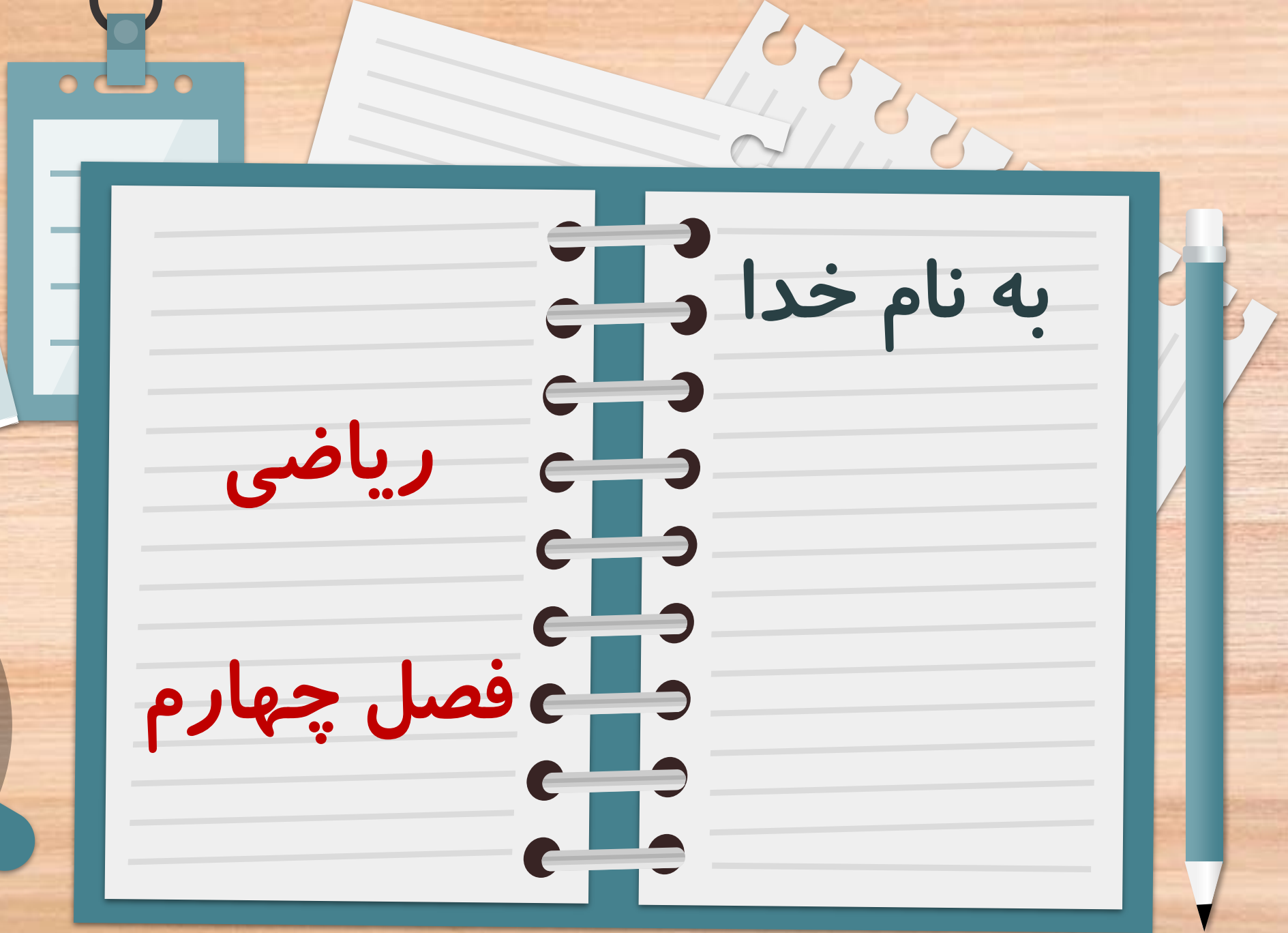


به نام خدا

ریاضی

فصل چهارم



فعالیت کلاسی



۱ رقم ۶ در هر کدام از عددهای زیر در چه مرتبه‌ای قرار دارد؟

۱

۶۱۵



۲۱۶



۶۰۵



۳۶۵



۴۳۶



۲ کوچک‌ترین عدد سه‌رقمی و بزرگ‌ترین عدد سه‌رقمی می‌باشد.

۲

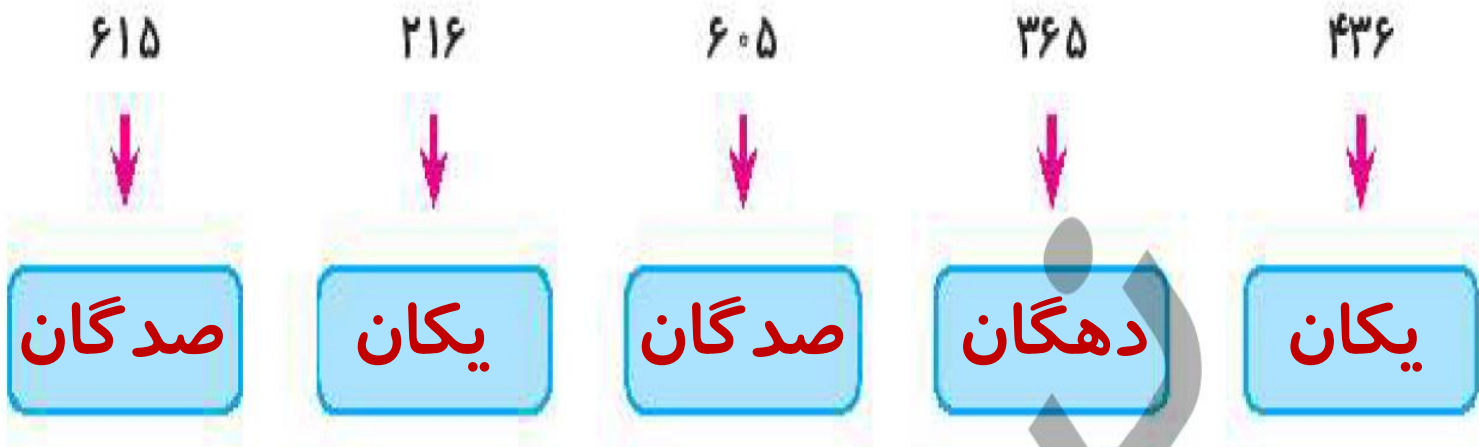
کار
علوی
صفحه
۹۶

فعالیت کلاسی



۱ رقم ۶ در هر کدام از عددهای زیر در چه مرتبه‌ای قرار دارد؟

۱



۲ کوچک‌ترین عدد سه‌رقمی ۱۰۰ و بزرگ‌ترین عدد سه‌رقمی ۹۹۹ می‌باشد.

کار

علوی

صفحه

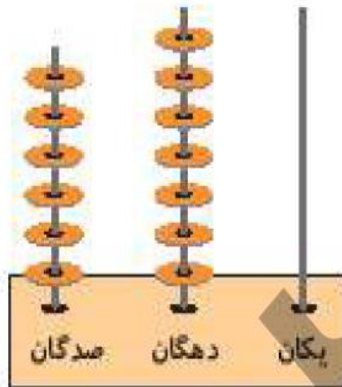
۹۶

۲ با توجه به شکل‌ها، جدول و جاهای خالی را پر کن.



صدگان	دهگان	یکان

..... به رقم:
..... به حروف:



صدگان	دهگان	یکان

..... به رقم:
..... به حروف:

کار
علوی
صفحه
۹۶

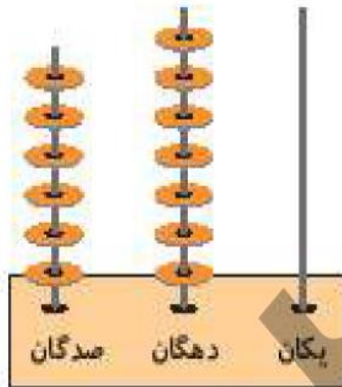
۲ با توجه به شکل‌ها، جدول و جاهای خالی را پر کن.



صدگان	دهگان	یکان
۵	۳	۴

به رقم: ۵۳۴

به حروف: پانصد و سی و چهار



صدگان	دهگان	یکان
۶	۷	۰

به رقم: ۶۷۰

به حروف: ششصد و هفتاد

کار

علوی

صفحه

۹۶



سکه‌ی روبه‌رو را با چند سکه‌ی ۱۰۰ ریالی می‌توانیم عوض کنیم؟

۴

..... سکه‌ی ۱۰۰ ریالی

تمام عددهای سه رقمی را درست کن و بنویس.

۱ ، ۰ ، ۶

۵



ب: از بین عددهایی که نوشتی، عددی را پیدا کن که رقم صدگانش از دهگان بیشتر و از یکان کمتر باشد.



ریاضی دوم دبستان



کار
علوی
صفحه
۹۶

سکه‌ی روبه‌رو را با چند سکه‌ی ۱۰۰ ریالی می‌توانیم عوض کنیم؟



..... ۵ سکه‌ی ۱۰۰ ریالی



الف: با کارتهای عدد ۱، ۰، ۶ تمام عددهای سه رقمی را درست کن و بنویس.



..... ۱۰۶ - ۱۶۰ - ۶۰۱ - ۶۱۰

ب: از بین عددهایی که نوشتی، عددی را پیدا کن که رقم صدگانش از دهگان بیشتر و از یکان کمتر باشد.

..... ۱۰۶




کار
علوی
صفحه
۹۶

تمرین



هر عدد را به شکل مربوط به آن، وصل کن.





کار
علوی
صفحه
۹۷

تمرین



هر عدد را به شکل مربوط به آن، وصل کن.



کار
علوی
صفحه
۹۷

کار

علوی

صفحه

۹۷

۲ درستی و نادرستی هر عبارت را مشخص کن.

الف: ۳ دسته صدتایی، ۵ دسته ده‌تایی و ۷ تا یکی می‌شود ۲۵۷.

ب: کوچک‌ترین عدد سه رقمی، ۱۰۰ می‌باشد.

پ: در شمارش صدتاصدتا، عدد قبل از ۷۰۰، عدد ۸۰۰ می‌باشد.

۳ جاهای خالی را کامل کن.

الف: در عدد ۴۱۶، رقم صدگان، رقم دهگان ۱ و رقم یکان است.

ب: هر عدد سه رقمی از رقم ساخته شده است که به اولین رقم از سمت راست یکان، دومین رقم

و به سومین رقم می‌گوییم.

پ: درنا با ۹ سکه ۱۰ ریالی و ۹ سکه ۱ ریالی، یک مداد خرید. پول درنا ریال بوده است.

۲ درستی و نادرستی هر عبارت را مشخص کن.

الف: ۳ دسته صدتایی، ۵ دسته ده‌تایی و ۷ تا یکی می‌شود ۳۵۷.

ب: کوچک‌ترین عدد سه رقمی، ۱۰۰ می‌باشد.

پ: در شمارش صدتاصدتا، عدد قبل از ۷۰۰، عدد ۸۰۰ می‌باشد.

۳ جاهای خالی را کامل کن.

الف: در عدد ۴۱۶، رقم صدگان^۴، رقم دهگان ۱ و رقم یکان^۶ است.

ب: هر عدد سه رقمی از^۳ رقم ساخته شده است که به اولین رقم از سمت راست یکان، دومین رقم **دهگان** و به سومین رقم **صدگان** می‌گوییم.

پ: درنا با ۹ سکه ۱۰ ریالی و ۹ سکه ۱ ریالی، یک مداد خرید. پول درنا^{۹۹} ریال بوده است.

کار

علوی

صفحه

۹۷

عددهای زیر را به رقم و حروف بنویس.

دویست و نه:

۳۱۵

پانصد و پانزده:

۲۵۹

نهصد و چهل و چهار:

۷۰۱

هفتصد و پنجاه و دو:

۸۶۲

ششصد و هفت:

۴۰۴

اعداد سه رقمی ► فصل چهارم

۹۷

کار

علوی

صفحه

۹۷

دویست و نه:	۲۰۹	سیصد و پانزده: ۳۱۵
پانصد و پانزده:	۵۱۵	دویست و پنجاه و نه: ۲۵۹
نهصد و چهل و چهار:	۹۴۴	هفتصد و یک: ۷۰۱
هفتصد و پنجاه و دو:	۷۵۲	هشتصد و شصت و دو: ۸۶۲
ششصد و هفت:	۶۰۷	چهارصد و چهار: ۴۰۴

اعداد سه رقمی ▶ فصل چهارم

۹۷

کار

علوی

صفحه

۹۷

GROUPS

پسر های خوبم
روز خوبی
داشته باشید.
صدیقی