

طرح سنجش استعداد: مداد قرمز ۱- توصیفی

هفته چهارم آبن مدت زمان: ۴۵ دقیقه

نام خانوادگی: .....

نام: .....

شماره ملی: .....

شعبه: ..... کلاس: .....

۳) گزینه صحیح را انتخاب کنید.

الف) یکتا ۸۰ شاخه گل داشت و آن‌ها را به صورت دسته‌های ده‌تایی درست کرده بود. دیروز ۳ دسته از گل‌ها را فروخت. حالا برای یکتا چند دسته گل باقی مانده است؟

- (۱) ۵۰ دسته (۲) ۵ شاخه (۳) ۵ دسته

ب) عدد ۴۷ یعنی:

(۱) ۷ ده‌تایی و ۴ یکی

(۲) ۴ ده‌تایی و ۷ یکی

پ) قبل و بعد عدد ۸۷ می‌شود:

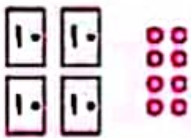
- (۱) ۸۸-۸۶ (۲) ۸۵-۸۶ (۳) ۸۸-۸۹

۴) جاهای خالی را کامل کنید.

الف) عدد ۵۲ چند رقم دارد؟ ..... رقم‌های آن ..... و ..... است. با همین ارقام، عدد ..... رقم دهگش از رقم یکان آن کمتر است.

ب) با رقم‌های ۸، ۰ و ۷ عددهای دورقمی بنویسید.

پ) با توجه به شکل کامل کنید.



با عدد: .....

با حروف: .....

۱) حاصل جمع و تفریق‌ها را با توجه به شکل‌ها پیدا کرده و وصل کنید.



۵) جمع و تفریق زیر را به روش فرآیندی (مرحله به مرحله) حل کنید.

$$\begin{array}{r} ۵۷ \\ + ۳۲ \\ \hline \end{array}$$

$$\begin{array}{r} ۹۷ \\ - ۱۲ \\ \hline \end{array}$$

۲) درستی یا نادرستی جمله‌های زیر را مشخص کنید.

- | نادرست                   | درست                     |   |
|--------------------------|--------------------------|---|
| <input type="checkbox"/> | <input type="checkbox"/> | الف) اگر ساعت ۹ باشد، دو ساعت قبل ساعت ۸ است.           |
| <input type="checkbox"/> | <input type="checkbox"/> | ب) در شمارش ۵ تا ۵ تا قبل از عدد ۳۵ می‌شود ۳۰.          |
| <input type="checkbox"/> | <input type="checkbox"/> | پ) عدد دورقمی که یکان آن ۹ و دهگان آن ۳ باشد می‌شود ۳۹. |
| <input type="checkbox"/> | <input type="checkbox"/> | ت) عدد ۳۴ به عدد ۴۰ نزدیک‌تر است تا عدد ۳۰.             |

# فعالیت کلاسی



۱ رقم ۶ در هر کدام از عددهای زیر در چه مرتبه‌ای قرار دارد؟

۶۱۵	۲۱۶	۶۰۵	۳۶۵	۴۳۶
↓	↓	↓	↓	↓
صدگان	یکان	صدگان	دهگان	یکان

۲ کوچک‌ترین عدد سه‌رقمی ..... ۱.۵۰ ..... و بزرگ‌ترین عدد سه‌رقمی ..... ۹۹۹ ..... می‌باشد.

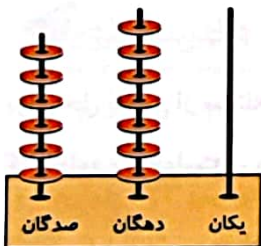
۳ با توجه به شکل‌ها، جدول و جاهای خالی را پر کن.



صدگان	دهگان	یکان
۵	۳	۴

به رقم: ۵۳۴

به حروف: پانصد و سی و چهار



صدگان	دهگان	یکان
۶	۷	۵

به رقم: ۶۷۵

به حروف: ششصد و هفتاد و پنج



→

۱۰۰   ۱۰۰   ۱۰۰   ۱۰۰   ۱۰۰

۴ سکه‌ی روبه‌رو را با چند سکه‌ی ۱۰۰ ریالی می‌توانیم عوض کنیم؟

..... ۵ ..... سکه‌ی ۱۰۰ ریالی

۵ الف: با کارت‌های عدد ۱، ۰، ۶ تمام عددهای سه‌رقمی را درست کن و بنویس.

..... ۲۱۵ ..... ۴۵۱ ..... ۱۶۵ ..... ۱۰۶ .....

ب: از بین عددهایی که نوشتی، عددی را پیدا کن که رقم صدگانش از دهگان بیشتر و از یکان کم‌تر باشد.


..... ۱۰۶ .....



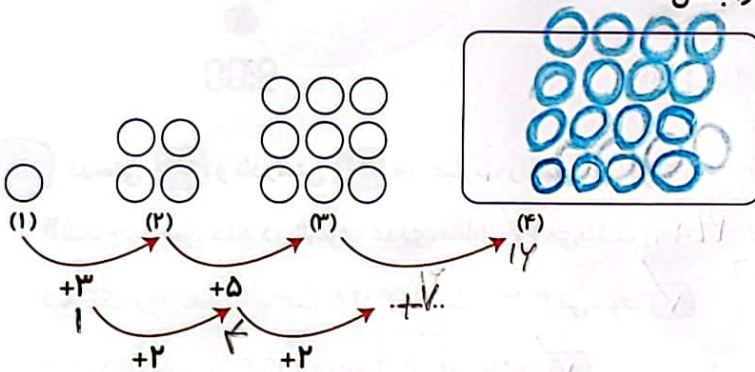




۱ عزیزم با مداد رنگی خود در صفحه‌ی شطرنجی زیر، دو مربع و دو مستطیل با اندازه‌های متفاوت بکش و آن‌ها را طوری رنگ آمیزی کن که سطح را بپوشاند.



۲ در جای خالی عدد مناسب نوشته و شکل چهارم را بکش.



۳ زمانی را که هر ساعت نشان می‌دهد به صورت دیجیتالی بنویس.

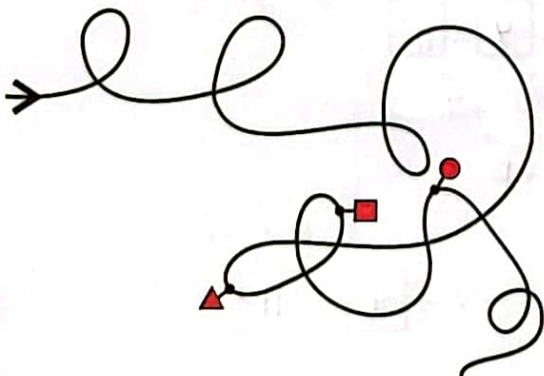
ب:



الف:



۴ اگر از → شروع به حرکت کنیم، به ترتیب به کدام شکل‌ها می‌رسیم؟



- (۱) ● ■ ▲
- (۲) ■ ● ▲
- (۳) ■ ▲ ●
- (۴) ● ▲ ■
- (۵) ▲ ● ■