



ارزشیابی فصل سوم

نام و نام خانوادگی: تاریخ:

۱. جاهای خالی را با کلمات داده شده پر کن. (یک کلمه اضافه است)

نیم - چهار - ربع - برابر - دو

الف) تعداد ضلع‌ها و گوشه‌های چندضلعی‌ها با هم است.

ب) مربع خط تقارن دارد.

پ) در ساعت، به ۱۵ دقیقه و به ۳۰ دقیقه گفته می‌شود.

۲. درست یا نادرست بودن هر جمله را مشخص کن.

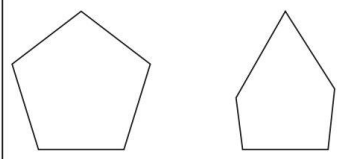
الف) دایره ضلع و گوشه ندارد.

ب) مربع ۲ خط تقارن، ۴ ضلع و ۴ گوشه دارد.

پ) به محل برخورد دو ضلع در یک شکل، گوشه می‌گویند.

نادرست	درست
<input type="checkbox"/>	<input type="checkbox"/>
<input type="checkbox"/>	<input type="checkbox"/>
<input type="checkbox"/>	<input type="checkbox"/>

۳. تفاوت و شباهت شکل‌های مقابل را بنویس.



تفاوت:

.....

.....


شباهت:

.....

.....

۴. یک ربع بعد از ساعت ۸:۴۵ دقیقه چه ساعتی می‌شود؟

این زمان را روی ساعت زیر نشان بده.



۱۹۶

ارزشیابی فصل سوم

نام و نام خانوادگی: تاریخ:

۵. زمانی را که هر ساعت نشان می‌دهد بنویس.



ساعت و دقیقه

..... دقیقه مانده به ساعت



ساعت و دقیقه

..... دقیقه مانده به ساعت



ساعت و دقیقه

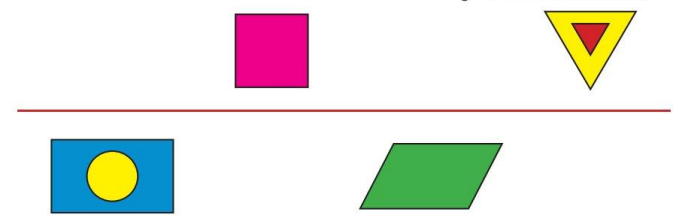
..... دقیقه مانده به ساعت

۶. الگوهای عددی را ادامه بده.


الف) ۳ - ۶ - ۹ - -

ب) ۲ - ۴ - ۸ - ۱۴ - -

۷. هر شکل را نسبت به خط تقارن بکش.





۸. نام هر شکل را زیر آن بنویس، شکلی که تعداد گوشه‌های بیشتری دارد را زرد کن.



.....



۱۹۵



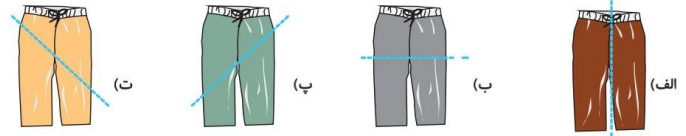


ارزشیابی فصل سوم

نام و نام خانوادگی:

تاریخ:

۹. خط تقارن در کدام شلوار به درستی کشیده شده است؟ دور آن خط بسته بکش.



۱۰. در الگوی عددی مقابل در جای خالی چه زمانی را باید بنویسیم؟

۸:۱۵ - ۸:۲۰ - ۸:۲۵ -

۱۱. درنا ساعت ۱۵:۰۰ از خانه به طرف مدرسه رفت و در ساعت ۱۵:۴۵ به مدرسه رسید. او چند دقیقه در راه بوده است؟ (از تصویر ساعت‌ها کمک بگیر)


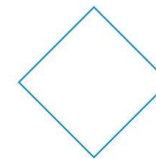


ساعت حرکت از خانه



ساعت رسیدن به مدرسه

۱۲. برای هر شکل طوری خط تقارن بکش که به ۴ قسمت مثل هم تقسیم شود.

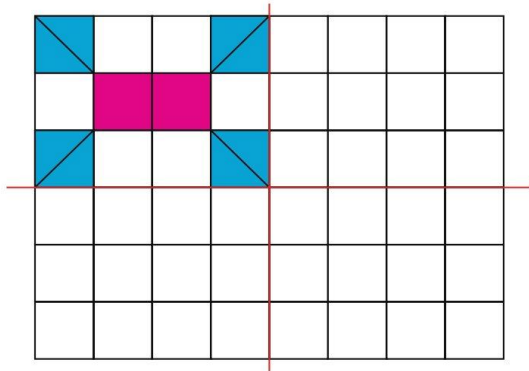


ارزشیابی فصل سوم

نام و نام خانوادگی:

تاریخ:

۱۳. سه قسمت دیگر شکل را با توجه به خط‌های تقارن کامل کن.



چکول خودارزیابی

ملاک	معیار	خیلی خوب	خوب	قابل قبول	نیاز به تلاش
نام اشکال هندسی را می‌دانم.	←	<input type="radio"/>	<input type="radio"/>	<input type="radio"/>	<input type="radio"/>
شعاع و گوشه را در اشکال هندسی تشخیص می‌دهم.	←	<input type="radio"/>	<input type="radio"/>	<input type="radio"/>	<input type="radio"/>
شباهت و تفاوت بین اشکال هندسی را می‌دانم.	←	<input type="radio"/>	<input type="radio"/>	<input type="radio"/>	<input type="radio"/>
ساعت را با ربع و نیم می‌خوانیم.	←	<input type="radio"/>	<input type="radio"/>	<input type="radio"/>	<input type="radio"/>
تقارن دو قسمتی و چهار قسمتی را رسم می‌کنیم.	←	<input type="radio"/>	<input type="radio"/>	<input type="radio"/>	<input type="radio"/>
الگویابی یک مرحله‌ای و دو مرحله‌ای را انجام می‌دهم.	←	<input type="radio"/>	<input type="radio"/>	<input type="radio"/>	<input type="radio"/>

