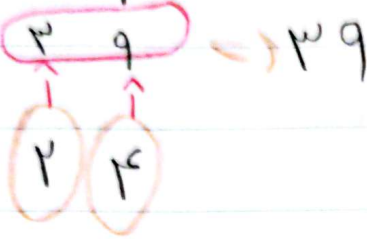



(دو به نام فردا)

۳- اگر به عدد ۲۴، دسته ده تایی و هفتایکی اضافه کنیم چند می شود؟



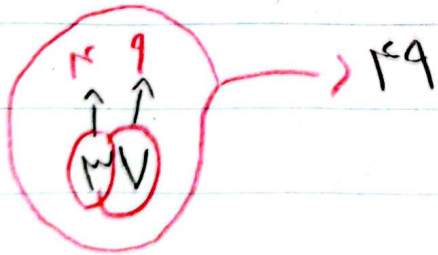
۴- اگر به عدد ۳۵، دسته ده تایی **۴**، دسته ده تایی اضافه کنیم،



چند می شود؟


۵- اگر به ۳۷، دسته ده تایی و ده تایی اضافه کنیم، چه

عددی می شود؟



۶- اگر به ۷۲، دسته صد تایی و ده تایی اضافه کنیم چه

عددی می شود؟



(دسته‌های)

۱- سه دسته‌های متفاوتی را ارائه دهید.

$$4, 8, 12, 16, 20, 24, 28$$

+4

$$5, 10, 15, 20, 25, 30, 35$$

+5

$$7, 14, 21, 28, 35$$

+7

$$2, 11, 18, 24, 30$$

+7

$$5, 7, 14, 21, 28$$

+7

$$15, 20, 25, 30, 35$$

+5

$$8, 12, 16, 20, 24$$

+4

۲- حاصل جمع عبارات درست آورید.

$$5 + 5 + 20 + 10 = 40$$

$$3 + 14 + 10 + 20 + 5 = 52$$

$$20 + 5 + 3 + 5 + 10 = 43$$

«به نام خدا»

۷- با کارت ۲ و ۵ هر تعداد عدد سه رقمی می توان بسازد

الف) بزرگترین عدد کدام است؟ 542

542 - 524 - 254 - 245 - 425 - 452

۸- با کارت ۱ و ۵ هر تعداد عدد سه رقمی می توان بسازد

الف) کوچکترین عدد کدام است؟ 155

155 - 515 - 551 - 155

«به نام خدا»

۱- جمع و تفریق های زیر انجام دهید.

$$\begin{array}{r} 22 \\ + 27 \\ \hline 49 \\ + 4 \\ \hline 53 \\ \hline 59 \end{array}$$

$$\begin{array}{r} 75 \\ - 34 \\ \hline 41 \\ \hline 75 \\ - 4 \\ \hline 71 \end{array}$$

$$\begin{array}{r} 56 \\ - 32 \\ \hline 24 \\ - 2 \\ \hline 22 \end{array}$$

$$\begin{array}{r} 39 \\ + 24 \\ \hline 63 \\ + 7 \\ \hline 70 \end{array}$$

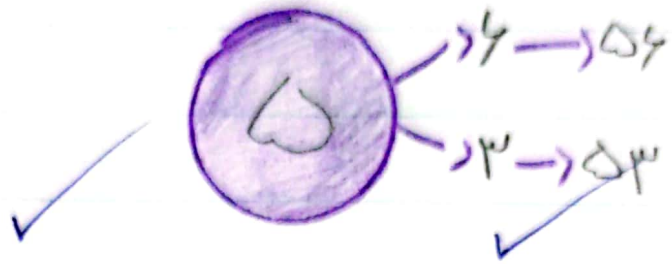
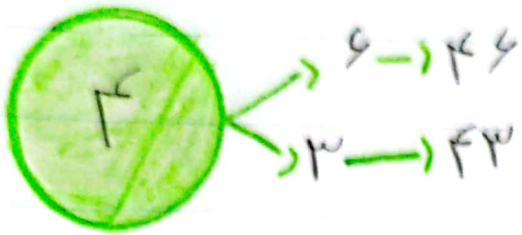
$$\begin{array}{r} 76 \\ + 25 \\ \hline 101 \\ + 5 \\ \hline 106 \end{array}$$

$$\begin{array}{r} 95 \\ - 34 \\ \hline 61 \\ - 2 \\ \hline 59 \end{array}$$

Elipon

(به نام فردا)

۲- عدد هارقی بنویسید که یکان آن ۶ و دهگان آن ۵ و ۳ باشد.



۳- عددی را بنویسید که صدگان ۷ و دهگان آن ۳ تا از صدگان کم تر و یکان آن یکی از صدگان بیشتر باشد.

۷۳۱



۴- عددی را بنویسید که صدگان آن ۵ دهگان آن ۲ تا از صدگان بیشتر و یکان آن ۲ تا از صدگان کم تر باشد.

۵۹۲

۲ ۳