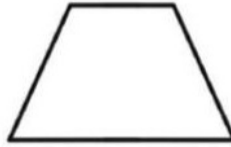


۱- تعداد ضلع ها و گوشه ها را بنویس.



ضلع:
گوشه:



ضلع:
گوشه:



ضلع:
گوشه:




۲- دو شکل مربع و مستطیل بکش و بنویس این دو شکل چه شباهت ها و تفاوت هایی دارند؟

تفاوت:

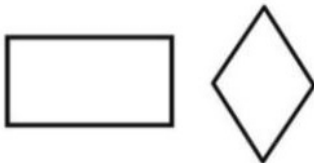
شباهت:



۳- خط تقارن شکل های زیر را رسم کنید و شکلی که خط تقارن ندارد را نشان دهید.



۴- دو شکل زیر چه تفاوت ها و شباهت هایی با هم دارند.



تفاوت:

شباهت:

۱- اعداد زیر را به رقم و حروف بنویسید.

پانصد و بیست و نه: ۳۴۷:

سیصد و شصت و سه: ۵۲۳:

هشتصد و هفتاد: ۲۳۱:

ششصد و نه: ۴۰۱:



۲- کامل کن.

الف) کوچک ترین عدد سه رقمی است. ب) بزرگ ترین عدد سه رقمی است.

۳- مریم چهار سکه ی ۱۰۰ ریالی و سه سکه ی ۱۰ ریالی و شش سکه ی ۱ ریالی دارد. مریم روی هم چند ریال دارد؟



۴- زهرا هفت سکه ی ۱۰۰ ریالی و دو سکه ی ۱۰ ریالی و یک سکه ی ۱ ریالی دارد. زهرا روی هم چند ریال دارد؟



۵- یکان عددی ۲ دهگان آن ۵ و صدگانش ۷ می باشد آن عدد چند است؟

۶- یکان عددی ۳ دهگان آن ۶ و صدگانش ۴ می باشد آن عدد چند است؟



۷- تمام عدد های سه رقمی را که با رقم های ۳ و ۰ و ۱ می توان نوشت را بنویس.



۸- تمام عدد های سه رقمی را که با رقم های ۴ و ۲ و ۷ می توان نوشت را بنویس.



۹- عدد های زیر را به صورت تقریبی بنویس.

۵۹۲

۷۶۲

۵۳۸

۶۳۶

۴۱۷

۵۹۷

۱۰- الگوی عددی را ادامه دهید.

۲۰۰-۳۰۰-۴۰۰- - - - - -

۵۹۴-۵۹۸- - - - - -

۱۳۱-۱۳۸-۱۴۵- - - - - -

۳۵۰-۳۵۵-۳۶۰- - - - - -

۱۱- گسترده یا باز شده ی اعداد را بنویس.

$$۲۳۵ =$$

$$۵۹۷ =$$

$$۶۴۰ =$$

$$۳۰۲ =$$

$$۴۵۱ =$$

$$۴۷۰ =$$

$$۷۰۶ =$$

۱۲- جمع و تفریق ها را حل کن.

$$\begin{array}{r} ۱۰۵ \\ - ۹ \\ \hline \end{array}$$

$$\begin{array}{r} ۱۰۷ \\ - ۸ \\ \hline \end{array}$$

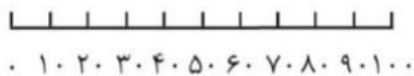
$$\begin{array}{r} ۹۴ \\ + ۹ \\ \hline \end{array}$$

$$\begin{array}{r} ۹۲ \\ + ۹ \\ \hline \end{array}$$

۱۳- صبا ۱۰ سکه ۱ ریالی به بانک می دهد و یک سکه ریالی تحویل می گیرد. اگر صبا ۷۰ سکه یک ریالی به بانک بدهد بانک به او چند سکه ۱۰ ریالی تحویل می دهد؟

۱۴- اگر صبا ۱۰۰ سکه ۱ ریالی به بانک تحویل بدهد بانک چند سکه ۱۰ ریالی به او می دهد؟

۱۵- با توجه به محور، جواب جمع ها و تفریق ها را بنویس.



$$۱۰۰ - ۲ = \dots\dots\dots$$

$$۸۰ - ۴۰ = \dots\dots\dots$$

$$۳۰ + ۴۰ = \dots\dots\dots$$

$$۵۰ + ۵۰ = \dots\dots\dots$$

$$۶۰ + ۳۰ = \dots\dots\dots$$

$$۳۰ + ۴۰ = \dots\dots\dots$$

دومی ها

۱۶- یک ساعت مقوایی درست کن و به کمک آن به سوالات زیر پاسخ بده.



۳۰ دقیقه بعد از ساعت ۴ چه ساعتی است؟
 ۱۵ دقیقه بعد از ساعت ۴ چه ساعتی است؟
 ۲ دقیقه بعد از ساعت ۳:۲۰ چه ساعتی است؟
 ۱ ساعت بعد از ساعت ۵:۳۰ چه ساعتی است؟

۱۷- برای عدد های ۲۷۳ و ۴۶۵ شکل بکش.



۲۷۳:

۴۶۵:

۱۸- با رقم های ۲ و ۴ و ۸ کم ترین و بیش ترین عدد سه رقمی را بنویس.



۱۹- با رقم های ۱ و ۵ و ۳ کم ترین و بیش ترین عدد سه رقمی را بنویس.



۲۰- ابتدا عدد هارا با حذف رقم یکان و دهگان، تقریبی بنویس، سپس عدد ها را جمع یا تفریق کن.

$$\begin{array}{r} 249 \longrightarrow \dots \\ + 322 \longrightarrow - \dots \\ \hline \dots \end{array}$$

$$\begin{array}{r} 473 \longrightarrow \dots \\ + 318 \longrightarrow - \dots \\ \hline \dots \end{array}$$

$$\begin{array}{r} 753 \longrightarrow \dots \\ - 429 \longrightarrow - \dots \\ \hline \dots \end{array}$$