






به نام خدا



ریاضی دوم دبستان

مرور





واحد پول کشور ما

ریال





صدگان


دهگان


یکان


۷


۳

۳











دویست یعنی : ۲ تا ۱۰۰



سیصد یعنی : ۳ تا ۱۰۰



چهارصد یعنی : ۴ تا ۱۰۰



پانصد یعنی : ۵ تا ۱۰۰

(الف) یک سکه ۵۰۰ ریالی برابر است با ۵ سکه ی ریالی

(ب) ۶۰ سکه ی ۱ ریالی برابر است با ۶ سکه ی ریالی

(پ) یک سکه ۱۰۰ ریالی برابر است با ۲ سکه ی ریالی

(ت) هر ۱۰ سکه ی ۱۰ ریالی برابر است با ۱ سکه ی ریالی

(ج) ۸۰ ریال برابر است با ۸ سکه ی ریالی

(چ) ۲ تا سکه ی ۵۰ ریالی برابر است با ۱ سکه یریالی

الف) یک سکه ۵۰۰ ریالی برابر است با ۵ سکه ی۱۰۰۰ ریالی

ب) ۶۰ سکه ی ۱ ریالی برابر است با ۶ سکه ی۱۰۰۰ ریالی

پ) یک سکه ۱۰۰ ریالی برابر است با ۲ سکه ی۵۰۰ ریالی

ت) هر ۱۰ سکه ی ۱۰ ریالی برابر است با ۱ سکه ی۱۰۰۰ ریالی

ج) ۸۰ ریال برابر است با ۸ سکه ی۱۰۰۰ ریالی

چ) ۲ تا سکه ی ۵۰ ریالی برابر است با ۱ سکه ی۱۰۰۰ ریالی

۱- ۵۴ پرستو در حال کوچ بودند که ۲۲ پرستو به سمت آن ها آمدند، ولی در بین راه ۳۸ پرستو جا ماندند . چند پرستو به کوچ خود ادامه دادند؟

۱- ۵۴ پرستو در حال کوچ بودند که ۲۲ پرستو به سمت آن ها آمدند، ولی در بین راه ۳۸ پرستو جا

ماندند . چند پرستو به کوچ خود ادامه دادند؟

$$\begin{array}{r} 54 \\ + 22 \\ \hline 76 \\ + 2 \\ \hline 78 \end{array}$$

$$\begin{array}{r} 76 \\ - 38 \\ \hline 38 \\ - 8 \\ \hline 30 \end{array}$$

۳۸ پرستو به کوچ خود ادامه دادند.

۲- با کارت های ۳ ۵ ۸ چند عدد سه رقمی می توان نوشت؟

الف) بزرگترین عدد سه رقمی کدام است؟

ب) کوچکترین عدد سه رقمی کدام است؟

پ) کدام عدد ها مجموع یکان و دهگان آن ها برابر صدگان می باشد؟

۲- با کارت های ۸ ۵ ۳ چند عدد سه رقمی می توان نوشت؟

۸۵۳ - ۸۳۵ - ۵۸۳ - ۵۳۸ - ۳۸۵ - ۳۵۸

الف) بزرگترین عدد سه رقمی کدام است؟

۸۵۳

ب) کوچکترین عدد سه رقمی کدام است؟


۳۵۸

پ) کدام عدد ها مجموع یکان و دهگان آن ها برابر صدگان می باشد؟

۸۵۳، ۸۳۵


۳- اگر از عدد ۱۷۵ دو دسته ی ده تایی و ۴ یکی برداریم چه عددی می شود؟

۴- تفاوت و شباهت اشکال زیر را بنویس.



تفاوت:

شباهت:




تفاوت:

شباهت:

۳- اگر از عدد ۱۷۵ دو دسته ی ده تایی و ۴ یکی برداریم چه عددی می شود؟


۴- تفاوت و شباهت اشکال زیر را بنویس.

تفاوت: مربع هر ۴ ضلع برابر هستند، مستطیل ۲ ضلع روبه رو برابر هستند.



شباهت: هر دو ۴ ضلع و ۴ گوشه دارند.

تفاوت: مثلث شماره ۱ هر ۳ ضلع برابر هستند، مثلث شماره ۲ ضلع ها برابر نیستند.



شباهت: هر دو ۳ ضلع و ۳ گوشه دارند.