



# کار برگ ۱

درس: ریاضی

عنوان درس: فصل ۴، عددهای سه رقمی

پایه: دوم

مفهوم: تبدیل سکه - الگوی عددی - جمع و تفریق - ارزش سکه - ساعت - (صفحه ی ۵۶ و ۵۷ و ۵۸)

نام دانش آموز:

تاریخ: / /

۱- به سوال های زیر پاسخ بده.

الف) اگر یسنا ۳۰ سکه ی ۱ ریالی به بانک بدهد، چند سکه ی ۱۰ ریالی می گیرد؟

.....

ب) ۴۰ سکه ی ۱۰ ریالی به بانک بدهیم، چند سکه ی ۱۰۰ ریالی می توان گرفت؟

.....

ج) اگر ۲۰۰ سکه ی ۱ ریالی به بانک تحویل دهیم بانک چند سکه ی ۱۰۰ ریالی به ما تحویل می دهد؟

.....




۲- الگوهای عددی زیر را ادامه بده.

۵ - ۱۰ - ۱۵ - ..... - ..... - ..... - .....

۶ - ۱۲ - ۱۸ - ..... - ..... - ..... - .....

۹ - ۱۸ - ۲۷ - ..... - ..... - ..... - .....

۳- جاهای خالی را به کمک محور کامل کن.



$80 - 30 = \dots\dots\dots$

$60 + 40 = \dots\dots\dots$



$50 + \dots = 100$

$100 - 20 = \dots$



ریال .....



ریال .....

۴- ارزش سکه های هر قسمت را بنویس.



ریال .....

۵- به سوال های زیر پاسخ بده:

۱- ۲۵ بعد از ساعت ۸:۱۵ چه ساعتی است؟ .....

۲- ۳۰ پس از ساعت ۷:۰۰ چه ساعتی است؟ .....

۳- ۱۵ بعد از ساعت ۵:۰۰ چه ساعتی است؟ .....

۶- جاهای خالی را کامل کن.

۹۳ - ۹۴ - ۹۵ - ..... - ..... - ..... - .....

۱۰ - ۲۰ - ۳۰ - ..... - ..... - ..... - ..... - .....





۴- به رقم یا حروف بنویس.

۷۴۲ : .....

۵۰۹ : .....

..... ششصد

..... هشتصد و دوازده

۵- سکه‌ی زیر را با چند تا سکه‌ی ۱۰۰ ریالی و چندتا سکه‌ی ۱۰ ریالی می‌توان عوض کرد؟



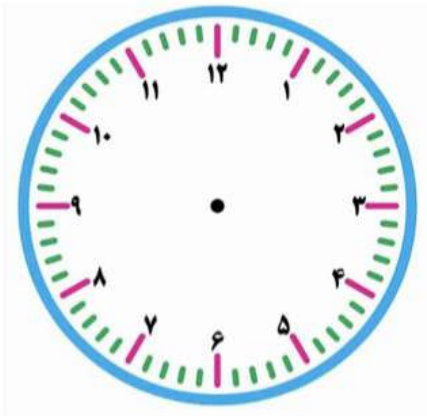
..... سکه‌ی ۱۰۰ ریالی و ..... سکه‌ی ۱۰ ریالی

۶- سکه‌های زیر چند ریال است؟



.....ریال

۲- با توجه به ساعت به سوال های زیر جواب بده.



\* ۱۰ دقیقه بعد از ساعت ۸:۰۵ چه ساعتی است؟

.....

\* نیم ساعت بعد از ساعت ۱۱:۱۰ چه ساعتی است؟

.....

\* ۵ دقیقه بعد از ساعت ۲:۵۵ چه ساعتی است؟

.....

\* یک ربع بعد از ساعت ۵:۴۵ چه ساعتی است؟

.....



# کار برگ ۵

درس: ریاضی

عنوان درس: فصل ۴، عددهای سه رقمی

پایه: دوم

مفهوم: عدد نویسی، تقریب با حذف رقم یکان، تقریب با حذف رقم یکان و دهگان، ارزش سگه، (صفحه‌ی ۶۴ و ۶۵ و ۶۶)

نام دانش آموز:

تاریخ: / /

۱- از عدد ۲۹۶ تا ۳۰۶ را یکی یکی بنویس.

۲۹۶ - ..... - ..... - ..... - ..... - ..... - ..... - ..... - ..... - ..... - .....

۲- از عدد ۵۷۵ تا ۶۶۵ را ده تا ده تا بنویس.

۵۷۵ - ..... - ..... - ..... - ..... - ..... - ..... - ..... - ..... - ..... - .....

۳- از ۱۰۰ تا ۹۰۰ را صدتا صدتا بنویس.

۱۰۰ - ..... - ..... - ..... - ..... - ..... - ..... - ..... - ..... - ..... - .....

۴- عددهای زیر را با حذف رقم یکان به صورت تقریبی بنویس.

|             |             |
|-------------|-------------|
| ۷۴۸ → ..... | ۳۹۶ → ..... |
| ۶۱۱ → ..... | ۹۰۵ → ..... |

۵- مقدار پول را در هر قسمت بنویس.



ریال .....

ریال .....

۶- عددهای زیر را با حذف رقم یکان و دهگان به صورت تقریبی بنویس.

|             |             |
|-------------|-------------|
| ۱۸۴ → ..... | ۵۴۱ → ..... |
| ۸۰۳ → ..... | ۴۸۷ → ..... |

۷- با استفاده از سکه‌های ۱ ریالی و ۱۰ ریالی و ۱۰۰ ریالی به مقدار خواسته شده سکه رسم کن.





# کار برگ ۶

درس: ریاضی

عنوان درس: فصل ۴، عددهای سه رقمی

پایه: دوم

مفهوم: جمع و تفریق سه رقمی با یک رقمی - جمع و تفریق ذهنی - جمع و تفریق دسته‌های صدتایی - حل مساله (صفحه ی ۶۷ و ۶۸)

نام دانش آموز:

تاریخ: / /

۱- حاصل جمع‌های زیر را به دست بیاور.

|  |  |  |   |
|--|--|--|---|
| $\begin{array}{r} 97 \\ + 5 \\ \hline \end{array}$ | $\begin{array}{r} 96 \\ + 4 \\ \hline \end{array}$ | $\begin{array}{r} 98 \\ + 9 \\ \hline \end{array}$ | $\begin{array}{r} 108 \\ + 7 \\ \hline \end{array}$ |
|--|--|--|---|

۲- حاصل تفریق‌های زیر را بنویس.

|   |   |   |   |
|---|---|---|---|
| $\begin{array}{r} 109 \\ - 8 \\ \hline \end{array}$ | $\begin{array}{r} 102 \\ - 6 \\ \hline \end{array}$ | $\begin{array}{r} 101 \\ - 9 \\ \hline \end{array}$ | $\begin{array}{r} 104 \\ - 7 \\ \hline \end{array}$ |
|---|---|---|---|

۳- حاصل جمع و تفریق‌های زیر را به صورت ذهنی بنویس.

|                               |                               |
|-------------------------------|-------------------------------|
| $8 - 5 = \dots\dots\dots$     | $8 + 5 = \dots\dots\dots$     |
| $80 - 50 = \dots\dots\dots$   | $80 + 50 = \dots\dots\dots$   |
| $800 - 500 = \dots\dots\dots$ | $800 + 500 = \dots\dots\dots$ |





# کار برگ ۷

درس: ریاضی

عنوان درس: فصل ۴، عددهای سه رقمی

پایه: دوم

مفهوم: مسأله، تقریب با حذف یکان و دهگان، تقریب به روش گرد کردن، ارزش سکه، چرتکه، ساخت عدد با کارت، گسترده نویسی (صفحه ۷۰ و ۷۱)

تاریخ: / /

نام دانش آموز:

۱- پرهام ۹۷ جلد کتاب دارد. مادرش ۸ جلد کتاب دیگر برای او خرید. حالا پرهام چند جلد کتاب دارد؟

۲- ابتدا عددها را با حذف رقم یکان و دهگان به صورت تقریبی بنویس. سپس حاصل آن‌ها را به دست بیاور.

۳۵۸ → \_\_\_\_\_

۹۵۱ → \_\_\_\_\_

۴۳۹ → + \_\_\_\_\_

۶۰۳ → - \_\_\_\_\_

۳- در جاهای خالی عدد مناسب بنویس.

\* عدد ۲۴۵ به ۲۴۰ نزدیک تر است یا به ۲۵۰؟ .....

عدد ۵۱۳ به ..... نزدیک تر است یا به .....؟ .....

۴- مقدار پول را در هر قسمت بنویس.



۵- عددهای زیر را به صورت باز شده (گسترده) بنویس.

۳۶۹ = .....

۹۰۵ = .....