

۲

در یک پارکینگ ۵ ماشین و موتور پارک بودند. آنها روی هم ۱۶ چرخ دارند. چند ماشین و چند موتور در این پارکینگ

ماشین	موتور
۱	۴
۲	۳
۳	۲

پارک شده‌اند؟ (هر ماشین ۴ چرخ و هر موتور ۲ چرخ دارد.) $4 + 2 + 2 + 2 + 2 = 12^X$ چرخها (۱ و ۴)



$4 + 4 + 2 + 2 + 2 = 14^X$ چرخها (۲ و ۳) 

$4 + 4 + 4 + 2 + 2 = 16^{\checkmark}$ چرخها (۳ و ۲) در این پارکینگ ۳ ماشین و ۲ موتور وجود دارد.

۴

عقربه‌ی بزرگ در ساعت مقابل چند دقیقه حرکت کند تا ساعت ۵:۰۰ شود؟ ۱۰ دقیقه

مقدار حرکت عقربه‌ی ساعت را با رنگ آمیزی نشان بده، سپس زمان آن را بنویس.



۴

در کتاب ریاضی درنا ۶ شکل مربع و مثلث رسم شده است. اگر تعداد ضلع‌های آنها روی هم ۲۰ تا باشد، چندتا از این

مثلث	مربع
۱	۵
۲	۴
۳	۳
۴	۲

مربع مثلث
 $۲۳ = ۳ + ۴ + ۴ + ۴ + ۴ + ۴ =$ تعداد ضلع‌ها (۱ و ۵) \times

شکل‌ها مثلث و چندتا مربع است؟

$۲۲ = ۳ + ۳ + ۴ + ۴ + ۴ + ۴ =$ تعداد ضلع‌ها (۲ و ۴) \times

$۲۱ = ۳ + ۳ + ۳ + ۴ + ۴ + ۴ =$ تعداد ضلع‌ها (۳ و ۳) \times

$۲۰ = ۳ + ۳ + ۳ + ۴ + ۴ + ۴ =$ تعداد ضلع‌ها (۴ و ۲) \checkmark

۴ مثلث و ۲ مربع است.

۵


در یک مزرعه ۴ بز و مرغ وجود دارد. آنها روی هم ۱۰ پا دارند. در این مزرعه چند بز و چند مرغ وجود دارد؟

بز	مرغ
۱	۳


مرغ بز
 $۱۰ = ۴ + ۲ + ۲ + ۲ =$ تعداد پاها (۱ و ۳) \checkmark

۱ بز و ۳ مرغ وجود دارد.

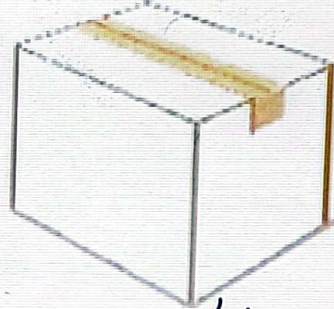
ب: سه جعبه روی میز است. یکی سفید، یکی قرمز و یکی سبز. داخل یکی از آنها یک شکلات و داخل یکی دیگر از آنها یک سیب است. سه جعبه خالی است. در صورتی که بدانیم شکلات یا در جعبه سفید است یا در جعبه قرمز و سیب نه در جعبه سفید است و نه در جعبه سبز، جعبه‌ای که شکلات در آن است چه رنگی است؟



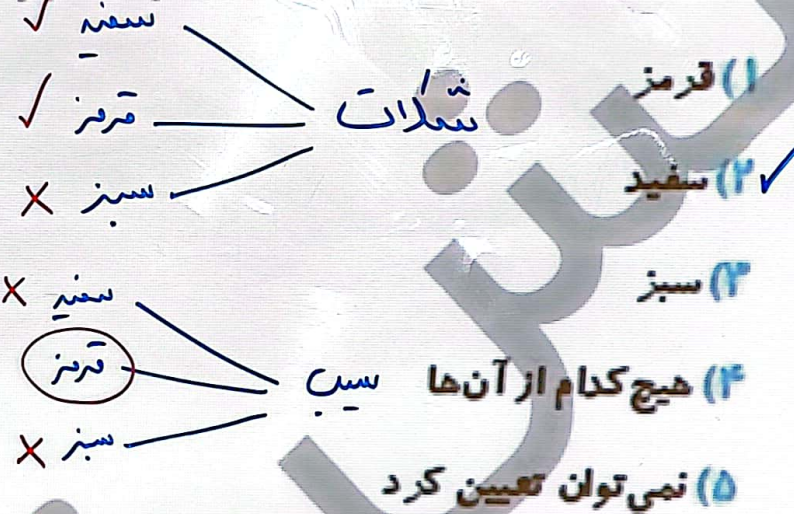
خالی



سیب



شکلات



پ: در یک اتاق ۷ میز و صندلی وجود دارد. اگر تعداد پایه‌های آنها روی هم ۲۴ تا باشد، در این اتاق چند صندلی وجود دارد؟ (هر صندلی ۴ پایه و هر میز ۲ پایه دارد.)

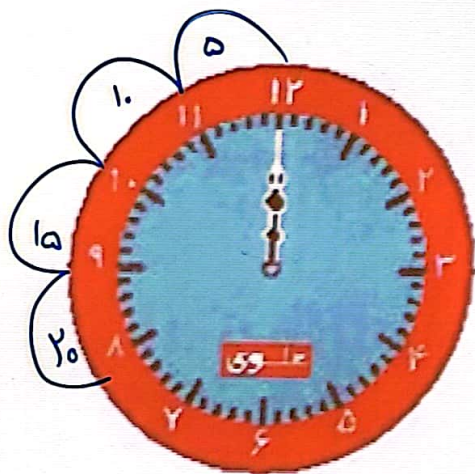
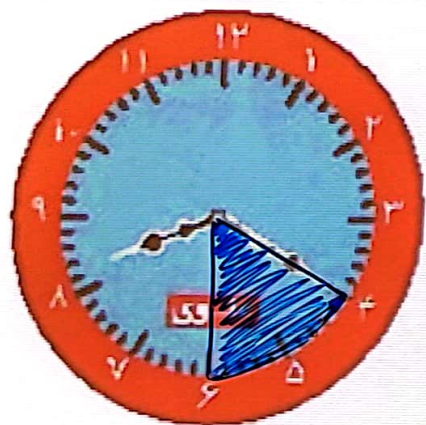


(۴) ۴ میز و ۲ صندلی

(۲) ۵ میز و ۲ صندلی

(۳) ۳ میز و ۴ صندلی

(۱) ۲ میز و ۵ صندلی ✓



۶ با توجه به ساعت ... سوال به سوالات زیر پاسخ بده.

الف: ساعت چند است؟ ۲۰ ۵۰ ۸۰

ب: چند دقیقه‌ی دیگر ساعت ۸ و نیم می‌شود؟ ۱۰ دقیقه

پ: مقدار حرکت عقربه‌ی بزرگ را رنگ کن.

۷ با توجه به سوالات داده شده، گزینه‌ی صحیح را انتخاب کن.

الف: الان ساعت ۱۲ است. چند دقیقه‌ی قبل ساعت ۱۱:۴۰ بوده است؟

(۱) ۲۰ دقیقه قبل ✓

(۲) ۲۵ دقیقه قبل

(۳) ۳۰ دقیقه


(۴) ۳۵ دقیقه

فعالیت کلاسی



۱

مانند نمونه در کنار هر جمله حرف مداد مربوط به آن را بنویس.



ت مدادی که اندازه‌ی آن بین ۳ و ۴ سانتی‌متر است.

پا مدادی که اندازه‌ی آن بین ۷ و ۸ سانتی‌متر است.


الف مدادی که بلندترین طول را دارد.

شا مدادی که اندازه‌ی آن ۸ سانتی‌متر است.




ب مدادی که اندازه‌ی آن بین ۶ و ۷ سانتی‌متر است.

۲ تصویر یک مداد را بکش، طوری که درازای آن بین ۵ و ۶ سانتی‌متر باشد.

برای یک مداد را به صورتی که درازای آن بین ۵ و ۶ سانتی متر باشد.



دлина طول هر خط را حدس بزن، سپس با خط کش اندازه گیری کرده و بنویس.

		
پ:	ب:	الف:
↖	✓	۳
حدس من :	حدس من :	حدس من :
۳	↖	۲
اندازه گیری :	اندازه گیری :	اندازه گیری :

خطکش شما چند سانتی متر است؟ خطالشی دانش آموز

بلندترین خطکش در کلاس شما چند سانتی متر است؟ ... ۲۰ سانتی متر