

## فرهنگ نوشتن

وقتی می خواهید با خط کش اندازه ی یک خط را بگیرید، چه کارهایی انجام می دهید؟ بنویسید.

ابتدا خط کش را کنار خط می گذاریم طوری که عدد صفر دقیقاً ابتدای خط قرار بگیرد و خط کش

را مساف کند خط نگ می داریم و طول خط را با خط کش اندازه می گیریم و انتهای خط هم

عددی را که خط کش نشان داده است اندازه ی خط است که آن را یادداشت می کنیم.



## تمرین

۱- یک پاک کن بردارید و به کمک آن اندازه ی درازای کتاب ریاضی را بگیرید و جمله را کامل کنید.

درازای کتاب ریاضی از ۴ پاک کن بیشتر و از ۵ پاک کن کمتر است.

درازای کتاب بین ۳ و ۵ پاک کن است.


اگر پاک کن شما بزرگ تر بود، اندازه گیری شما دقیق تر می شد یا اگر کوچک تر بود؟ چرا؟ کوچک تر برد چون هر چه

اندازه کوچک تر باشد اندازه دقیق تر است.

اگر اندازه ی کتاب را با یک تراش بگیریم، آیا همان جواب های بالا به دست می آید؟ چرا؟ نه زیرا پاک کن و تراش ما

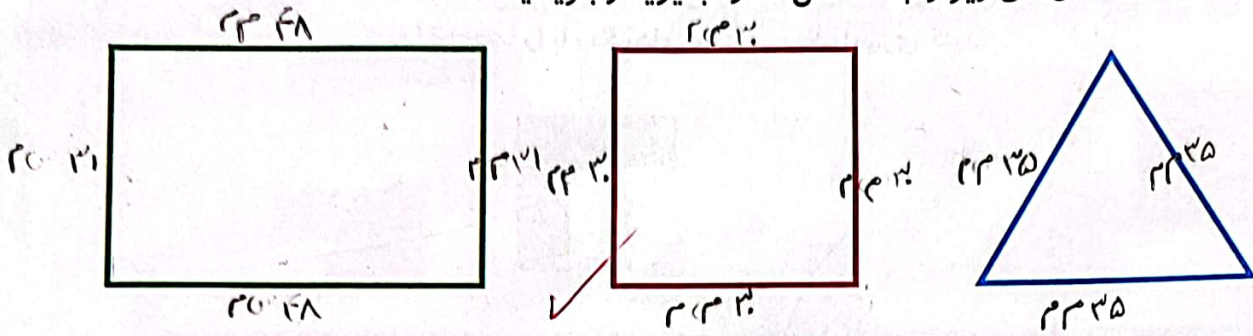
هم اندازه نیستند.

۲- طول ۶ تا از مدادهای رنگی خود را با خط کش اندازه بگیرید.






۳- طول ضلع های شکل های زیر را با خط کش اندازه بگیرید و بنویسید.



۴- طول خط های زیر را با خط کش اندازه بگیرید و نقطه ی وسط هر خط را با خط کش پیدا کنید.




۵- حدس بزنید اندازه ی هر ضلع شکل چند میلی متر است. سپس با خط کش اندازه گیری کنید. اندازه ی ضلع ها چند میلی متر شد؟ چقدر به حدس شما نزدیک بود؟

حدس: ۲۰م

اندازه: ۲۵م

حدس: ۵۰م

اندازه: ۴۸م




حدس: ۹م

اندازه: ۸م


حدس: ۱۲م

اندازه: ۱۲م


۶- طول ضلع های مستطیل های زیر را با خط کش اندازه بگیرید. با دیدن اندازه ی ضلع ها چه نتیجه ای می گیرید؟



۲۲.۴۵



۲۲.۴۵



۲۲.۴۵

اندازه ی طول هر سه مستطیل ها برابر است ولی عرض آن ها با هم فرق می کند.