

مرور فصل

فرهنگ نوشتن

وقتی می خواهید با خط کش اندازه ی یک خط را بگیرید، چه کارهایی انجام می دهید؟ بنویسید.

ابتدا خط کش را کنار خط می گذاریم طوری که صفر خط کش ابتدای خط باشد.
از آن جایی که خط تمام شده است بدون این که خط کش حرکت
کند نگاه می کنیم و بعد آن را می نویسیم.



تمرین

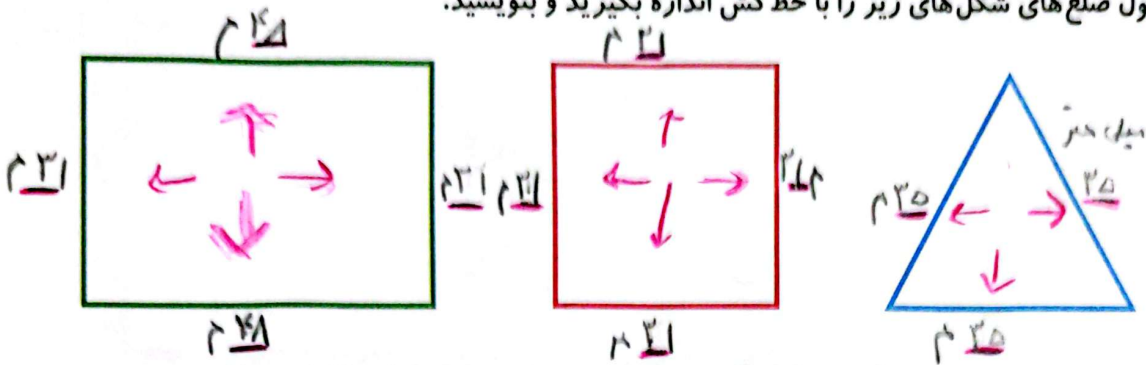
۱- یک پاک کن بردارید و به کمک آن اندازه ی درازای کتاب ریاضی را بگیرید و جمله را کامل کنید.
درازای کتاب ریاضی از ۴ پاک کن بیشتر و از ۵ پاک کن کمتر است.
درازای کتاب بین ۴ و ۵ پاک کن است.

اگر پاک کن شما بزرگ تر بود، اندازه گیری شما دقیق تر می شد یا اگر کوچک تر بود؟ چرا؟
کوچک تر - زیرا اندازه ها دقیق تر است.
اگر اندازه ی کتاب را با یک تراش بگیریم، آیا همان جواب های بالا به دست می آید؟ چرا؟
خیر - زیرا تراش اندازه گیری ما متفاوت شده است.
۲- طول ۶ تا از مدادهای رنگی خود را با خط کش اندازه بگیرید.


۴ سانتی متر و ۶ میلی متر * ۴۶



۳- طول ضلع های شکل های زیر را با خط کش اندازه بگیرید و بنویسید.



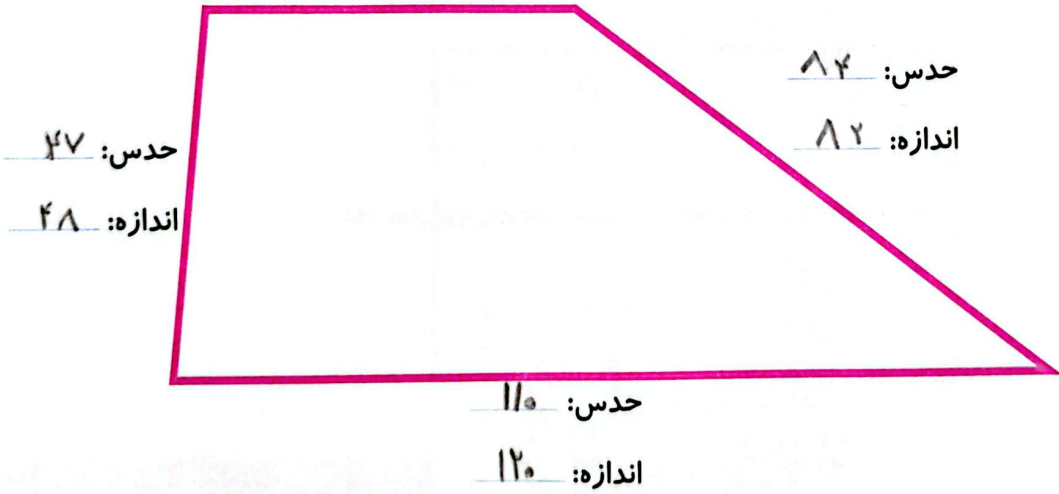
۴- طول خط های زیر را با خط کش اندازه بگیرید و نقطه ی وسط هر خط را با خط کش پیدا کنید.



۵- حدس بزنید اندازه ی هر ضلع شکل چند میلی متر است. سپس با خط کش اندازه گیری کنید. اندازه ی ضلع ها چند میلی متر شد؟ چقدر به حدس شما نزدیک بود؟

حدس: ۵۰

اندازه: ۵۰

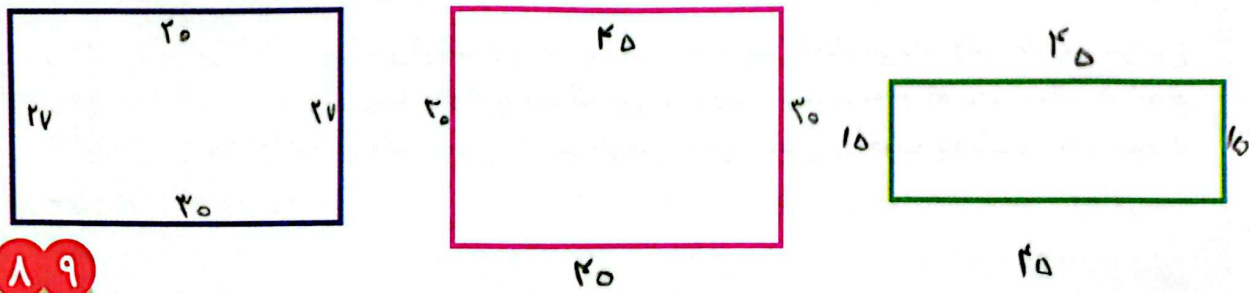


حدس: ۴۷
اندازه: ۴۸

حدس: ۸۴
اندازه: ۸۲

حدس: ۱۱۰
اندازه: ۱۲۰

۶- طول ضلع های مستطیل های زیر را با خط کش اندازه بگیرید. با دیدن اندازه ی ضلع ها چه نتیجه ای می گیرید؟



در مستطیل، ضلع های رو به رو هم اندازه هستند.