



مقایسه‌ی اعداد




۱- ابتدا عددی را که هر شکل نشان می‌دهد، بنویسید و علامت مناسب بگذارید. توضیح دهید چگونه دو عدد دو رقمی را مقایسه می‌کنید؟





$$42 > 29$$




۲- حالا عددهای سه رقمی را مقایسه کنید.



$$212 > 155$$



$$124 < 125$$



$$252 < 301$$



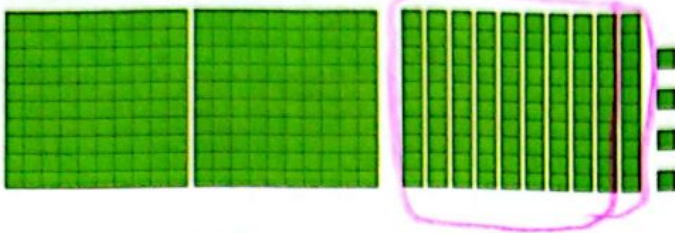
$$210 > 406$$

برای مقایسه‌ی عددها به ارزش رقم‌ها توجه می‌کنیم. ارزش رقم صدگان از دهگان بیشتر است یعنی اگر رقم صدگان یک عدد از رقم صدگان عدد دیگر بیشتر باشد، رقم‌های دهگان و یکان آن‌ها را در نظر نمی‌گیریم.



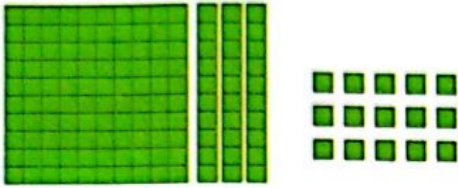
کار در کلاس

۱- تا جایی که می توانید ابتدا دسته های ده تایی یا صد تایی درست کنید، سپس عددی را که هر شکل نشان می دهد، بنویسید.



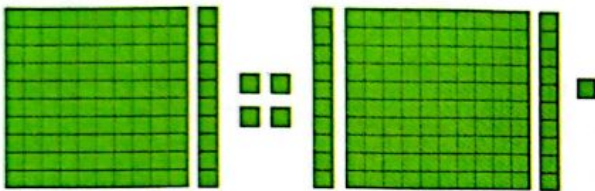
صدگان	دهگان	یکان
۳	۵	۴

۳۵۴




صدگان	دهگان	یکان
۱	۴	۵

۱۴۵



صدگان	دهگان	یکان
۲	۳	۵

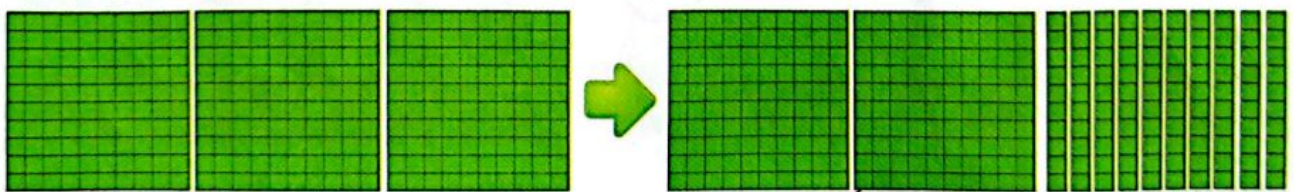
۲۳۵




صدگان	دهگان	یکان
۱	۴	۵

۱۴۵

۲- توضیح دهید در شکل زیر چگونه یک دسته ی صد تایی به صورت دسته های ده تایی باز شده است؟ و یک دسته ی ده تایی نیز چگونه به یکی ها تبدیل شده است؟



یک دسته ۱۰۰ تایی خرد شده
به ۱۰ تا ۱۰ تایی تبدیل
شده است.



۱- عددها را با هم مقایسه کنید و در دایره علامت مناسب (<=>) بگذارید.



۲۴ < ۲۷

۳۴ > ۲۹

۱۷ < ۱۹

۱۰۰ > ۹۱

۲۰۱ > ۹۹

۳۵۱ > ۳۴۷

۲۰۰ < ۴۰۰

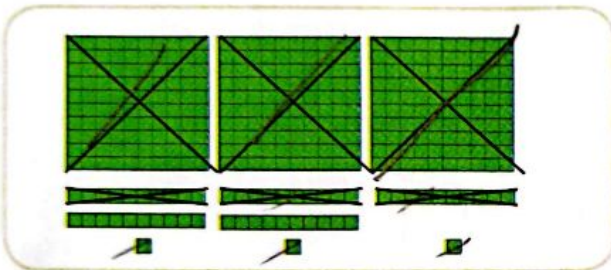
۲۹۸ < ۳۰۱

۴۲۰ > ۴۱۷

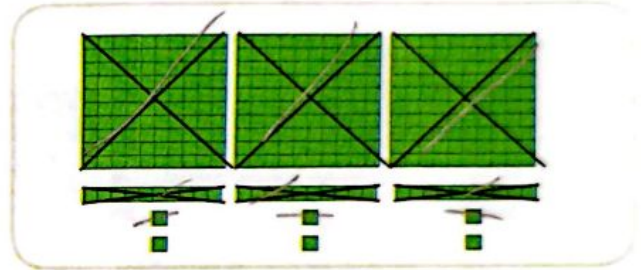
۲- ابتدا جمع و تفریق‌ها را انجام دهید و حاصل را کنار هر کدام بنویسید، سپس جواب‌ها را مقایسه کنید.

$500 = 200 + 300$ $300 + 100 = 400$ $50 = 20 + 30$ $80 - 20 = 60$
 $800 = 700 - 200$ $900 - 400 = 500$ $320 = 300 + 20$ $200 + 50 = 250$
 $400 = 400 + 300$ $900 - 100 = 800$ $121 = 100 + 20 + 1$ $100 + 10 + 7 = 117$

۳- حاصل کدام عبارت بیشتر است؟ لازم نیست حاصل عبارت را به دست آورید، مانند نمونه، قسمت‌های مساوی را از دو طرف حذف کنید.



>



<



<



$300 + 300 + 300 + 200 + 50 + 7 + 10$

>

$300 + 20 + 30 + 8 + 40 + 20$

