


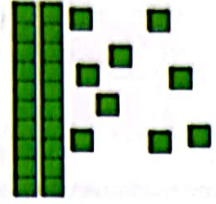
# مقایسه‌ی اعداد




۱- ابتدا عددی را که هر شکل نشان می‌دهد، بنویسید و علامت مناسب بگذارید. توضیح دهید چگونه دو عدد دو رقمی را مقایسه می‌کنید؟





$$42 > 29$$




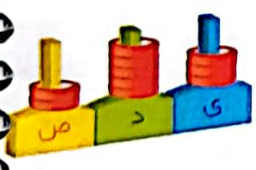

۲- حالا عددهای سه رقمی را مقایسه کنید.




$$212 > 155$$



$$124 < 125$$




$$253 < 201$$



$$210 > 215$$

برای مقایسه‌ی عددها به ارزش رقم‌ها توجه می‌کنیم. ارزش رقم صدگان از دهگان بیشتر است یعنی اگر رقم صدگان یک عدد از رقم صدگان عدد دیگر بیشتر باشد، رقم‌های دهگان و یکان آن‌ها را در نظر نمی‌گیریم.



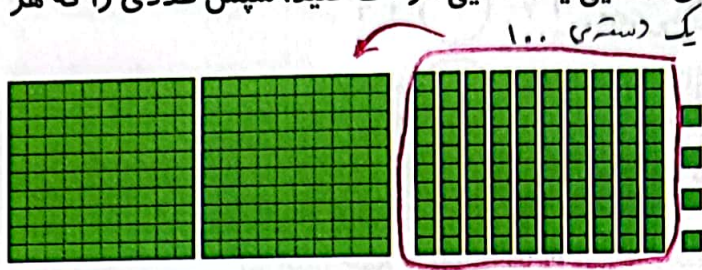
یکان



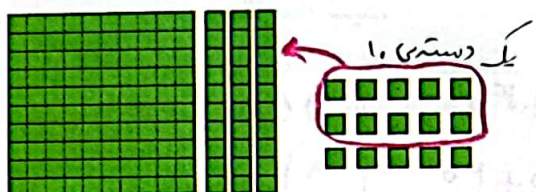


# کار در کلاس

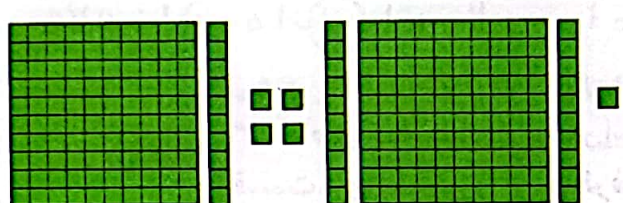
۱- تا جایی که می توانید ابتدا دسته های ده تایی یا صد تایی درست کنید، سپس عددی را که هر شکل نشان می دهد، بنویسید.



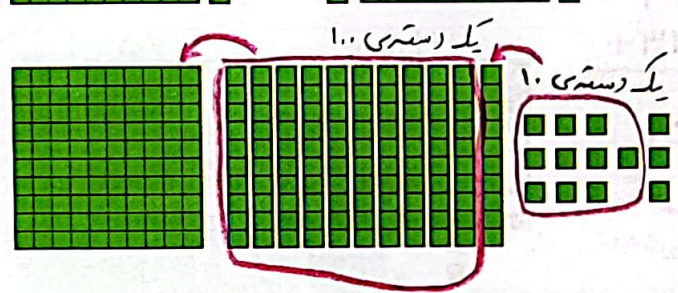
صدگان	دهگان	یکان
۲	۰	۴



صدگان	دهگان	یکان
۱	۴	۵



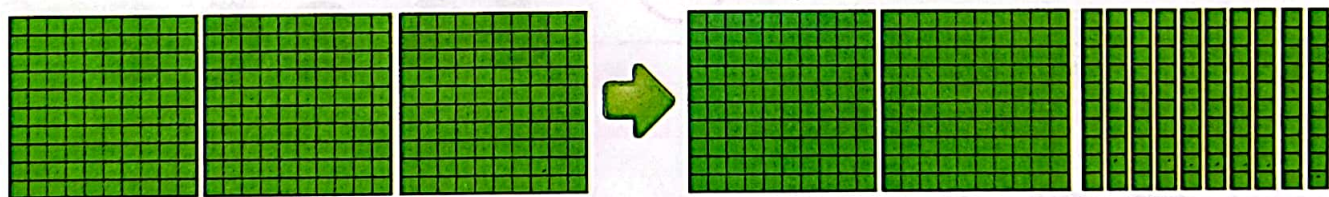
صدگان	دهگان	یکان
۲	۳	۵



صدگان	دهگان	یکان
۲	۲	۳

۲- توضیح دهید در شکل زیر چگونه یک دسته صد تایی به صورت دسته های ده تایی باز شده است؟ و یک دسته ده تایی نیز چگونه به یکی ها تبدیل شده است؟

یک دسته صد تایی از ۱۰ دسته ده تایی درست می شود.



یک دسته ده تایی از ۱۰ یکی درست می شود.

