

فعالیت کلاسی



درستی و نادرستی هر عبارت را مشخص کن.

الف: ۷ واحد بزرگ و ۱ واحد کوچک خطکش ۷۱ میلی‌متر می‌شود.

ب: ۹۶ میلی‌متر از ۸ سانتی‌متر و ۲ میلی‌متر کم‌تر است.

پ: ۶۸ میلی‌متر یعنی ۶ سانتی‌متر و ۸ میلی‌متر.

جاهای خالی را کامل کن.

الف: ۱۵ میلی‌متر یعنی سانتی‌متر و میلی‌متر.

ب: ۲۶ میلی‌متر یعنی سانتی‌متر و میلی‌متر.

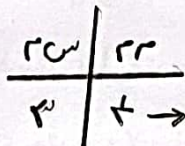
پ: ۷۲ میلی‌متر یعنی سانتی‌متر و میلی‌متر.

ت: ۳ سانتی‌متر و ۹ میلی‌متر می‌شود میلی‌متر.

ث: ۸ سانتی‌متر و ۳ میلی‌متر می‌شود میلی‌متر.

ج: ۶ سانتی‌متر و ۰ میلی‌متر می‌شود میلی‌متر.

طول کلید مقابل را به دو صورت بنویس.



طول کلید: میلی‌متر است.

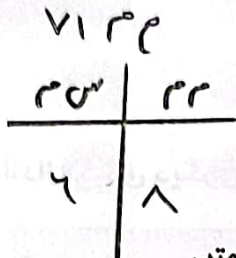
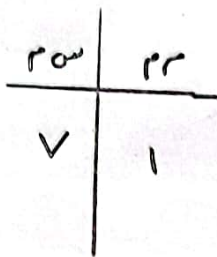
طول کلید: سانتی‌متر و میلی‌متر است.

۴ اگر طول یک کرم خاکی ۱۰ میلی‌متر باشد، طول کرم‌های خاکی روبه‌رو، روی هم چند سانتی‌متر است؟

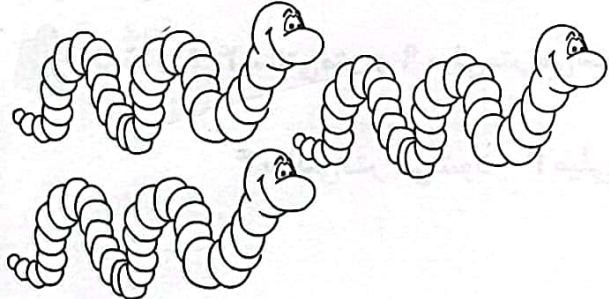
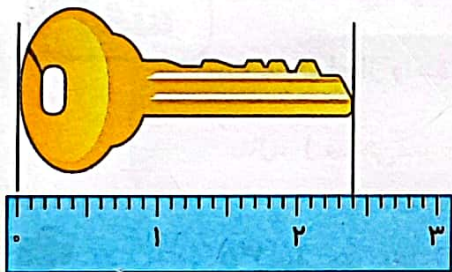
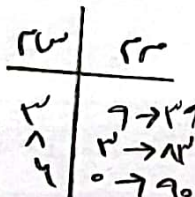
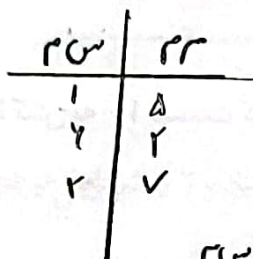
.....

.....

.....



۶۶ > ۸۲



فضایت کلاسی



1

جاهای خالی را با کلمات کمتر و بیشتر کامل کن.

الف: درنا ۵۸ کتاب و برادرش ۳۹ کتاب دارد. تعداد کتاب‌های درنا بیشتر ... از تعداد کتاب‌های برادرش است.

درنا ۵۸ > برنا ۲۵

ب: در گلخانه‌ی رز ۱۳۵ گل و در گلخانه‌ی یاس ۱۴۷ گل پرورش داده شده است.

تعداد گل‌های پرورش یافته در گلخانه‌ی رز کمتر ... از تعداد گل‌های پرورش یافته در گلخانه یاس است.

2

هر عبارت را مشخص کن.

الف: ارزش رقم صدگان کم‌تر از دهگان است.

رنگان > صرطان

ب: عدد ۳۵۲ کم‌تر از ۳۵۰ است.

۲۵۰ > ۲۵۲

پ: یکی از روش‌های مقایسه‌ی دو عبارت، حذف قسمت‌های مساوی دو طرف است.

3

پاسخ‌ها را در دو طرف عبارت با هم مقایسه کن و علامت $<$ $=$ $>$ بگذار.