

تمرین

۱ هر شکل را به عدد مربوط به آن وصل کن.

۵۳۱

۴۳۵

هفتصد و دوازده

دویست و بیست و دو

۱۰۰ ۱۰۰ ۱۰ ۱۰

۵۰۰ ۱۰۰ ۱۰۰ ۱۰ ۱۰ ۱۰

۱۰۰ ۱۰۰ ۱۰ ۱۰

صدگان دهگان یکان

۲ درستی و نادرستی هر عبارت را مشخص کن.

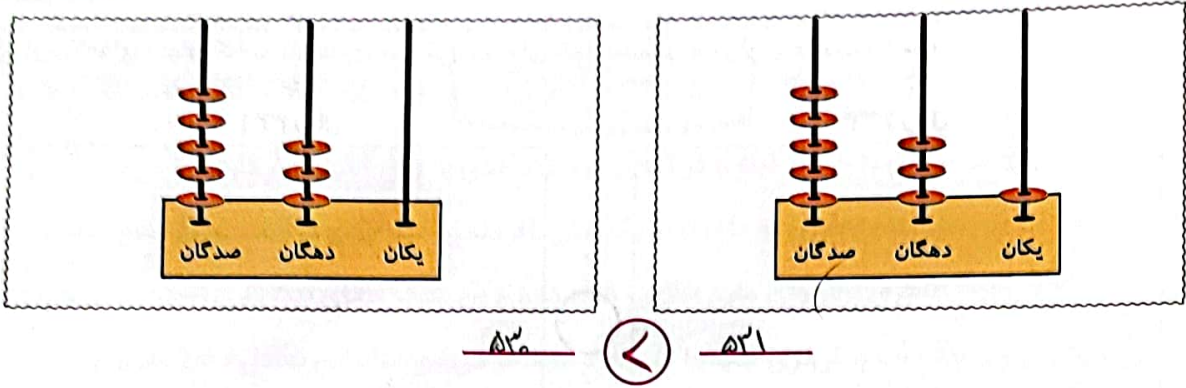
- الف: اگر به عدد ۵۰۴ یک دسته‌ی ۱۰۰ تایی اضافه کنیم از عدد ۶۰۲ بزرگ‌تر است. $۶۰۴ > ۶۰۲$
- ب: عدد ۳۳۰ از عدد ۳۳۳ بزرگ‌تر است. $۳۳۰ < ۳۳۳$
- پ: رقم صدگان عدد ۴۰۵ از رقم صدگان ۴۴۰ بزرگ‌تر است. $۴۰۵ > ۴۴۰$
- ت: عدد ۱۵۲ کم‌تر از عدد ۵۲ می‌باشد. $۱۵۲ > ۵۲$

۳ عددی را که هر شکل نشان می‌دهد بنویس، سپس با هم مقایسه کن و علامت $< = >$ بگذار.

۲۲۸ $>$ ۱۳۸

۱۷۰ $<$ ۴۰

علوی



۴ هر دو عدد را با هم مقایسه کن، سپس در جای خالی علامت $< = >$ بگذار.

الف: ۲۰۰ $<$ ۲۰۲

ت: ۷۰۸ $<$ ۷۳۵

ج: ۱۸۵ $<$ ۱۸۹

ب: ۵۰۷ $>$ ۴۹۹

ث: ۳۸۰ $>$ ۳۰۸

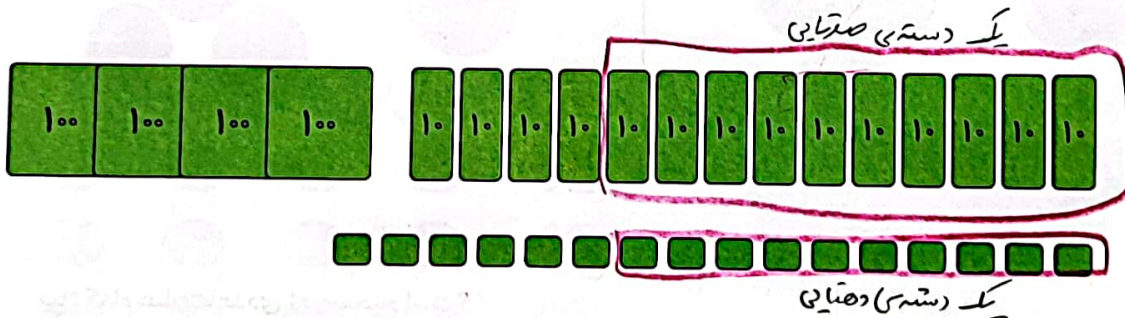
ح: ۹۸ $<$ ۱۰۷

پ: ۲۱۴ $<$ ۳۱۴

ج: ۴۱۷ $>$ ۴۰۷

خ: ۳۰۵ $>$ ۳۵

۵ تا جایی که می توانی دسته های ده تایی و صد تایی درست کن. سپس عدد مناسب را داخل جدول بنویس.

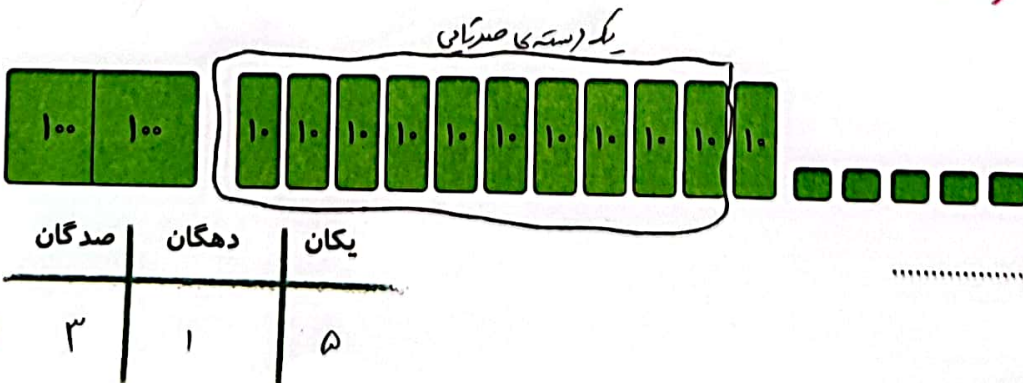


صدگان	دهگان	یکان
۵	۵	۲

به عدد: ۵۵۲

به حروف: پانصد و پنجاه و دو

ب:



صدگان	دهگان	یکان
۳	۱	۵

به عدد: ۳۱۵

به حروف: سیصد و پانزده



جاهای خالی را با کلمات کم تر و بیش تر کامل کن.

الف: درنا ۵۸ کتاب و برادرش ۳۹ کتاب دارد. تعداد کتاب‌های درنا بیشتر از تعداد کتاب‌های برادرش است.

۱۳۵ < ۱۴۷

در گلخانه‌ی رز ۱۳۵ گل و در گلخانه‌ی یاس ۱۴۷ گل پرورش داده شده است.

تعداد گل‌های پرورش یافته در گلخانه‌ی رز کمتر از تعداد گل‌های پرورش یافته در گلخانه یاس است.

درستی و نادرستی هر عبارت را مشخص کن.

الف: ارزش رقم صدگان کم تر از دهگان است.

ب: عدد ۳۵۲ کم تر از ۳۵۰ است.

پ: یکی از روش‌های مقایسه‌ی دو عبارت، حذف قسمت‌های مساوی دو طرف است.

۳ پاسخ‌ها را در دو طرف عبارت با هم مقایسه کن و علامت $<=>$ بگذار.

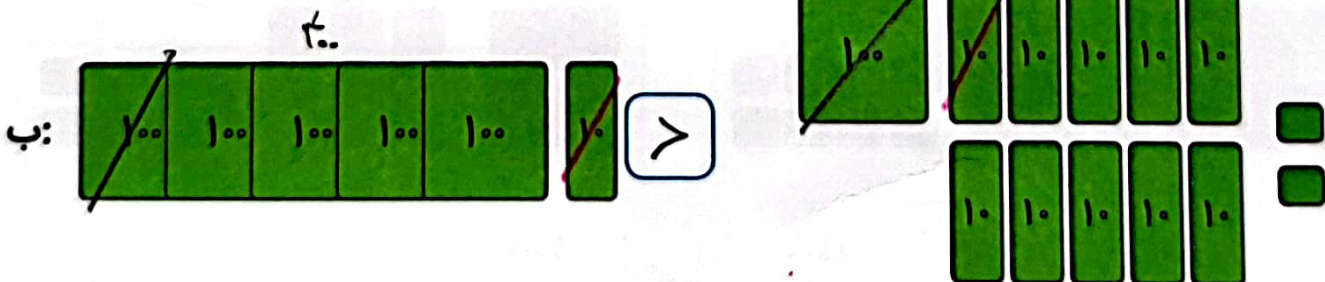

الف: $400 + 400 > 800 - 200$

پ: $100 + 100 + 200 < 200 + 300$

ب: $500 + 200 > 500 - 200$

ت: $700 - 400 = 100 + 100 + 100$

۴ با حذف قسمت‌های مساوی علامت $<=>$ بگذار.





۱- عددها را با هم مقایسه کنید و در دایره علامت مناسب ($<$, $=$, $>$) بگذارید.

$24 < 27$	$34 > 29$	$17 < 19$
$100 > 91$	$201 > 99$	$351 > 347$
$200 < 400$	$298 < 301$	$420 > 417$

۲- ابتدا جمع و تفریق‌ها را انجام دهید و حاصل را کنار هر کدام بنویسید، سپس جواب‌ها را مقایسه کنید.

$500 = 200 + 300 > 300 + 100 = 400$	$60 = 20 + 40 = 80 - 20 = 60 =$
$500 = 700 - 200 = 900 - 400 = 500$	$320 = 300 + 20 > 200 + 50 = 250$
$700 = 400 + 300 < 900 - 100 = 800$	$121 = 100 + 20 + 1 > 100 + 10 + 7 = 117$

۳- حاصل کدام عبارت بیشتر است؟ لازم نیست حاصل عبارت را به دست آورید، مانند نمونه، قسمت‌های مساوی را از دو طرف حذف کنید.

	$>$	
	$<$	
	$<$	
$300 + 300 + 300 + 200 + 50 + 7 + 10$	$>$	$300 + 200 + 300 + 8 + 40 + 200$
367		68

