



محسن ۸ سال داشت که خواهرش به دنیا آمد. حالا از آن زمان ۱۰ سال گذشته است. این خواهر و برادر روی هم چند سال دارند؟

$$1 + 0 = 1$$


$$1 + 10 = 11$$

$$1 + 18 = 19$$

الف) خواهر محسن چند سال دارد؟ ۱۰ سال

ب) محسن چند سال دارد؟ ۱۸ سال

ج) این دو نفر روی هم چند سال دارند؟ این کتف روی هم ۲۸ سال دارند




### الگویابی کن


با توجه به الگویی که در ساعت‌ها وجود دارد، عقربه‌های بعدی را خودتان رسم کنید.



۲ : ۰۰



۲ : ۱۵



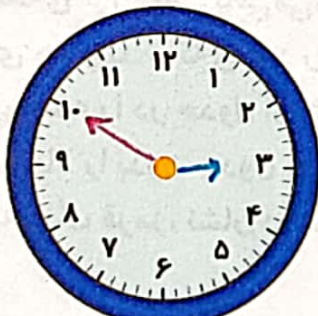
۲ : ۳۰



۲ : ۴۵




۲ : ۰۰



۲ : ۱۵




۲ : ۳۰



۲ : ۴۵

۱- یک کتاب داستان ۳۹۵ صفحه داشت. حسین در یک هفته ۱۵۰ صفحه و در هفته‌ی دوم ۱۳۰ صفحه از کتاب را خواند. چند صفحه را هنوز نخوانده است؟ برای حل این مسئله دو مرحله‌ی زیر را انجام دهید.



$$\begin{array}{r}
 395 \\
 - 150 \\
 - 130 \\
 \hline
 115
 \end{array}$$

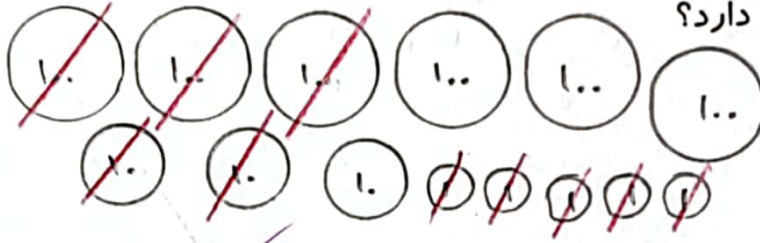
$150 + 130 = 280$   
 $395 - 280 = 115$

الف) ابتدا حساب کنید چند صفحه از کتاب خوانده شده است؟

ب) حالا تعداد صفحات باقی مانده را پیدا کنید.

- ۱۱۵ صفحه را هنوز نخوانده است.
- ۲۸۰ صفحه از کتاب خوانده شده است.

۲- مریم ۶ سکه‌ی ۱۰۰ ریالی، ۳ سکه‌ی ۱۰ ریالی و ۵ سکه‌ی ۱ ریالی داشت. او ۳۲۵ ریال در صندوق صدقات انداخت. حالا او چقدر پول دارد؟



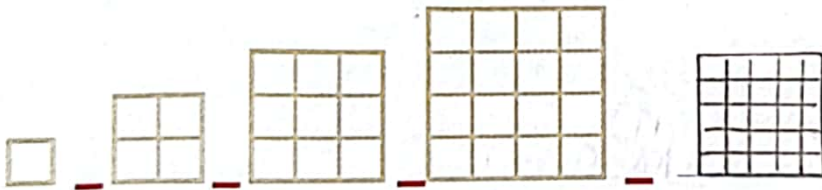
$$\begin{array}{r}
 335 \\
 - 325 \\
 \hline
 10 \\
 - 1 \\
 \hline
 9
 \end{array}$$

$300 + 20 + 5 = 325$   
 $335 - 325 = 10$   
 $10 - 1 = 9$

حالا او ۹ پول دارد.

### الگویابی کن

۱- تعداد مربع‌های کوچک هر شکل را بشمارید و بنویسید. شکل بعدی چند مربع دارد؟ الگویی را که دیده‌اید بنویسید و توضیح دهید.



۲- الگوی عددی را ادامه دهید.

