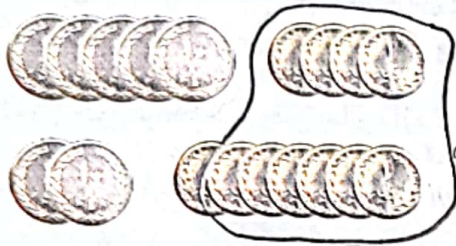


جمع در جدول ارزش مکانی



۱- مرتضی ۵۴ ریال داشت.

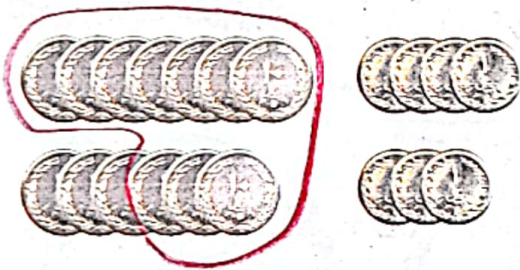
اگر ۲۷ ریال دیگر هم بگیرد، چقدر پول دارد؟ ۷۲ سکه ۱۰۰ ریالی و ۱ سکه ۱۰ ریالی
حساب کنید از هر سکه چند تا دارد.
همین جمع را در جدول ارزش مکانی انجام دهید.
یک بار هم بدون جدول این جمع را بنویسید.

د	ی
۵	۴
+ ۲	۷
۷	۱۱
۸	۱

$$\begin{array}{r} 54 \\ + 27 \\ \hline 81 \end{array}$$

۲- مرتضی ۷۴ ریال داشت. ۶۳ ریال هم از خواهرش گرفت. او روی هم چقدر پول دارد؟

او روی هم ۱۳۷ ریال پول دارد.



ص	د	ی
	۷	۴
	+ ۶	۳
	۱۳	۷
۱	۳	۷

$$\begin{array}{r} 74 \\ + 63 \\ \hline 137 \end{array}$$

۳- مرتضی ۵۹۷ ریال پول دارد.

الف) اگر ۱۳۰ ریال دیگر به او پول بدهند، جمع پول هایش چقدر می شود؟ (۷۲۷ ریال)

ب) چند سکه ۱ ریالی دارد؟ ۷ سکه ۱۰۰ ریالی

ج) چند سکه ۱۰ ریالی دارد؟ ۲ سکه ۱۰۰ ریالی

د) با این تعداد سکه های ۱۰ ریالی می تواند چند سکه ۱۰۰ ریالی بگیرد؟ ۱ سکه ۱۰۰ ریالی


ه) چند سکه ۱۰ ریالی باقی می ماند؟ ۲ سکه ۱۰۰ ریالی

و) حالا روی هم چند سکه ۱۰۰ ریالی دارد؟ ۷ سکه ۱۰۰ ریالی

ز) همین محاسبه را در جدول ارزش مکانی انجام دهید.

ح) اگر جمع بالا را بدون جدول به صورت زیر بنویسیم،

عدد یک به رنگ قرمز، نشان دهنده ی چیست؟ نشان دهنده ی ۱۰ دسته ی ده تایی که به صدگان انتقال داد




ص	د	ی
	۹	۷
	+ ۳	۰
	۱۲	۷
۷	۲	۷

$$\begin{array}{r} 597 \\ + 130 \\ \hline 727 \end{array}$$

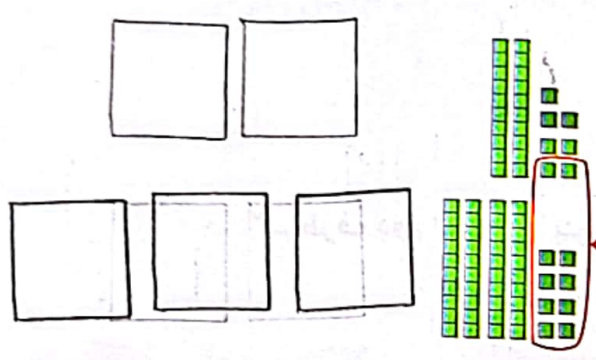


کار در کلاس

با رسم دسته‌های صدتایی و ده‌تایی و یکی، مانند نمونه جمع‌ها را انجام دهید. در صورت لزوم ۱۰ تا یکی را به یک دسته‌ی ده‌تایی و یا ۱۰ تا ده‌تایی را به یک دسته‌ی صدتایی تبدیل کنید.

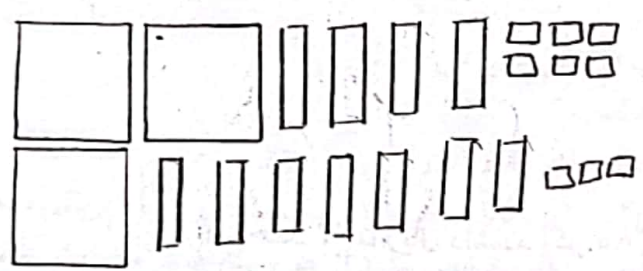


$$\begin{array}{r} 313 \\ + 325 \\ \hline 638 \end{array}$$

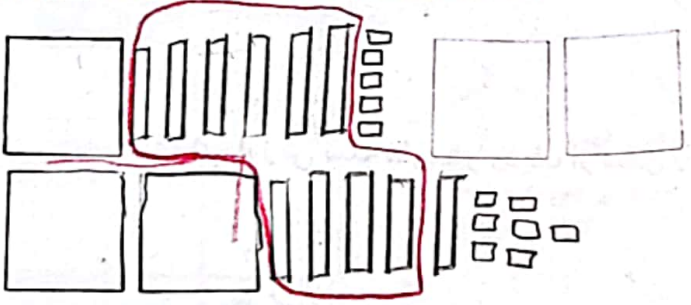


درست کردن یک دسته‌ی ده‌تایی با ۱۰ تا یکی

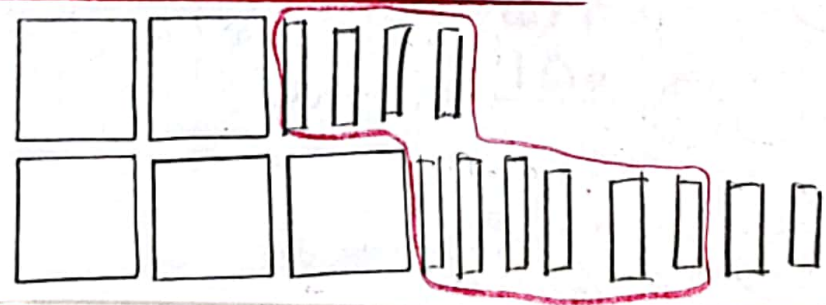
$$\begin{array}{r} 227 \\ + 348 \\ \hline 575 \end{array}$$



$$\begin{array}{r} 146 \\ + 273 \\ \hline 419 \end{array}$$



$$\begin{array}{r} 257 \\ + 165 \\ \hline 422 \end{array}$$



$$\begin{array}{r} 240 \\ + 380 \\ \hline 620 \end{array}$$

