
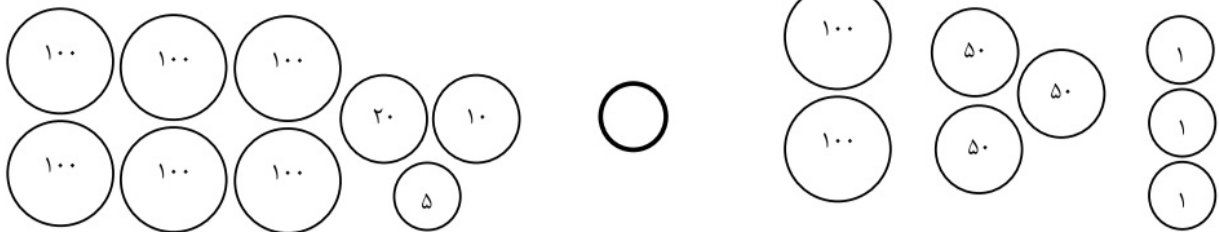
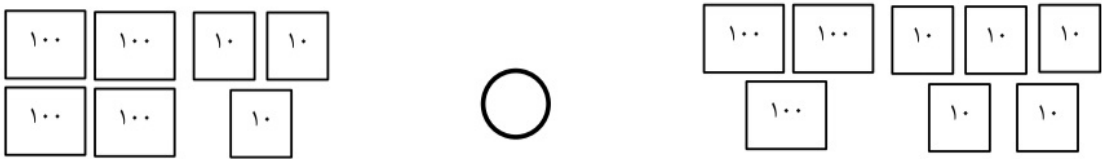


نکته:

ابتدا از سمت چپ صدگان دو عدد را مقایسه می کنیم. صدگانی که بیشتر بود علامت بیش تر می گذاریم.  $۳۲۳ > ۲۳۲$   
اما اگر صدگان ها مساوی بودند به رقم های دهگان توجه می کنیم و در آخر  
اگر دهگان ها هم برابر بودند به رقم یکان ها توجه می کنیم.  
 $۳۲۱ < ۳۴۲$   
 $۲۳۴ > ۲۳۱$

۱. حالا با توجه به توضیحات بالا علامت ( $< = >$ ) قرار بده.



۲. پاسخ ها را پیدا کن و علامت ( $< = >$ ) بگذار.

$$۱۰۰ + ۲۰۰ + ۵۰ + ۳۰۰ + ۲۰ + ۶$$



$$۳۰۰ + ۲۰ + ۸ + ۵۰ + ۱۰۰ + ۲۰۰$$

$$۷۰۰ - ۲۰۰$$



$$۲۰۰ + ۴۰۰$$

$$۴۰۰ - ۲۰۰$$



$$۵۰۰ - ۳۰۰$$

$$۹۰۰ - ۱۰۰$$



$$۹۰۰ - ۵۰۰$$