

فعالیت کلاسی



1 جاهای خالی را با کلمات کم تر و بیش تر کامل کن.

الف: درنا ۵۸ کتاب و برادرش ۳۹ کتاب دارد. تعداد کتاب های درنا بیشتر ..... از تعداد کتاب های برادرش است.

ب: در گلخانه ی رز ۱۳۵ گل و در گلخانه ی یاس ۱۴۷ گل پرورش داده شده است.

تعداد گل های پرورش یافته در گلخانه ی رز کمتر ..... از تعداد گل های پرورش یافته در گلخانه یاس است.

2 درستی و نادرستی و نادرستی  و نادرستی  هر عبارت را مشخص کن.

الف: ارزش رقم صدگان کم تر از دهگان است.

ب: عدد ۳۵۲ کم تر از ۳۵۰ است.

پ: یکی از روش های مقایسه ی دو عبارت، حذف قسمت های مساوی دو طرف است.

3 پاسخ ها را در دو طرف عبارت با هم مقایسه کن و علامت  $<=>$  بگذار.

الف:  $400 + 400 > 800 - 200$

پ:  $100 + 100 + 200 < 200 + 300$

ب:  $500 + 200 > 500 - 200$

ت:  $700 - 400 = 100 + 100 + 100$

4 با حذف قسمت های مساوی علامت  $<=>$  بگذار.

الف:  $300 + 30 = 330 < 200 + 30 + 40 = 270$

پ:  $200 + 2 = 202 > 500 + 10 = 510$

ب:  $500 + 10 = 510 > 200 + 2 = 202$

ت:  $200 + 2 = 202$



# تمرین

۱ هر شکل را به عدد مربوط به آن وصل کن.

۵۳۱

۴۳۵

هفتصد و دوازده

دویست و بیست و دو

۱۰۰ ۱۰۰ ۱۰ ۱۰

۵۰۰ ۱۰۰ ۱۰۰ ۱۰ ۱۰ ۱۰

۱۰۰ ۱۰۰ ۱۰ ۱۰ ۱۰ ۱۰ ۱۰ ۱۰

۱۰۰ ۱۰۰ ۱۰

صدگان دهگان یکان

۲ درستی  و نادرستی  هر عبارت را مشخص کن.

- الف: اگر به عدد ۵۰۴ یک دسته‌ی ۱۰۰ تایی اضافه کنیم از عدد ۶۰۲ بزرگ‌تر است.
- ب: عدد ۳۳۰ از عدد ۳۳۳ بزرگ‌تر است.
- پ: رقم صدگان عدد ۴۰۵ از رقم صدگان ۴۴۰ بزرگ‌تر است.
- ت: عدد ۱۵۲ کم‌تر از عدد ۵۲ می‌باشد.

۳ عددی را که هر شکل نشان می‌دهد بنویس، سپس با هم مقایسه کن و علامت  $<=>$  بگذار.

۲۳۸  $>$  ۱۳۸

۱۷۵  $<$  ۴۳۰

# فعالیت کلاسی



حاصل جمع و تفریق‌ها را از راه گسترده‌نویسی به دست بیاور و بنویس.

۱

$$\begin{array}{r} 272 \\ + 525 \\ \hline 797 \\ + 925 \\ \hline 1722 \end{array}$$

$$\begin{array}{r} 704 \\ + 140 \\ \hline 844 \\ + 1460 \\ \hline 2304 \end{array}$$

$$\begin{array}{r} 660 \\ - 320 \\ \hline 340 \end{array}$$

$$\begin{array}{r} 835 \\ - 512 \\ \hline 323 \end{array}$$

۲ با حل جمع و تفریق، در  عدد مناسب بنویس.

$$\begin{array}{r} 457 \\ + 132 \\ \hline 589 \\ + 10 \\ \hline 599 \end{array}$$

$$\begin{array}{r} 457 \\ - 132 \\ \hline 325 \\ - 10 \\ \hline 315 \end{array}$$

۳ پاسخ جمع و تفریق‌ها را به صورت ذهنی بنویس.

$$400 + 230 = 630$$

$$770 - 520 = 250$$

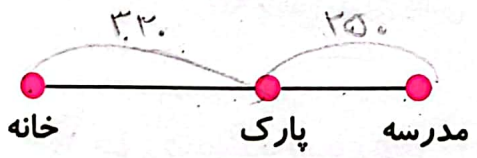
۴ برنا ۹ ساله است. خواهرش ۸ سال از او بزرگ‌تر است. مجموع سن این دو خواهر روی هم چند سال است؟

این دو خواهر روی هم ۲۶ سال دارند

$$9 + 17 = 26$$

$$17 + 9 = 26$$

۵ فاصله‌ی خانه‌ی درنا و برنا تا پارک ۳۳۰ متر و فاصله‌ی پارک تا مدرسه ۲۵۰ متر است. فاصله‌ی خانه‌ی درنا و برنا تا مدرسه چقدر است؟




$$\begin{array}{r} 330 \\ + 250 \\ \hline 580 \end{array}$$

فاصله‌ی خانه‌ی برنا و درنا تا مدرسه ۵۸۰ متر است

تمرین

۱ هر عدد را به گسترده‌ی آن عدد وصل کن.



۲ درستی  و نادرستی  هر عبارت را مشخص کن.

الف: حاصل جمع  $450 + 110$  برابر با ۴۶۰ است.

ب: دو سکه‌ی ۲۵۰ ریالی برابر با ۵ سکه‌ی ۱۰۰ ریالی است.

پ: حاصل تفریق  $837 - 200$  عدد ۶۳۷ می‌شود.

۳ الگوها را ادامه بده.

الف:  $7:10 - 7:20 - 7:30 - 7:40 - 7:50 - 8:00 - 8:10$

ب:  $9:20 - 9:25 - 9:30 - 9:35 - 9:40 - 9:45 - 9:50$

۴ حاصل جمع و تفریق‌ها را از راه گسترده‌نویسی به دست بیاور و بنویس.

۵ پدر برنا به او ۷۵۰ تومان پول داد. او یک مداد به قیمت ۴۳۰ تومان و یک پاک‌کن به قیمت ۲۵۰ تومان خرید. چند

تومان برای برنا باقی مانده است؟

۷۰ تومان برای او باقی ماند.

۶ راننده‌ی یک قطار مسافربری ۳۶۰ مسافر را از تهران به مشهد می‌برد. در ایستگاه‌های بین راه ۱۵۰ مسافر از قطار پیاده

شدند. در کل چند نفر به مشهد رسیدند؟

۲۱۰ نفر به مشهد رسیدند.

جمع و تفریق اعداد سه رقمی

فصل هشتم




# فعالیت کلاسی



۱ عدد مناسب هر شکل را بنویس.

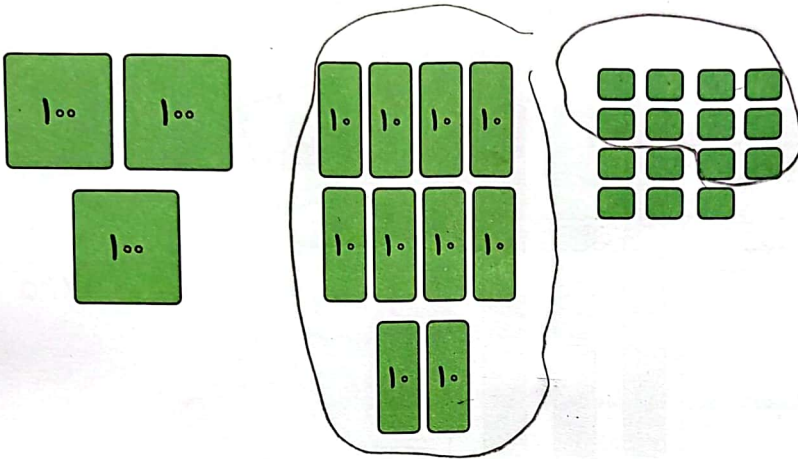
الف:



به عدد ..... ۳۵۱

به حروف بیست و پنج و یک

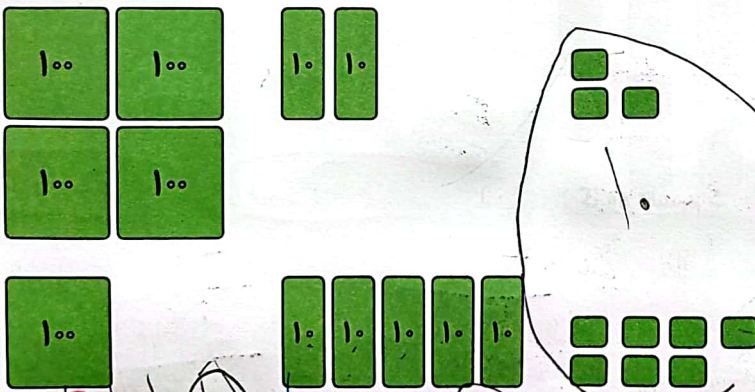
ب:



به عدد ..... ۴۱۵

به حروف چهل و یک و پانزده

۲ عبارت جمع مربوط به شکل را داخل جدول نوشته و حاصل را پیدا کن.



صدگان	دهگان	یکان
۵	۸	۰

۳ حاصل جمع های زیر را بنویس.

$$\begin{array}{r} 532 \\ + 179 \\ \hline 711 \end{array}$$

$$\begin{array}{r} 582 \\ + 151 \\ \hline 733 \end{array}$$

$$\begin{array}{r} 492 \\ + 178 \\ \hline 670 \end{array}$$

$$\begin{array}{r} 545 \\ + 238 \\ \hline 783 \end{array}$$

