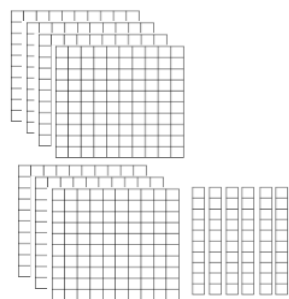


۱. اعداد زیر را بنویسید.



یکان	دهگان	صدگان

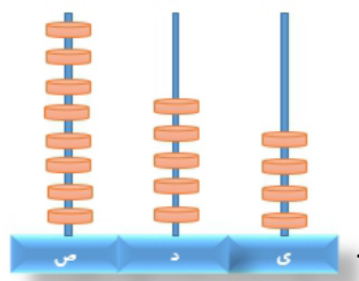
به عدد :

به حروف :

یکان	دهگان	صدگان

به عدد :

به حروف :



یکان	دهگان	صدگان

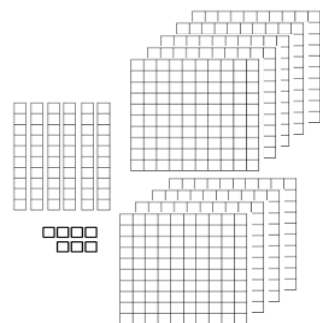
به عدد :

به حروف :

یکان	دهگان	صدگان

به عدد :

به حروف :



۲. حاصل را بدست بیاورید و جواب ها را مقایسه کنید.

..... = ۲۰۰ + ۳۰۰ ۹۰۰ - ۴۰۰ =

..... = ۹۰ - ۶۰ ۲۰ + ۴۰ =

..... = ۵۰۰ + ۲۰ ۴۰۰ + ۸۰ =

..... = ۶۰۰ + ۵۰ + ۷ ۶۰۰ + ۴۰ + ۷ =

۳. جاهای خالی را کامل کنید.

۷۸ میلی متر میشود سانتی متر و میلی متر

۹۵ میلی متر میشود سانتی متر و میلی متر

هر سانتی متر میلی متر است.

۸ سانتی متر و ۲ میلی متر می شود میلی متر



۴. ساعت چند است؟ :

نیم ساعت بعد ساعت چند است؟ :

۵. ساعت ۷:۱۵ دقیقه است، نیم ساعت بعد ساعت چند است؟ :

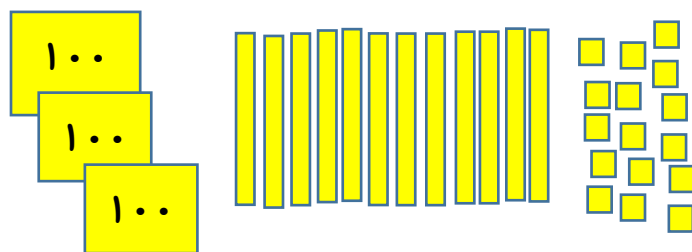
۶. ساعت ۱۱:۳۵ دقیقه است. یک ربع قبل ساعت چند است؟ :

۷. در یک پارکینگ ۸ ماشین و موتور پارک شده است. اگر تعداد چرخ‌های آن‌ها روی هم ۲۶ تا باشد، چند ماشین و چند موتور در این پارکینگ پارک شده است؟ (راهنمایی: هر ماشین، ۴ چرخ و هر موتور، ۲ چرخ دارد).

۸. در یک مزرعه ۷ مرغ و گاو زندگی میکنند. اگر تعداد پاهای آن‌ها روی هم ۲۶ تا باشد، چند مرغ و چند گاو در این مزرعه وجود دارد؟ (راهنمایی: هر گاو، ۴ پا و هر مرغ، ۲ پا دارد).

۹. در یک خیابان ۵ دوچرخه و اتوبوس قرار دارند، تعداد چرخ‌های آن‌ها روی هم ۱۲ تا است، چند دوچرخه و چند اتوبوس در خیابان هستند؟ (راهنمایی: هر اتوبوس، ۴ چرخ و هر دوچرخه، ۲ چرخ دارد).

۱۰. با توجه به شکل رو به رو عدد مناسب بنویسید.



به عدد:

به حروف:

۱۱. الگوهای زیر را کامل کنید.

۱۲:۰۰ - ۱۲:۱۵ - ۱۲:۳۰ - - -

۴۱۰ - ۴۱۵ - ۴۲۰ - - -

۸:۰۰ - ۸:۳۰ - ۹:۰۰ - - -

۱۲. با سکه های ۱۰۰ ریالی و ۵۰ ریالی به چند روش می توانید ۴۰۰ ریال درست کنید ؟



۱۳. قدّ شیرین ۱۴۰ سانتی متر و قدّ شیما ۱۰۰ سانتی متر است . قدّ کدام یک بلند تر است ؟ چقدر ؟



۱۴. - سارا با ۵ سکه ی ده ریالی یک مداد خرید . او برای خرید مداد چند ریال پرداخت کرده است ؟

- آقای مظفری هر پاک کن رادر برابر ۷ سکه ی ده ریالی و ۴ سکه ی یک ریالی می فروشد . قیمت یک پاک کن چند ریال است ؟

- قیمت یک کتاب ده سکه ی ده ریالی است . قیمت این کتاب چند ریال است ؟

۱۵. نیکان ساعت ۲۰ : ۳ دقیقه به کتابخانه رفت . او ۲۵ دقیقه در کتابخانه مطالعه کرد و بعد به طرف خانه حرکت کرد . نیکان چه ساعتی از کتابخانه خارج شده است ؟ (روی ساعت نشان دهید)