




به نام خدا



تمرین های کتاب کار

حل صفحه ۱۶۷ تا ۱۶۹



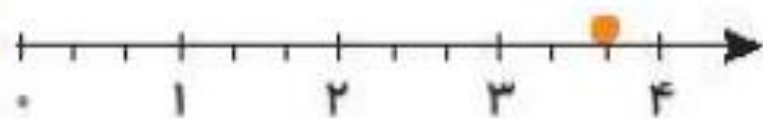
علوی
مدارس هزاره سوم

فعالیت کلاسی



۱ درستى و نادرستى هر عبارت را مشخص کن.

الف: با توجه به محور، نقطه‌ی مشخص شده ۲ واحد و ۲ قسمت از ۴ قسمت مساوی است.



ب: با توجه به شکل زیر ۲ قسمت از ۴ قسمت مساوی رنگ شده است.



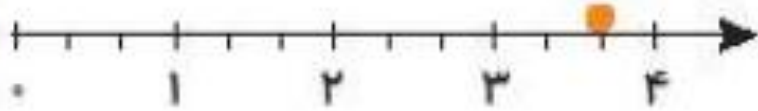
فعالیت کلاسی



۱ درستى  و نادرستى  هر عبارت را مشخص کن.



الف: با توجه به محور، نقطه‌ی مشخص شده ۳ واحد و ۲ قسمت از ۳ قسمت مساوی است.

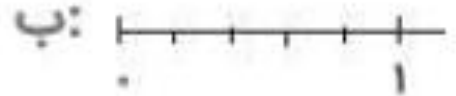
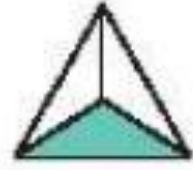


ب: با توجه به شکل زیر ۲ قسمت از ۴ قسمت مساوی رنگ شده است.

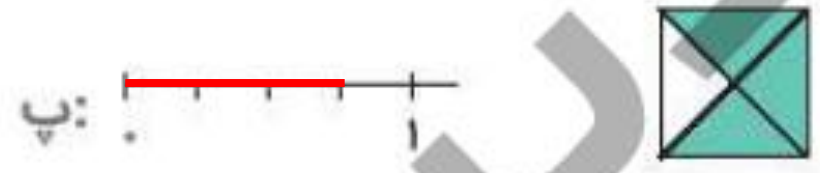


۴ قسمت از ۵ قسمت مساوی رنگ شده است.

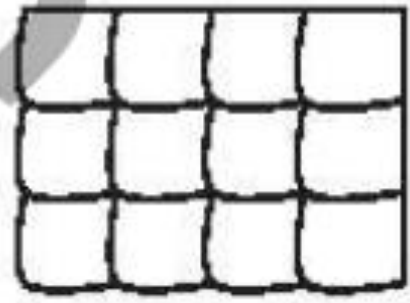
۲ با توجه به واحدها و قسمت‌های رنگ شده از هر شکل، از محور کنار آن رنگ کن. (مانند نمونه)



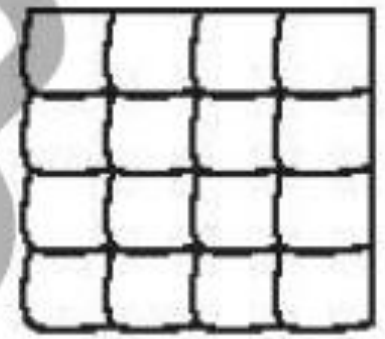
۲ با توجه به واحدها و قسمت‌های رنگ شده از هر شکل، از محور کنار آن رنگ کن. (مانند نمونه)



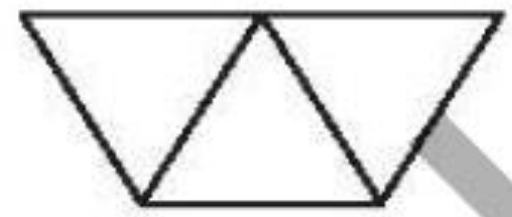
با توجه به قسمت‌های خواسته شده شکل را رنگ کن.



ب: ۸ قسمت از ۱۲ قسمت مساوی رنگ شده.



الف: ۱۲ قسمت از ۱۶ قسمت مساوی رنگ شده.

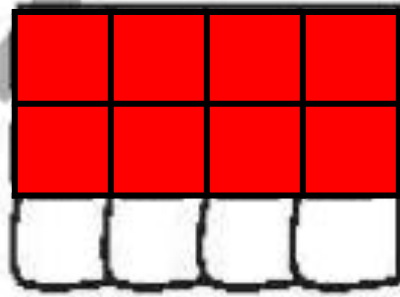


ت: ۱ قسمت از ۳ قسمت مساوی رنگ شده.

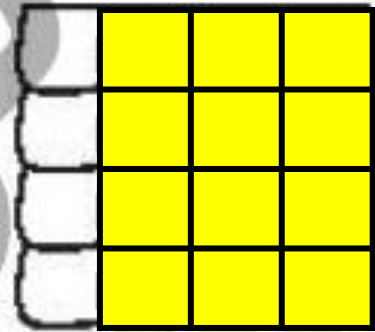


پ: ۲ قسمت از ۳ قسمت مساوی رنگ شده.

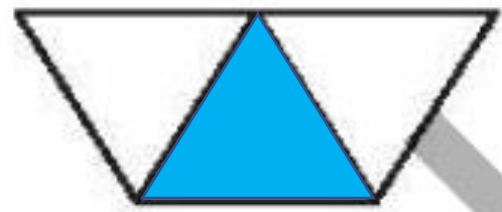
با توجه به قسمت‌های خواسته شده شکل را رنگ کن.



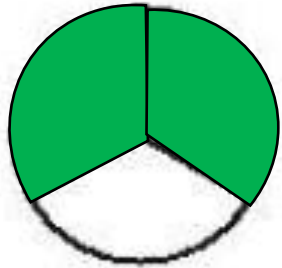
ب: ۸ قسمت از ۱۲ قسمت مساوی رنگ شده.



الف: ۱۲ قسمت از ۱۶ قسمت مساوی رنگ شده.



ت: ۱ قسمت از ۳ قسمت مساوی رنگ شده.

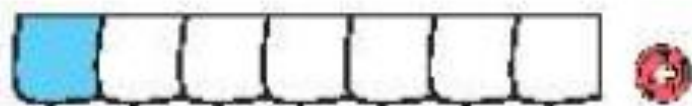



پ: ۲ قسمت از ۳ قسمت مساوی رنگ شده.

تمرین



۱ هر شکل را به عبارت مناسب آن وصل کن.



یک قسمت از ۷ قسمت مساوی

۹ قسمت از ۱۰ قسمت مساوی

۶ قسمت از ۹ قسمت مساوی

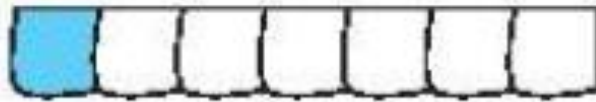

۷ قسمت از ۸ قسمت مساوی

۱۰ قسمت از ۱۰ قسمت مساوی

تمرین



۱ هر شکل را به عبارت مناسب آن وصل کن.



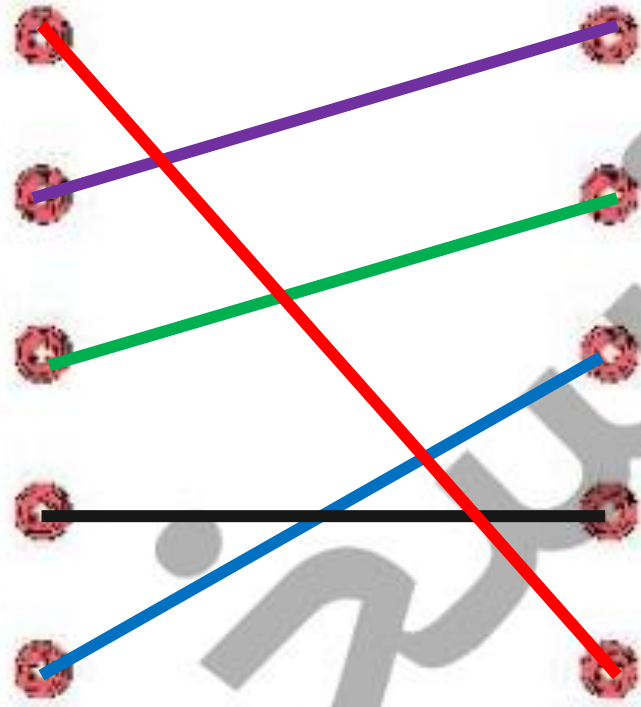
یک قسمت از ۷ قسمت مساوی

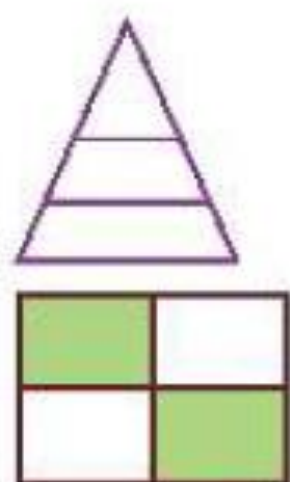
۹ قسمت از ۱۰ قسمت مساوی

۶ قسمت از ۹ قسمت مساوی

۷ قسمت از ۸ قسمت مساوی

۱۰ قسمت از ۱۰ قسمت مساوی




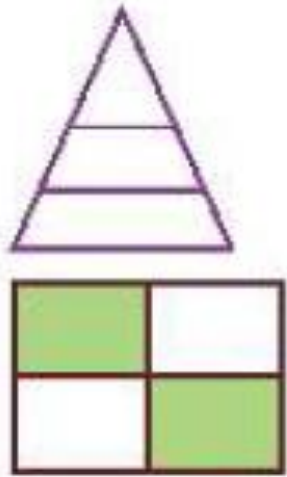


۲ درستی و نادرستی هر عبارت را مشخص کن.

الف: شکل مقابل به ۲ قسمت مساوی تقسیم شده است.

ب: در شکل مقابل ۲ قسمت از ۴ قسمت رنگ نشده است.

پ: نقطه‌ی روی محور ۲ واحد و ۱ قسمت مساوی را نشان می‌دهد.



۲ درستی و نادرستی هر عبارت را مشخص کن.



الف: شکل مقابل به ۲ قسمت مساوی تقسیم شده است.

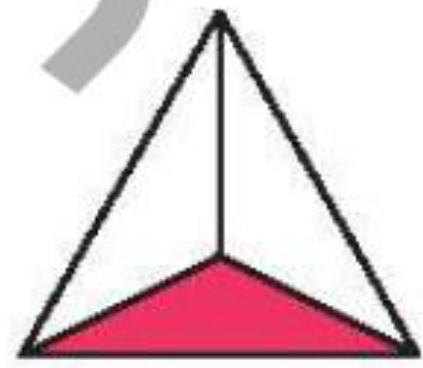


ب: در شکل مقابل ۲ قسمت از ۴ قسمت رنگ نشده است.

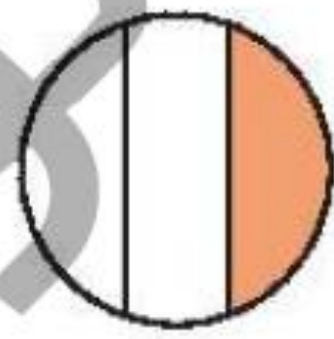


پ: نقطه‌ی روی محور ۲ واحد و ۱ قسمت مساوی را نشان می‌دهد.

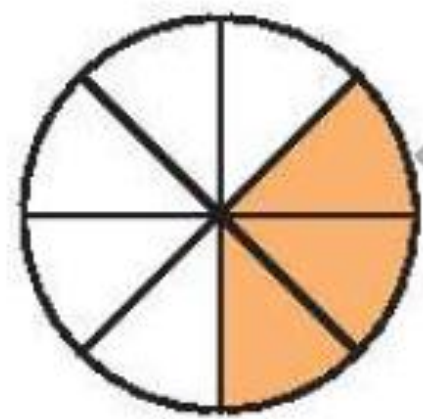
برای شکل‌هایی که به قسمت‌های مساوی تقسیم شده‌اند کسر مقدار رنگ شده‌ی آن را بنویس.



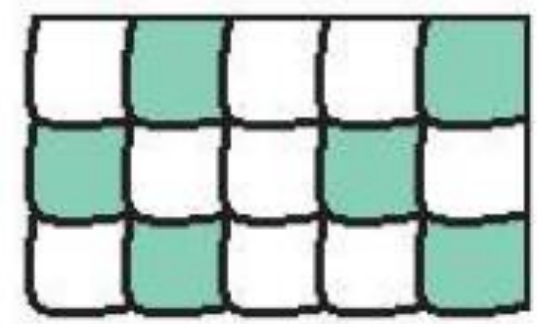
ب: قسمت از قسمت مساوی



الف: قسمت از قسمت مساوی

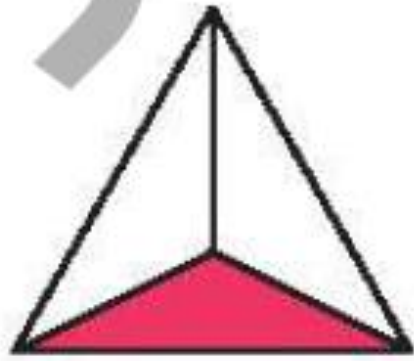


ت: قسمت از قسمت مساوی

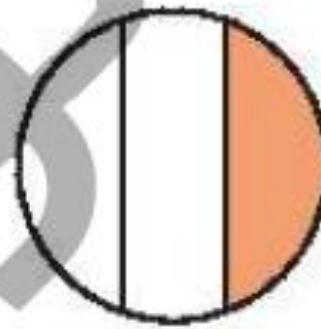


پ: قسمت از قسمت مساوی

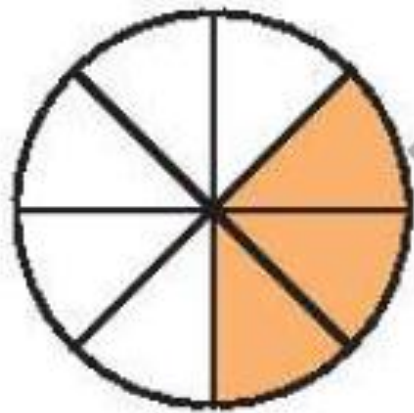
برای شکل‌هایی که به قسمت‌های مساوی تقسیم شده‌اند کسر مقدار رنگ شده‌ی آن را بنویس.



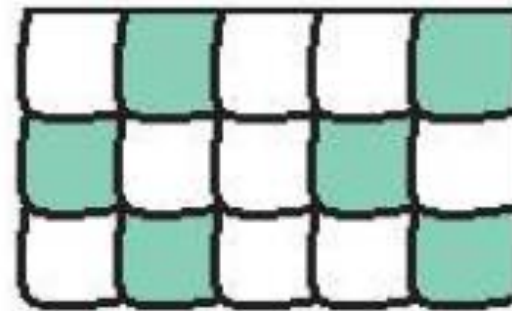
ب: قسمت از قسمت مساوی



الف: قسمت از قسمت مساوی

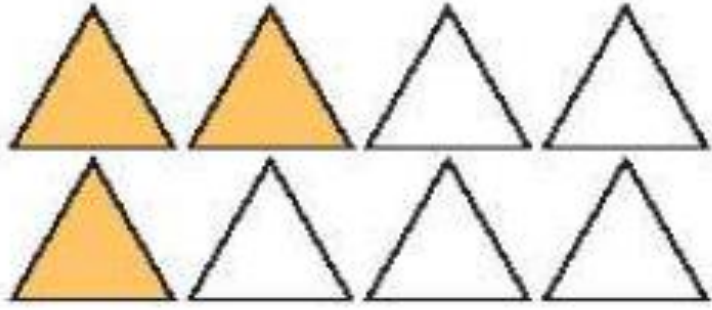


ت: قسمت از قسمت مساوی




پ: قسمت از قسمت مساوی

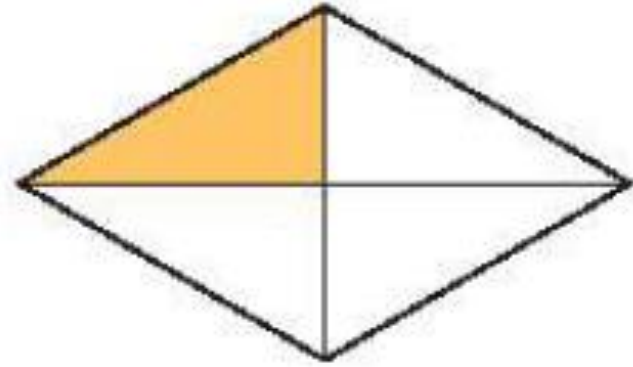
چه کسری از هر شکل رنگ نشده است؟ زیر آن بنویس.



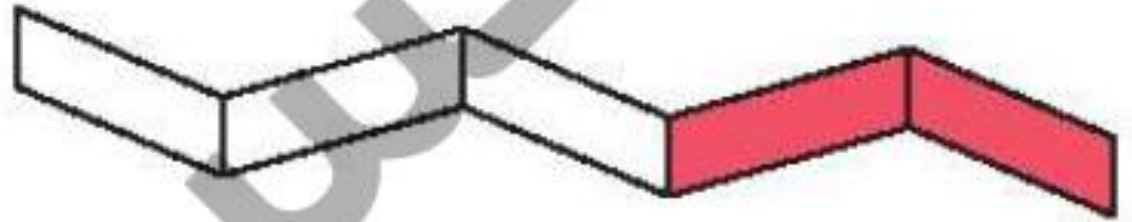
ب: قسمت از قسمت مساوی



ت: قسمت از قسمت مساوی

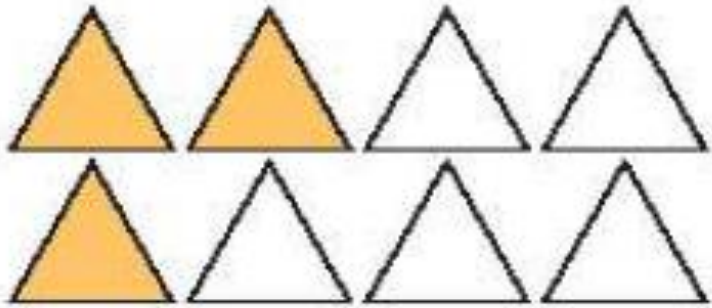


الف: قسمت از قسمت مساوی




پ: قسمت از قسمت مساوی

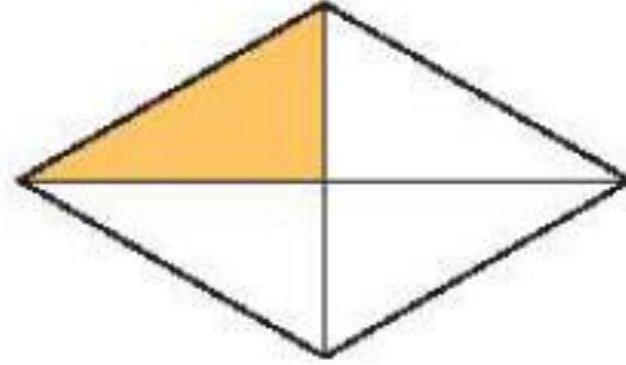
چه کسری از هر شکل رنگ نشده است؟ زیر آن بنویس.



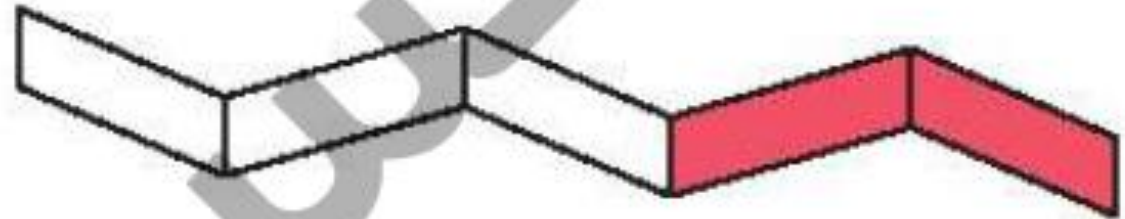
ب: ۵ قسمت از ۸ قسمت مساوی



ت: ۲ قسمت از ۴ قسمت مساوی



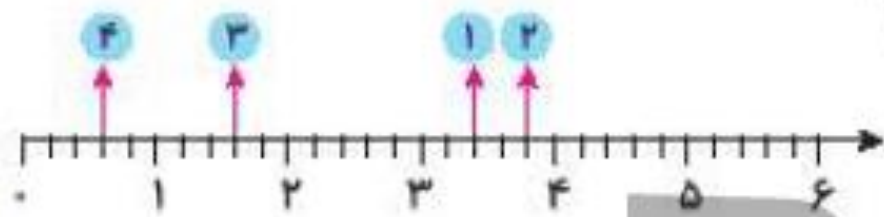
الف: ۳ قسمت از ۴ قسمت مساوی



پ: ۳ قسمت از ۵ قسمت مساوی

کدام نقطه روی محور ۲ واحد و ۲ قسمت مساوی را نشان می‌دهد؟

۵



نقطه‌ی شماره‌ی

یک کیک به ۸ قسمت مساوی تقسیم و سه قسمت آن خورده شد. چه کسری از کیک خورده شده است؟

۶

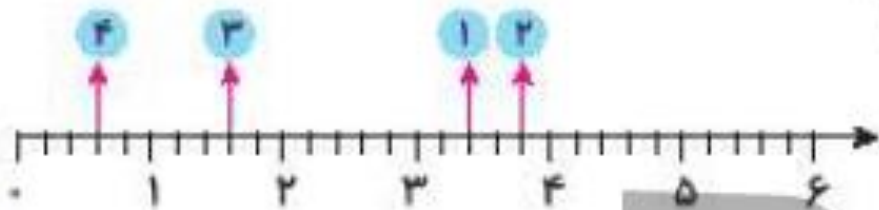
.....

.....

کدام نقطه روی محور ۲ واحد و ۲ قسمت مساوی را نشان می‌دهد؟

۵

نقطه‌ی شماره‌ی ۱



یک کیک به ۸ قسمت مساوی تقسیم و سه قسمت آن خورده شد. چه کسری از کیک خورده شده است؟

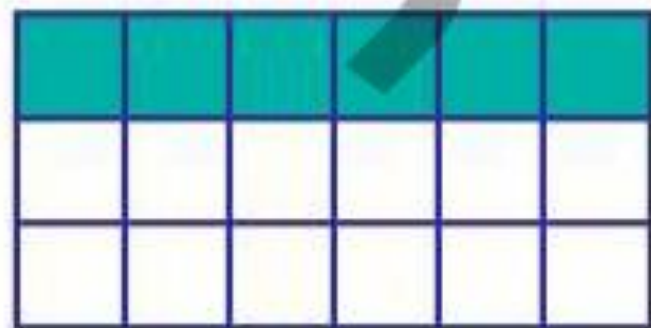
۶

۳ قسمت از ۸ قسمت مساوی کیک خورده شده است.

۷

با توجه به سوالات داده شده، گزینه‌ی صحیح را انتخاب کن.

الف: چه کسری از این مستطیل رنگ شده است؟



(۱) یک قسمت از سه قسمت مساوی

(۲) شش قسمت از هجده قسمت مساوی

(۳) هر دو مورد صحیح است

ب: در کدام شکل ۲ قسمت از ۳ قسمت مساوی از مربع رنگ شده است؟ دور آن خط بسته بکش.



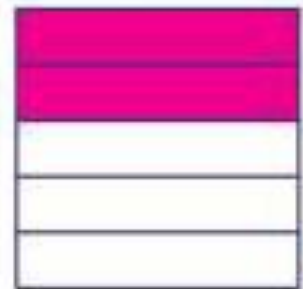
(۴)



(۳)



(۲)




(۱)

۷

با توجه به سوالات داده شده، گزینه‌ی صحیح را انتخاب کن.

الف: چه کسری از این مستطیل رنگ شده است؟



(۱) یک قسمت از سه قسمت مساوی

(۲) شش قسمت از هجده قسمت مساوی

(۳) هر دو مورد صحیح است

ب: در کدام شکل ۲ قسمت از ۳ قسمت مساوی از مربع رنگ شده است؟ دور آن خط بسته بکش.



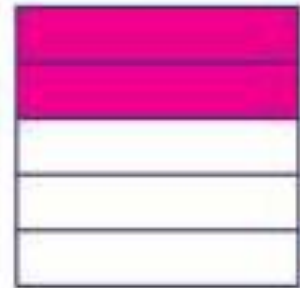
(۴)



(۳)



(۲)




(۱)

۷

با توجه به سوالات داده شده، گزینه‌ی صحیح را انتخاب کن.

الف: چه کسری از این مستطیل رنگ شده است؟



(۱) یک قسمت از سه قسمت مساوی

(۲) شش قسمت از هجده قسمت مساوی

(۳) هر دو مورد صحیح است

ب: در کدام شکل ۲ قسمت از ۳ قسمت مساوی از مربع رنگ شده است؟ دور آن خط بسته بکش.

