

۵. حاصل جمع و تفریق‌های زیر را به صورت تقریبی حساب کن. (با حذف رقم یکان و دهگان)

$$\begin{array}{r} 739 \rightarrow \\ - 254 \rightarrow \\ \hline \end{array}$$

$$\begin{array}{r} 108 \rightarrow \\ + 203 \rightarrow \\ \hline \end{array}$$

$$\begin{array}{r} 488 \rightarrow \\ - 322 \rightarrow \\ \hline \end{array}$$



۶. درنا در یک بازی علمی ۷۵ امتیاز داشت. او به یک سوال ۷ امتیازی پاسخ نادرست داد، اما توانست ۱۰ امتیاز دیگر کسب کند. درنا چند امتیاز دارد؟

.....

.....

.....



ارزشیابی فصل پنجم

علوی



نام و نام خانوادگی:

تاریخ:

۱. با توجه به شکل جاهای خالی را کامل کن.



(الف) واحد اندازه گیری طول پر در اینجا است.

(ب) طول پر بین و گیره است.

(پ) طول پر از گیره بیشتر است اما به گیره نمی رسد.

۲. با توجه به زمان داده شده، پاسخ پرسش های زیر را بنویس.



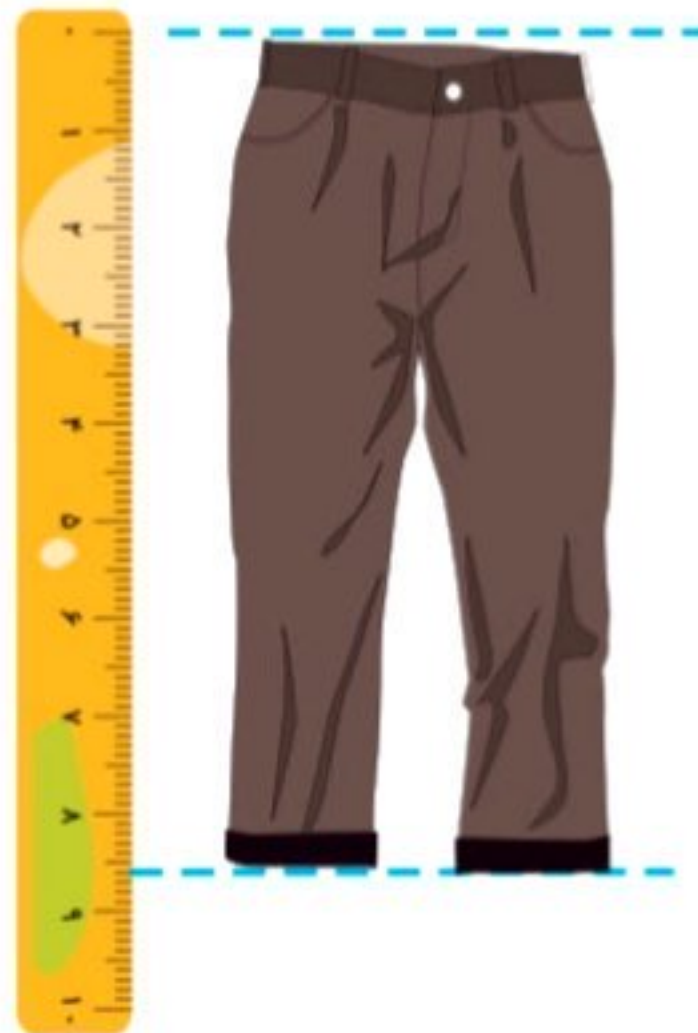
(الف) یک ربع بعد از ساعت مقابل چه ساعتی می شود؟

(ب) نیم ساعت بعد از ساعت مقابل چه ساعتی می شود؟ (روی ساعت نشان بده)

۳. اندازه ی هر شکل را به دو صورت بنویس.



(الف) اندازه ی طول رادیو سانتی متر و میلی متر یا میلی متر است.



اندازه ی طول شلوار سانتی متر و میلی متر یا میلی متر است.

۲۰۳





تاریخ:

نام و نام خانوادگی:

۸. ۷ سانتی متر و ۱۱ میلی متر می شود:

(۲) ۸۰ میلی متر

(۱) ۹۱ میلی متر

(۴) ۸۱ میلی متر

(۳) ۹۵ میلی متر

۹. ۲۵ دقیقه بعد از ساعت مقابل چه ساعتی می شود؟

(۱) ۲:۳۵

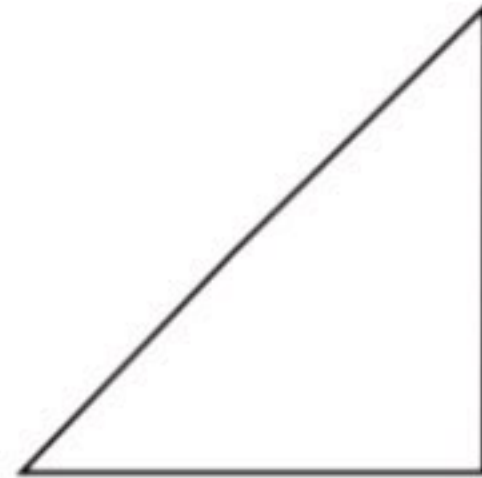
(۲) ۳:۵۰

(۳) ۳:۴۵

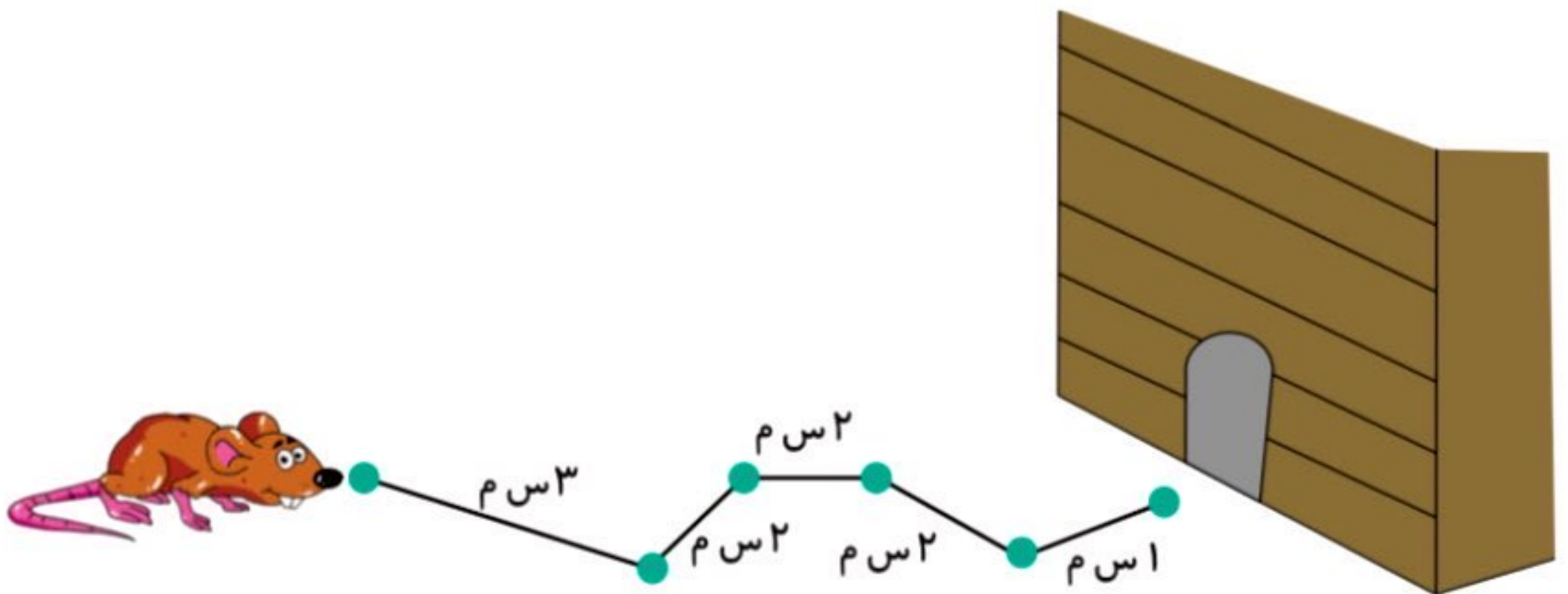
(۴) ۳:۰۵



۱۰. طول ضلع های اشکال زیر را با خط کش اندازه بگیر و بنویس. (واحدها به میلی متر باشند).



۱۱. این موش هر روز برای رسیدن به لانه ی خود مسیر زیر را می پیماید. این موش چند سانتی متر راه را طی می کند؟ منظور از (س.م) در تصویر واحد سانتی متر است.





تاریخ:

نام و نام خانوادگی:

۱۲. طول یک گل ۲۰ سانتی متر است. اگر در هر روز ۱۰ میلی متر رشد کند بعد از سه روز چند میلی متر می شود؟



.....

۱۳. برای اندازه گیری کدام یک، از واحد میلی متر استفاده می شود؟

- (۱) طول کمد (۲) طول میز (۳) طول دانه برنج (۴) پهنای فرش

۱۴. در علامت مناسب بگذار.

- ۶۱ میلی متر ۶ سانتی متر و ۱ میلی متر
 ۵۴ میلی متر ۵ سانتی متر
 ۳ سانتی متر ۳ میلی متر

جدول خودارزیابی

ملاک	معیار	خیلی خوب	خوب	قابل قبول	نیاز به تلاش
با واحدهای مختلف طول را اندازه گیری می کنم.	←	<input type="radio"/>	<input type="radio"/>	<input type="radio"/>	<input type="radio"/>
ربع و نیم روی ساعت می خوانم.	←	<input type="radio"/>	<input type="radio"/>	<input type="radio"/>	<input type="radio"/>
با واحد سانتی متر و میلی متر اندازه گیری را انجام می دهم.	←	<input type="radio"/>	<input type="radio"/>	<input type="radio"/>	<input type="radio"/>
واحدها را به یکدیگر تبدیل می کنم.	←	<input type="radio"/>	<input type="radio"/>	<input type="radio"/>	<input type="radio"/>
مسئله را با حدس و آزمایش حل می کنم.	←	<input type="radio"/>	<input type="radio"/>	<input type="radio"/>	<input type="radio"/>
اعداد با واحد سانتی متر و میلی متر را با هم مقایسه می کنم.	←	<input type="radio"/>	<input type="radio"/>	<input type="radio"/>	<input type="radio"/>

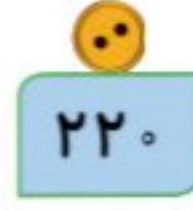
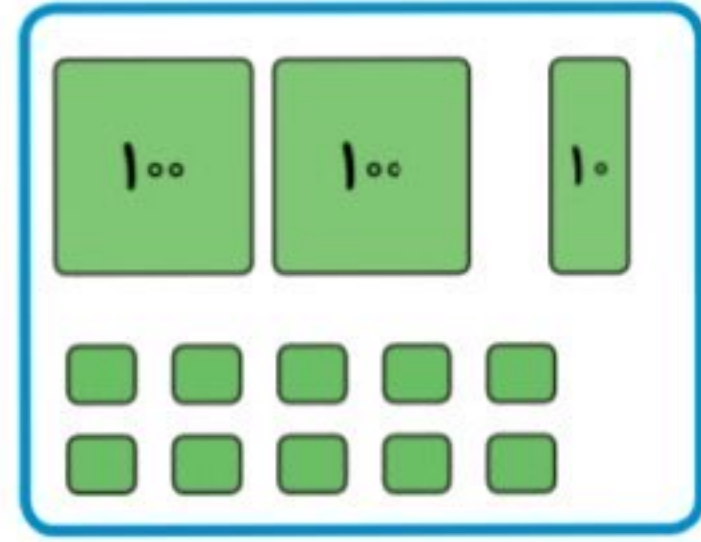
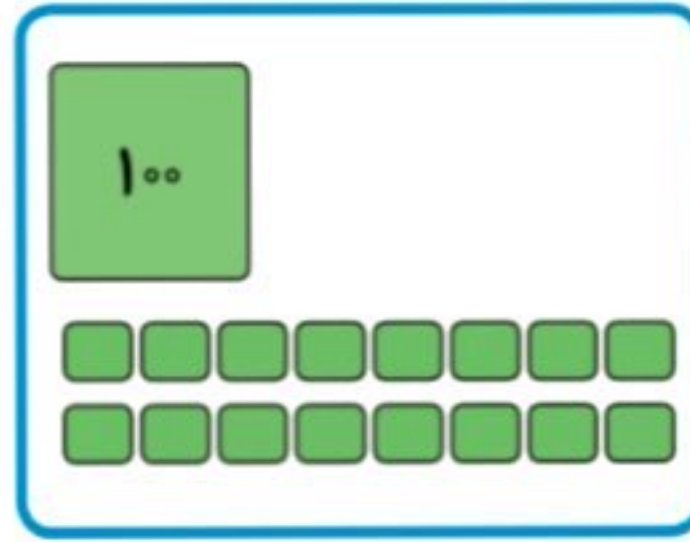
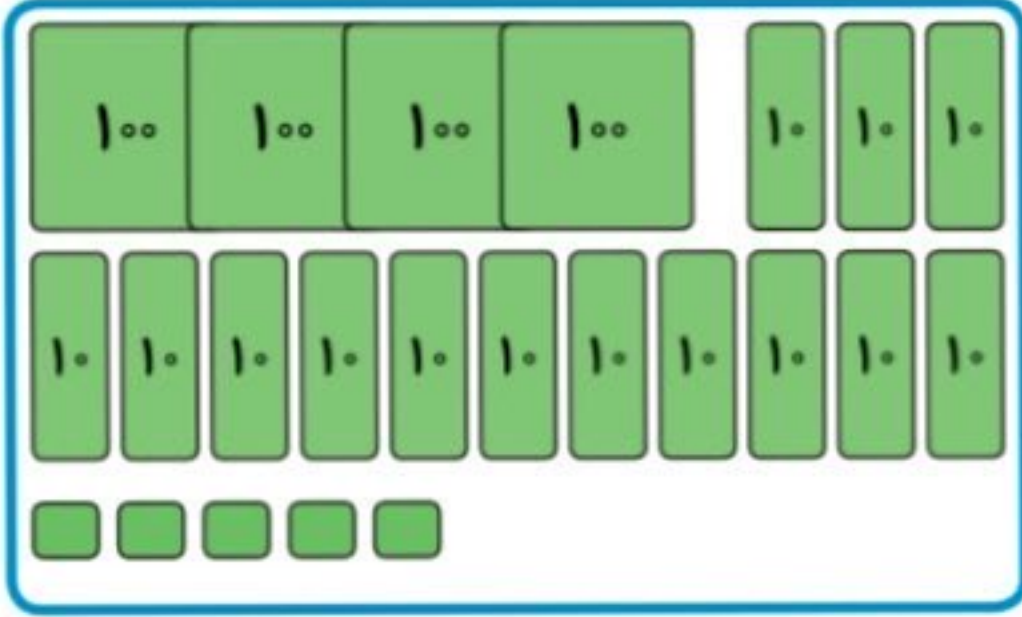




تاریخ:

نام و نام خانوادگی:

۱. هر شکل را به عدد مربوط به آن وصل کن.



۲. حاصل را بنویس.

الف) $700 + 20 + 3 =$

پ) $100 + 200 + 40 + 100 + 3 =$

ب) $900 + 40 + 8 =$

۳. با توجه به ساعت به سوالها پاسخ بده.



الف) ساعت چند است؟

ب) چند دقیقه به ساعت بعدی مانده است؟

ج) یک ساعت و ربع دیگر ساعت چند می شود؟

۴. حاصل جمع و تفریقهای زیر را به روش گسترده نویسی (فرآیندی) بنویس.

$$\begin{array}{r} 536 \\ + 126 \\ \hline \end{array}$$

$$\begin{array}{r} 424 \\ - 213 \\ \hline \end{array}$$



ارزشیابی فصل پنجم



تاریخ:

نام و نام خانوادگی:

۴. در یک مزرعه ۶ مرغ و گاو زندگی می‌کنند. اگر آنها روی هم ۱۶ پا داشته باشند، چند مرغ و چند گاو در این مزرعه زندگی می‌کنند؟



.....

.....

.....

.....

۵. حاصل جمع و تفریق زیر را با استفاده از حدس و آزمایش پیدا کن.

$$50 - \square = 13$$

$$\square + 25 = 56$$

۶. یک مربع و مستطیل با اندازه‌های خواسته شده بکش.

(ب) نام شکل:

(الف) نام شکل:

طول اضلاع ۱۵ میلی‌متر

درازای ۴ سانتی‌متر، پهنا ۲ سانتی‌متر

۷. ۴۵ میلی‌متر برابر است با:

(۲) ۴ سانتی‌متر و ۵۰ میلی‌متر

(۱) ۴۰ سانتی‌متر و ۵ میلی‌متر

(۴) ۴۰ سانتی‌متر و ۵۰ میلی‌متر

(۳) ۴ سانتی‌متر و ۵ میلی‌متر

