

ارزشیابی فصل پنجم



تاریخ:

نام و نام خانوادگی:

۱۲. طول یک گل ۲۰ سانتی متر است. اگر در هر روز ۱۰ میلی متر رشد کند بعد از سه روز چند میلی متر می شود؟



.....

۱۳. برای اندازه گیری کدام یک، از واحد میلی متر استفاده می شود؟

- (۱) طول کمد (۲) طول میز (۳) طول دانه برنج (۴) پهنای فرش

۱۴. در علامت مناسب بگذار.

۶۱ میلی متر ۶ سانتی متر و ۱ میلی متر

۵۴ میلی متر ۵ سانتی متر

۳ سانتی متر ۳ میلی متر

جدول خودارزیابی



۲۰۶

نیاز به تلاش	قابل قبول	خوب	خیلی خوب	معیار	ملاک
<input type="radio"/>	<input type="radio"/>	<input type="radio"/>	<input type="radio"/>	←	با واحدهای مختلف طول را اندازه گیری می کنم.
<input type="radio"/>	<input type="radio"/>	<input type="radio"/>	<input type="radio"/>	←	ربع و نیم روی ساعت می خوانم.
<input type="radio"/>	<input type="radio"/>	<input type="radio"/>	<input type="radio"/>	←	با واحد سانتی متر و میلی متر اندازه گیری را انجام می دهم.
<input type="radio"/>	<input type="radio"/>	<input type="radio"/>	<input type="radio"/>	←	واحدها را به یکدیگر تبدیل می کنم.
<input type="radio"/>	<input type="radio"/>	<input type="radio"/>	<input type="radio"/>	←	مسئله را با حدس و آزمایش حل می کنم
<input type="radio"/>	<input type="radio"/>	<input type="radio"/>	<input type="radio"/>	←	اعداد با واحد سانتی متر و میلی متر را با هم مقایسه می کنم.



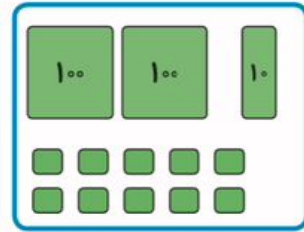
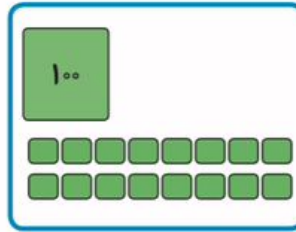
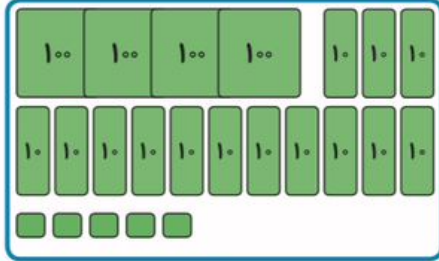
ارزشیابی فصل ششم



تاریخ:

نام و نام خانوادگی:

۱. هر شکل را به عدد مربوط به آن وصل کن.



۲. حاصل را بنویس.

الف) $700 + 20 + 3 =$

پ) $100 + 200 + 40 + 100 + 3 =$

ب) $900 + 40 + 8 =$

۳. با توجه به ساعت به سوالها پاسخ بده.

الف) ساعت چند است؟

ب) چند دقیقه به ساعت بعدی مانده است؟

ج) یک ساعت و ربع دیگر ساعت چند می شود؟



۴. حاصل جمع و تفریقهای زیر را به روش گسترده نویسی (فرآیندی) بنویس.

$$\begin{array}{r} 536 \\ + 126 \\ \hline \end{array}$$

$$\begin{array}{r} 424 \\ - 213 \\ \hline \end{array}$$

۲۰۷





ارزشیابی فصل چهارم

تاریخ:

نام و نام خانوادگی:

۹. در جاهای خالی عدد مناسب بنویس.

الف) ۳۰ سکه ۱ ریالی: سکه ۱۰ ریالی

ب) سکه ۱ ریالی: ۶۰ سکه ۱۰ ریالی

پ) ۱۰۰ سکه ۱ ریالی: سکه ۱۰ ریالی: سکه ۱۰۰ ریالی

۱۰. با رقم‌های ۵، ۲ و ۳ همه عددهای سه رقمی را بنویس که جمع یکان و صدگان برابر با دهگان باشد.

(به روش حذف حالت‌های نامطلوب)

.....
.....

۱۱. روی یک درخت ۶۳ سیب وجود داشت. باغبان ۷ سیب را چید. حالا چند سیب روی درخت است؟

.....
.....

جدول خودارزیابی



۲۰۲

ملاک	معیار	خیلی خوب	خوب	قابل قبول	نیاز به تلاش
◀ اعداد سه رقمی را در جدول ارزش مکانی نشان می‌دهم.	←	<input type="radio"/>	<input type="radio"/>	<input type="radio"/>	<input type="radio"/>
◀ جمع و تفریق اعداد سه رقمی را با محور اعداد انجام می‌دهم.	←	<input type="radio"/>	<input type="radio"/>	<input type="radio"/>	<input type="radio"/>
◀ اعداد سه رقمی را به صورت تقریبی جمع و تفریق می‌کنم.	←	<input type="radio"/>	<input type="radio"/>	<input type="radio"/>	<input type="radio"/>
◀ ساعت را با ربع و نیم می‌خوانم و نشان می‌دهم.	←	<input type="radio"/>	<input type="radio"/>	<input type="radio"/>	<input type="radio"/>
◀ جمع و تفریق سه رقمی را با جدول اعداد نشان می‌دهم.	←	<input type="radio"/>	<input type="radio"/>	<input type="radio"/>	<input type="radio"/>
◀ مسئله‌ها را با حذف حالت‌های نامطلوب حل می‌کنم.	←	<input type="radio"/>	<input type="radio"/>	<input type="radio"/>	<input type="radio"/>
◀ واحد پول کشور ایران را می‌دانم.	←	<input type="radio"/>	<input type="radio"/>	<input type="radio"/>	<input type="radio"/>



ارزشیابی فصل پنجم

علوی



تاریخ:

نام و نام خانوادگی:

۸. ۷ سانتی متر و ۱۱ میلی متر می شود:

(۲) ۸۰ میلی متر

(۱) ۹۱ میلی متر

(۴) ۸۱ میلی متر

(۳) ۹۵ میلی متر

۹. ۲۵ دقیقه بعد از ساعت مقابل چه ساعتی می شود؟



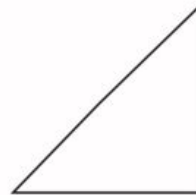

(۱) ۲:۳۵

(۲) ۳:۵۰

(۳) ۳:۴۵

(۴) ۳:۰۵

۱۰. طول ضلع های اشکال زیر را با خط کش اندازه بگیر و بنویس. (واحدها به میلی متر باشند).



۲۰۵

۱۱. این موش هر روز برای رسیدن به لانه ی خود مسیر زیر را می پیماید. این موش چند سانتی متر راه را طی می کند؟ منظور از (س.م) در تصویر واحد سانتی متر است.

