



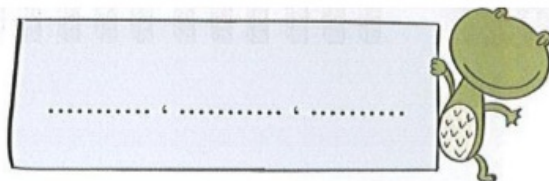
۶ - با رقم های ۴ و ۱ و ۹ هر چه می توانی عدد سه رقمی بساز و بنویس. (باتکرار)



حالا عددهای بالا را از کم تر به بیشتر مرتب کن و بنویس.



در بین عدد های بالا عدد هایی را بنویس که رقم های آن ها مثل هم باشد.

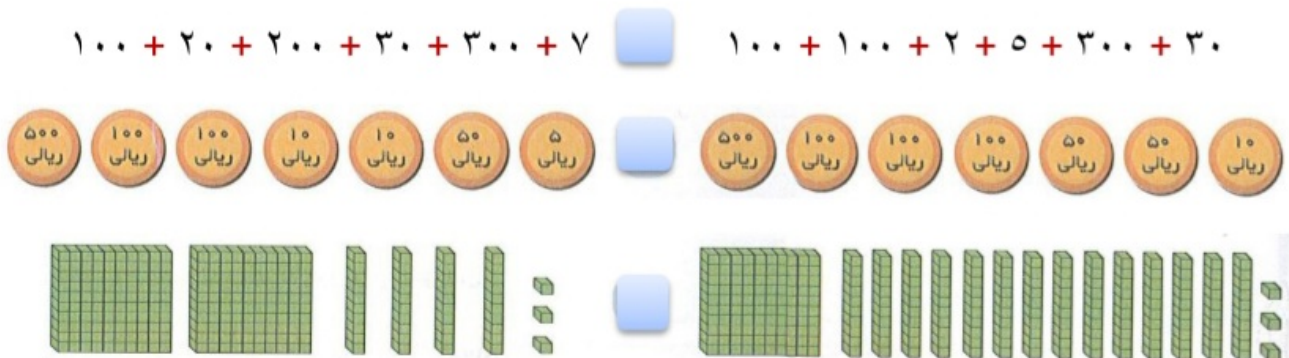


۷ - حاصل جمع و تفریق زیر را بنویس . (به روش تکنیکی)

275	509	388	730
$+ 654$	$- 148$	$+ 452$	$- 410$

۸ - قد مادر حامد 175 سانتی متر است . اگر حامد 36 سانتی متر از مادرش کوتاه تر باشد، اندازه ی قد حامد چقدر است ؟

۹ - ابتدا قسمت های مساوی را از دو طرف حذف کن ، سپس مقایسه کن.



فرزندم با تلاش، کوشش و توکل به خدا موفق خواهی شد.

