

۳) گلم با شابلون یک مربع و یک مستطیل بکش و این دو شکل را باهم مقایسه کن.

شباهت: .....

تفاوت: .....

۴) جاهای خالی را کامل کن.

الف) ۴۸ یعنی ..... ده‌تایی و ..... یکی

ب) ۵ دسته‌ی ده‌تایی و ۶ یکی می‌شود .....

ج) من چه عددی هستم، یکانم ۲ و دهگانم ۴ تا بیشتر از یکانم است؟ .....

۵) رضا در دفتر خود ۵۷ گل کشید. ۲۷ تا از آن‌ها را زرد و بقیه را قرمز کرد. رضا چند گل را قرمز کرده است؟ (روش

فرآیندی)

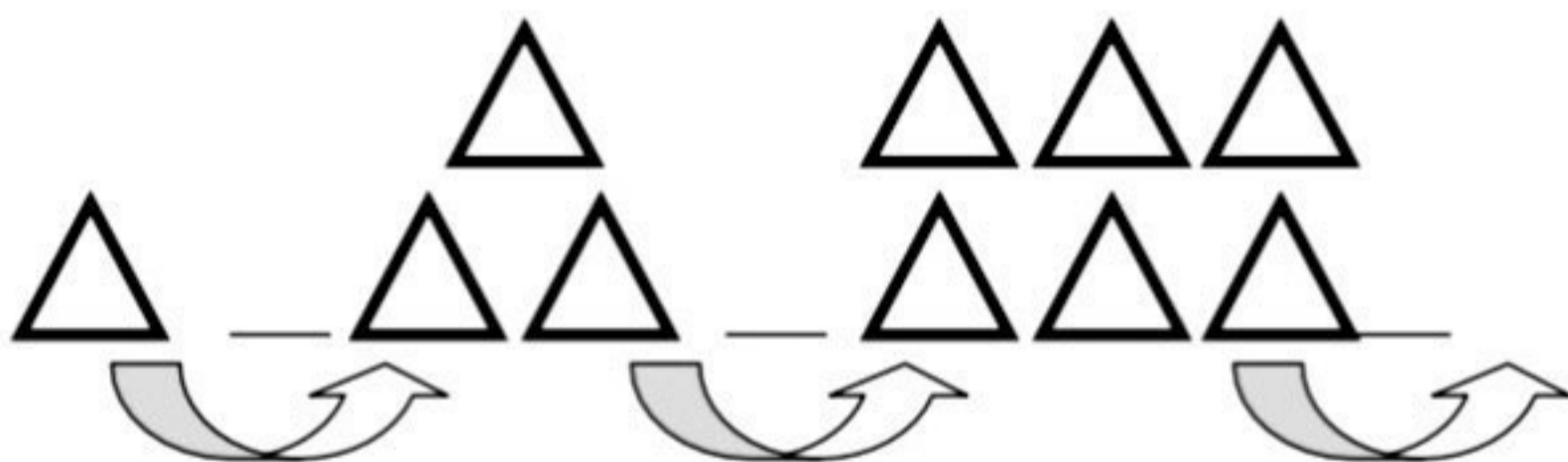
۵) رضا در دفتر خود ۵۷ گل کشید. ۲۷ تا از آن‌ها را زرد و بقیه را قرمز کرد. رضا چند گل را قرمز کرده است؟ (روش فرآیندی)

1

۶) برای شکل‌های زیر یک خط تقارن بکش و شکلی را که خط تقارن ندارد، مشخص کن.



۷) الگوی زیر را ادامه بده



۸) علامت < = > بگذار.

- \* ۴ ده‌تایی و صفر یکی
- \* ۶ ده‌تایی و صفر یکی
- \* یک ربع مانده به چهار
- چهار ده‌تایی و دو یکی
- ۶ ده‌تایی و صفر یکی
- ۳:۴۵

۹) با کشیدن عقربه ساعت‌های زیر را کامل کن.

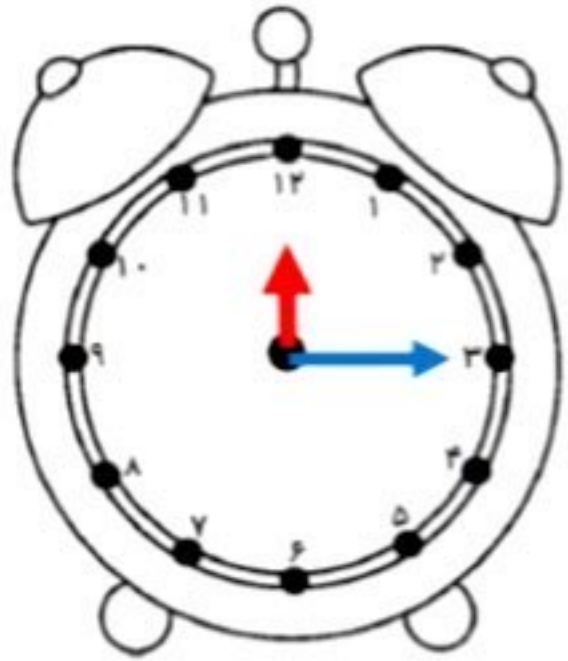


ساعت چهار و ربع



نیم ساعت از ۶ گذشته

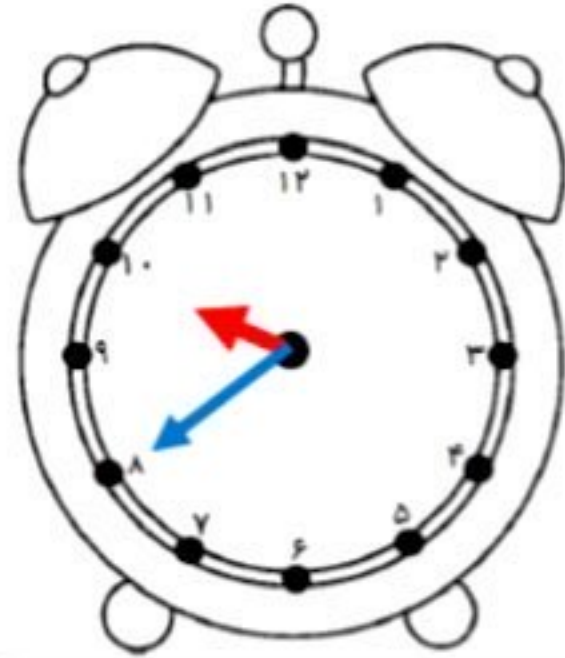
۹- ساعت ها را بنویس .



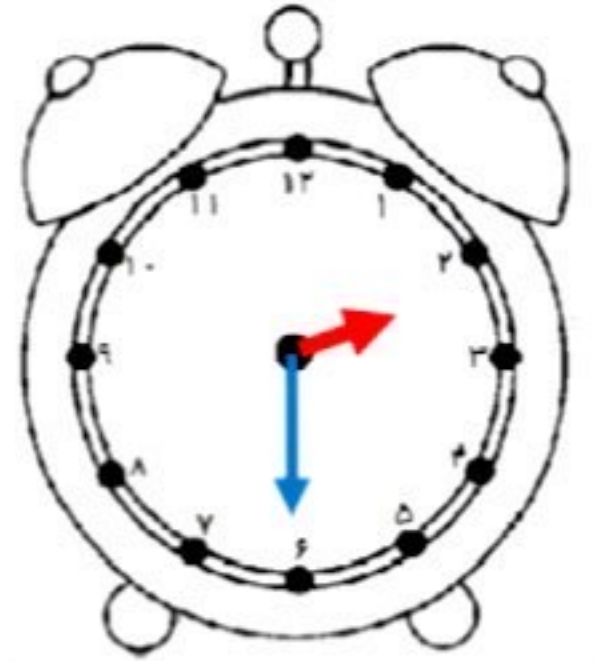
ساعت ..... و ..... دقیقه است



ساعت ..... و ..... دقیقه است



ساعت ..... و ..... دقیقه است



ساعت ..... و ..... دقیقه است

۱۰- با کمک خط کش و شابلون یک شکل هندسی رسم کن که چهار ضلع و چهار گوشه داشته باشد و دو ضلع روبروی آن با هم مساوی باشد .