



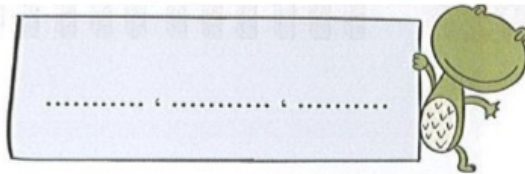
۶ - با رقم های ۴ و ۱ و ۹ هر چه می توانی عدد سه رقمی بساز و بنویس. (باتکرار)



حالا عددهای بالا را از کم تر به بیشتر مرتب کن و بنویس.



در بین عدد های بالا عدد هایی را بنویس که رقم های آن ها مثل هم باشد.

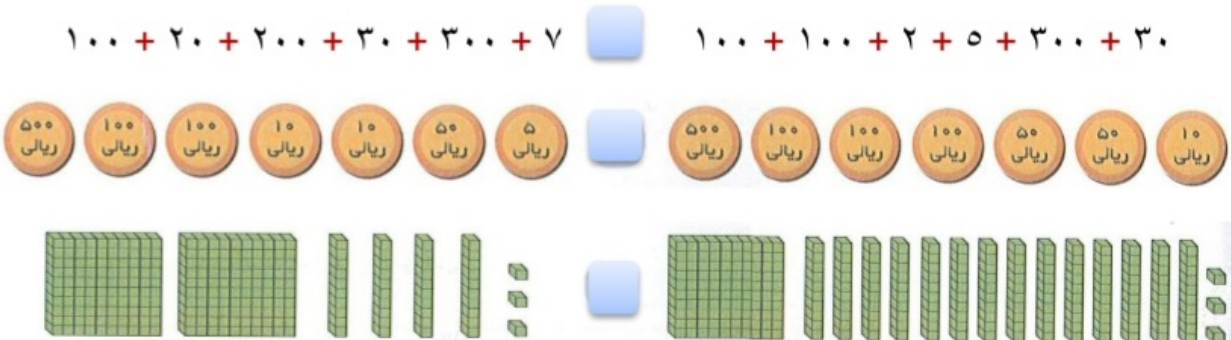


۷ - حاصل جمع و تفریق زیر را بنویس ۰ (به روش تکنیکی)

$275$	$5.9$	$388$	$73.0$
$+654$	$-148$	$+452$	$-41.0$
<hr style="width: 100%;"/>	<hr style="width: 100%;"/>	<hr style="width: 100%;"/>	<hr style="width: 100%;"/>

۸ - قد مادر حامد ۱۷۵ سانتی متر است . اگر حامد ۳۶ سانتی متر از مادرش کوتاه تر باشد، اندازه ی قد حامد چقدر است ؟

۹ - ابتدا قسمت های مساوی را از دو طرف حذف کن ، سپس مقایسه کن.



فرزندم با تلاش، کوشش و توکل به خدا موفق خواهی شد.

خجلی خوب     
  خوب     
  قابل قبول     
  نیاز به تلاش بیشتر

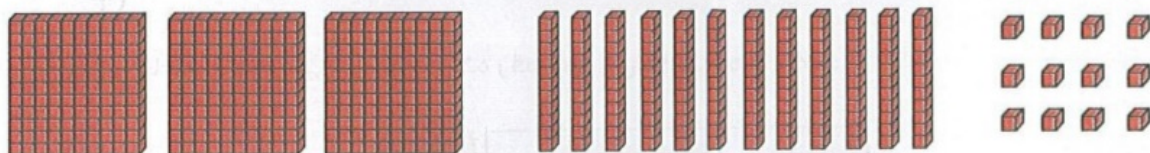
۱- در کدام یک از گزینه های زیر ، ارزش رقم ۷ از همه بیشتر است ؟

۷۳۲ (پ)

۳۷۲ (ب)

۳۲۷ (ف)

۲- تا می توانی دسته ده تایی و صدتایی درست کن ، سپس عددی را که شکل نشان می دهد بنویس.



صدتایی	ده تایی	یکی
.....	.....	.....

با رقم:.....

با حروف:.....

۳- در جای خالی علامت « < = > » بگذار .

۱۱۹  ۱۹۱

۹۹ + ۱  ۱۰۰

۶۰۰ - ۳۰۰  ۳۰۰ + ۱۰۰

۸۵۷  ۷۸۵

۴- سارا ۵ سکه ی ۱۰۰ ریالی و ۴ سکه ی ۱۰ ریالی و ۳ سکه ی ۱ ریالی داشت. برادرش به او یک سکه ی ۲۵۰ ریالی و یک سکه ۵۰ ریالی داد. حالا سارا چند ریال پول دارد؟ ( شکل بکش )

۵- حاصل جمع و تفریق های زیر را بنویس.

$۳۰۰ + ۲۰ + ۶۰۰ =$

$۵۳۰ - ۲۰۰ =$

$۱۰۰ + ۲۰۰ + ۳۰ + ۳۰۰ + ۷ =$

$۷۶۰ - ۶۰۰ =$