
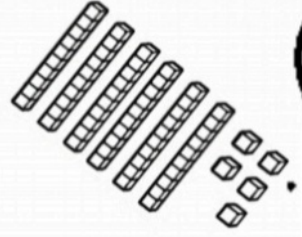



به نام خدا

پایه دوم دبستان

نام و نام خانوادگی



به نام خدا
نمونه سوالات فصل اول ریاضی پایه دوم دبستان



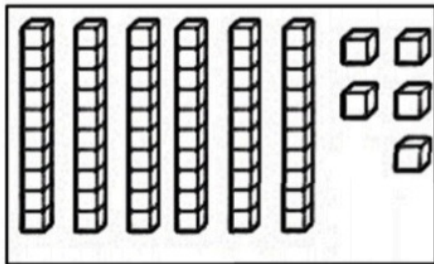
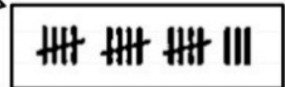
بشمار و تعداد هر کدام را به عدد و حروف بنویس.

به عدد:

به حروف:

به عدد:

به حروف:



به عدد:

به حروف:

به عدد:

به حروف:




جدول شگفت انگیز زیر را کامل کن، سپس به سوالات زیر پاسخ بده.

۳	۶	۵	۴		۲	۱	۹	۸
۴	۲	۹	۸	۵		۶	۳	۷
	۸	۱		۹	۳	۲		۴
۱	۷	۴	۳	۶		۸	۲	
۸	۳	۲	۷	۱	۹	۵	۴	۶
	۹	۶	۲	۸	۴		۷	۱
۲	۴	۷	۱	۳		۹	۸	
۶		۸	۹	۲	۷	۴	۱	۳
۹	۱	۳	۵		۸	۷	۶	۲

این جدول چند ردیف دارد؟.....

این جدول چند ستون دارد؟.....

این جدول از چند مربع کوچک درست  شده است؟.....

ستون چهارم از سمت راست را آبی کن.

زمان پخش یک برنامه کودک مورد علاقه‌ات را در این ساعت نشان بده.





کامل کن.

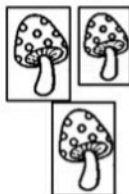


ساعت از ... گذشته است. ساعت ... است. کمی به ساعت ... مانده است. ساعت بین ... و ... است.

الگوها را کامل کن.



فردا که به مدرسه می روی پلاک هایی که در کوچه تان می بینی یادداشت کن و اینجا بنویس.



یکی ده تایی

کامل کن.


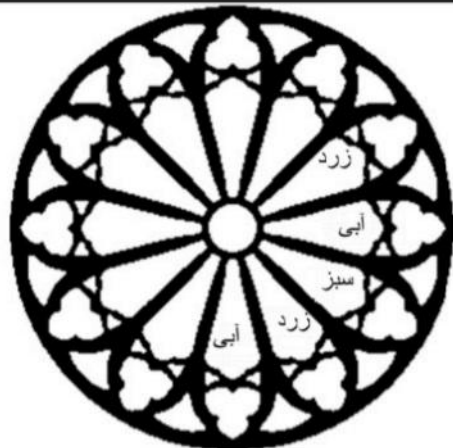
به عدد:

به حروف:

با رقم های ۹ و ۴ هر چه می توانی عدد ۲ رقمی بنویس.



الگوها را با رنگ کردن ادامه بده.



در این جدول چند کلمه اشتباه و چند کلمه درست نوشته شده است؟ خانه های درست را رنگ

چاغ	خروس	زهدت	سپاس گزاریم	خواندن
غورباچه	محمد		فسل	پاییز
مریظ	حیات		جیق	کلاغ
شعار	ازیز		ثدف	مذرعہ

بزن.

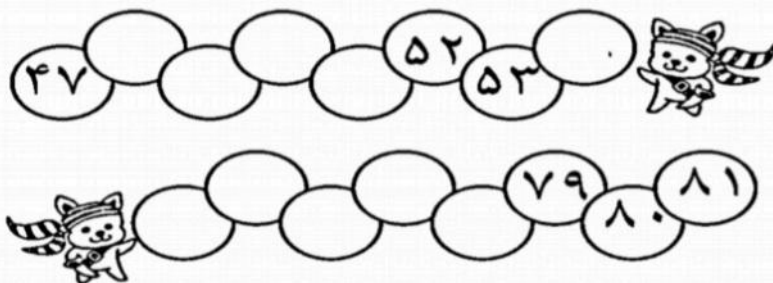
.....کلمه نادرست

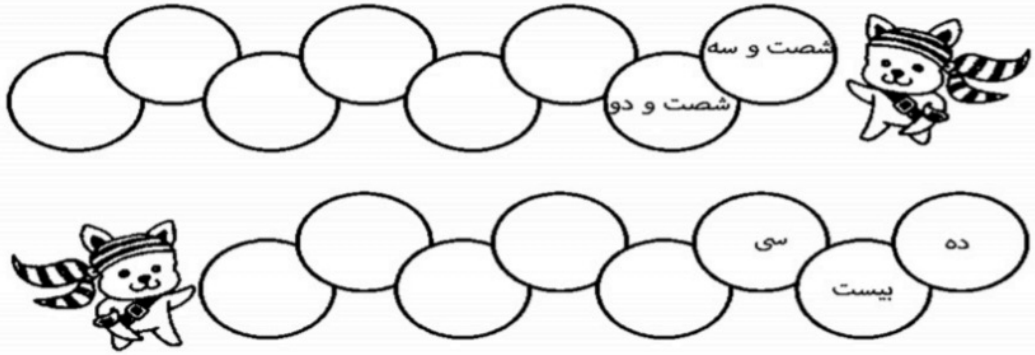
..... کلمه درست

حالا با این دو رقم هر چه می توانی عدد دو

رقمی بنویس.

نوشتن عددها را ادامه بده.





من چه عددی هستم؟



الف) رقم یکانم ۴ و رقم دهگانم ۹



ب) رقم دهگانم ۳ و رقم یکانم ۶



ج) رقم یکانم ۵ و رقم دهگانم ۳ تا بیشتر از آن

د) رقم دهگانم ۷ و رقم یکانم ۴ تا کمتر از رقم دهگان



ه) رقم یکان ۲ و رقم دهگان ۰



امروز ۲۵ مهرماه است. ۹ روز پیش تولد ساسان بوده است. تاریخ تولد او

چه روزی است؟ (شکل، چوب خط یا محور)

در یک صف نانوایی ۲۵ نفر خانم و آقا ایستاده بودند. اگر ۱۱ نفر خانم باشند، چند نفر آقا ایستاده

است؟ (شکل، چوب خط یا محور)





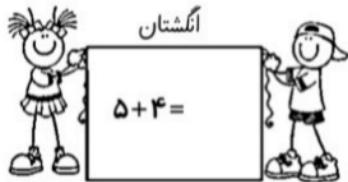


آرش برای تولدش ۴۸ بادکنک مشکی و سفید خرید. وقتی آن ها را شمرد، به

مادرش گفت ۲۷ بادکنک مشکی است. حالا تو بگو چند بادکنک سفید است؟ (شکل،

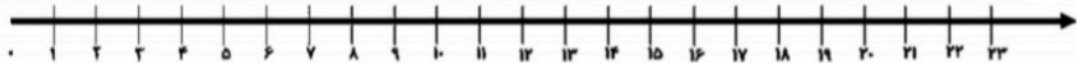
چوب خط یا محور)

جواب این جمع و تفریق ها را از هر روشی که خواسته شده به دست آور.

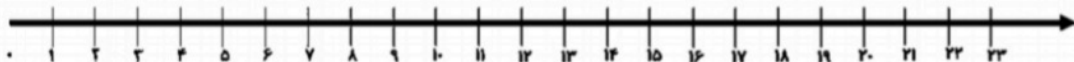


$15 - 3 + 4 =$

به کمک محور حاصل جمع و تفریق ها را به دست آور.



$7 + 8 + 6 =$



با رنگ کردن مربع ها حاصل را به دست آور.

سودابه ۳ روسری، ۵ شال و ۴ مقنعه دارد. همه ی آن ها با هم چند تا هستند؟

--	--	--	--	--

--	--	--	--	--

--	--	--	--	--

کوروش ۴ بسته ی نی رنگی داشت. در هر بسته رنگ های قرمز، آبی، صورتی و سبز بود. او

رنگ سبز هر بسته را برداشت.

الف) چند نی برداشته است؟

ب) چند نی باقی مانده است؟



۷ خرگوش در این باغ بود، ۶ خرگوش به آن

ها اضافه شدند و سپس ۴ خرگوش رفتند. الان چند

خرگوش در باغ است؟

..... خرگوش

(این عدد چند رقمی است؟)

معلم برای کلاس ۳ بسته ی ۱۰ تایی کاغذ رنگی خرید. از قبل هم ۲ بسته ی ۱۰ تایی در کلاس

بود. برای ساخت کاردستی معلم ۹ کاغذ رنگی را به بچه ها داد. الان چند کاغذ رنگی باقی مانده است؟

یکی | ده تایی

به عدد:

به حروف: