

مرسام اعظمی

① بارقم‌های ۹ و ۳ هرچی می‌توانی عدد ۲ رقی بنویس.

۹۱۴۹۹ - ۱۴۱۴۹

② می‌چند عددی هستند؟

الف، رقم یکانم ۳ و رقم دهگانم ۹ ۹۱۴

ب، رقم یکانم ۵ و رقم دهگان ۳ تا بیشتر از آن ۸۵

۵
۸۱
۱۳

③ ارزش برای تولدش ۴۸ بارکنک مشکلی و سفید خرید.

وقتی آن‌ها را شمرد، به مادرش گفت ۲۷ بارکنک مشکلی

است. حالا توبگو چند بارکنک سفید است؟

~~XXXXXX~~
~~XX~~

۴۸
- ۲۷
—————
۲۱

۳۱ تا بارکنک سفید دارد

۱۴) الگوهای زیر را کامل کنید...

۱۸، ۱۵ و ۱۲ و ۹ و ۶ و ۳ الف

۲۴، ۲۰، ۱۶ و ۱۲ و ۸ ب

۱۵) اسن ۳ بستنی نسی رنگی داشتند. در هر بستنی رنگ های

قرمز، آبی، صورتی و سبز بود. او رنگ سبز هر بستنی را برداشت



الف، چندی برداشته است؟

$$1+1+1+1=4$$

ب، چندی باقی مانده است؟

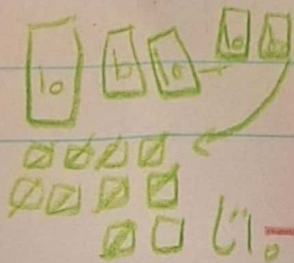
$$3+3+3+3=12$$

۱۶) محم برای کلاس ۳ بستنی هائلی کاغذ رنگی خرید. از

قبل هم ۲ بستنی هائلی در کلاس بود. برای ساخت کاردستی

محم ۹ کاغذ رنگی به بیچه ها داد. الان چند کلاس بود.


یکه | ده تایی
۱۰ | ۵
—
۱۵



کاغذ باقی مانده است؟
به عدد


به صرفه ~~چند~~ هائلی

✓ الگورا کامل کن




$$۳۷ + ۲۸ = ۶۵$$

۸ با کشیدن شکل حل کن



$$۵۶ - ۳۵ = ۲۱$$



۹ جمع و تفریق زیر را به صورت فرایندی انجام دهید و به

سئوالات پاسخ دهید

الف

الف) حال دور بزرگترین جواب به دست آمدن خطا بخش

ب) جملاتی که پیمان آن ۲ است عدد \square است

$$\begin{array}{r} ۴۴ \\ ۳۹ \\ \hline ۸۳ \\ + ۱۴ \\ \hline ۹۷ \end{array}$$

$$\begin{array}{r} ۳۷ \\ + ۳۲ \\ \hline ۶۷ \\ + ۲۲ \\ \hline ۸۹ \end{array} \quad \begin{array}{r} ۸۷ \\ - ۴۷ \\ \hline ۴۰ \\ + ۵۰ \\ \hline ۹۰ \end{array} \quad \begin{array}{r} ۹۸ \\ - ۵۷ \\ \hline ۴۱ \\ + ۱۰ \\ \hline ۵۱ \end{array}$$