




<p>مهدی ۱۱۲ سانتی متر پرید رضا ۲۸ سانتی متر کم تر از او پرید.</p> <p>الف) رضا چند سانتی متر پریده است؟</p> <p>ب) مهدی و رضا روی هم چند سانتی متر پریده اند؟</p>	۱۱														
<p>پسر گلم، پاسخ جمع و تفریق های زیر را بنویس.</p> <table style="width: 100%; text-align: center;"> <tr> <td>256</td> <td>146</td> <td>542</td> <td>245</td> </tr> <tr> <td>-177</td> <td>$+272$</td> <td>-218</td> <td>$+265$</td> </tr> </table> <table style="width: 100%; text-align: center;"> <tr> <td>100</td> <td>$100 + 761 = \dots$</td> <td>$302 - 9 = \dots$</td> </tr> <tr> <td>-9</td> <td></td> <td></td> </tr> </table>	256	146	542	245	-177	$+272$	-218	$+265$	100	$100 + 761 = \dots$	$302 - 9 = \dots$	-9			۱۲
256	146	542	245												
-177	$+272$	-218	$+265$												
100	$100 + 761 = \dots$	$302 - 9 = \dots$													
-9															
<p>در شکل زیر چه شباهت ها و تفاوت هایی دارند.</p> <div style="display: flex; justify-content: space-around; align-items: center;"> <div style="text-align: center;">  <p>۱</p> </div> <div style="text-align: center;">  <p>۲</p> </div> </div> <p>شباهت ها:</p> <p>تفاوت ها:</p>	۱۳														
<p>حاصل جمع و تفریق های زیر را بصورت فرایندی بدست بیاور.</p> <table style="width: 100%; text-align: center;"> <tr> <td>245</td> <td>286</td> </tr> <tr> <td>-124</td> <td>$+212$</td> </tr> </table>	245	286	-124	$+212$	۱۴										
245	286														
-124	$+212$														
<p>ساعت چند است؟</p> <p>- چند دقیقه مانده به ساعت ۵؟ دقیقه.</p> <p>- یک ربع قبل چند بود؟</p> <p>- نیم ساعت بعد ساعت چند است؟</p> <div style="text-align: center;">  </div>	۱۵														