



موضوع: ریاضی

تاریخ

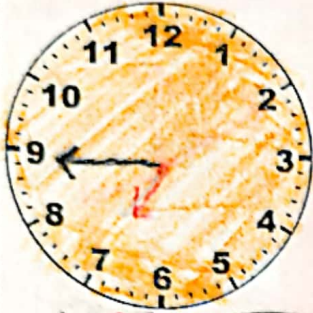
نام و نام خانوادگی

هدف: ساعت

۱۳۹۷/۷/۱

نام و نام خانوادگی

۲۵ دقیقه بعد



۴ دقیقه قبل



۴۰ دقیقه بعد

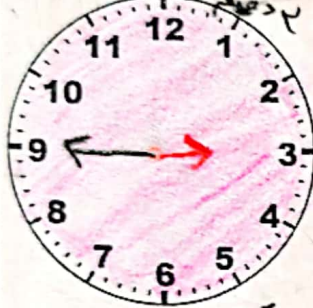


دخترم، ساعت های زیر را کامل کن.

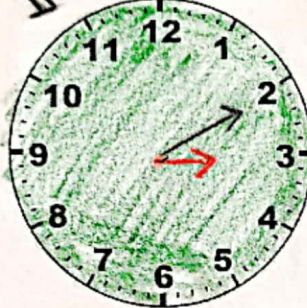
۸:۵۵



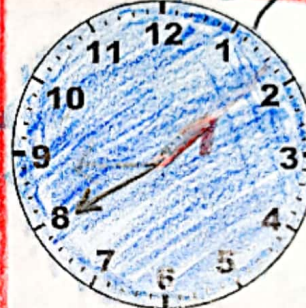
۸:۱۰



۴:۴



۴ دقیقه



۸:۵۵



۳:۱۰ یک ربع قبل



۳:۱۰



نیم ساعت قبل




۴:۲۵



۲ دقیقه



۱۲:۰۰



باز خورد:

Blank writing area with horizontal lines.

