
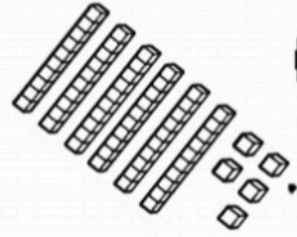


به نام خدا

پایه دوم دبستان

نام و نام خانوادگی



به نام خدا
نمونه سوالات فصل سوم ریاضی پایه دوم دبستان



۱- الف) طبق راهنما رنگ بزن.

- مربع ها ← آبی
- مثلث ها ← سبز
- مستطیل ← صورتی
- دایره ← قهوه ای

ب) از هر کدام چه تعداد وجود دارد؟



ج) هر کدام چند گوشه دارد؟



د) تعداد کل چند ضلعی ها بالا چند تاست؟



۲- الف) شکلی بکش که ۳ ضلع و ۳ گوشه داشته باشد.

ب) نام چند ضلعی هایی که ۴ ضلع و ۴ گوشه دارند.




ج) پنج ضلعی چند ضلع و چند گوشه دارد؟

۳- در این تصویر ۲ شکلی که خیلی شبیه هم هستند را پیدا کن و رنگ کن. سپس شباهت ها و



تفاوت هایشان را بنویس.



در صفحه ی شطرنجی رو به رو
کلمه ی «مادر» را با رنگ کردن خانه ها
بنویس.




با توجه به تعداد هر شکل، خانه های جدول رو به رو را رنگ کن.



شکل هایی که توضیح داده شده با وصل کردن نقطه ها به هم

رسم کن.



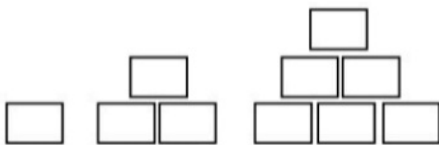
الف) در گوشه ی بالا سمت راست: ۴ ضلع و ۴ گوشه داشته باشد و همه ی ضلع ها مساوی هم باشند.

ب) در گوشه ی بالا سمت چپ: ۳ ضلع و ۳ گوشه داشته باشد و ۲ ضلع آن بزرگتر از دیگری باشد.

ج) در گوشه ی پایین سمت راست: ۴ ضلع و ۴ گوشه داشته باشد و دو ضلع آن مساوی باشند.

د) در گوشه ی پایین سمت چپ: هر چند ضلعی که دوست داری بکش.


الگوها را ۲ مرحله ی دیگر ادامه بده.



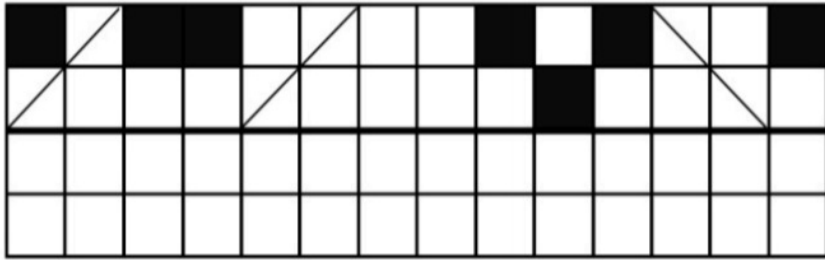
۱

۳

۶



نیمه ی دیگر شکل را با توجه به خط تقارن کامل کن.



اول بنویس ساعت چه زمانی را نشان می دهد و سپس بنویس در هر ساعت عقربه ی بزرگ چند


دقیقه حرکت کرده است؟



..... :



..... :



..... دقیقه
حرکت کرده
است.



..... :



..... :



..... دقیقه
حرکت کرده
است.




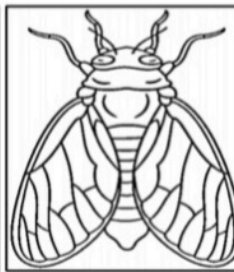
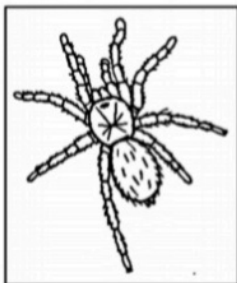
..... :



..... :




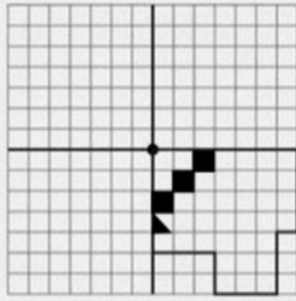
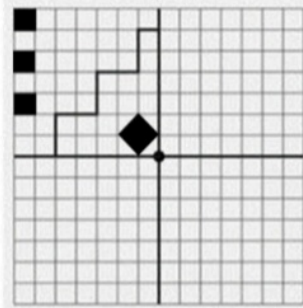
..... دقیقه
حرکت کرده
است.



کدام یک خط تقارن ندارد؟



طوری کامل و رنگ کن که ۴ قسمت کاملاً مثل هم و هم قرینه باشند.



عقربه‌ها را رسم کن.



نیم ساعت مانده به ۹



یک ربع مانده به ۵



نیم ساعت گذشته از ۱۰



یک ربع گذشته از ۲



ساعت یازده و ربع است. یک ربع دیگر ساعت چند می‌شود؟



ساعت ۷ است. سه ساعت و ربع دیگر ساعت چند می‌شود؟



ساعت چهار و ربع است. دو ساعت و ربع دیگر ساعت چند می‌شود؟

شکل‌های زیر را به ۴ قسمت مساوی تقسیم کن و سپس کلمات زیر را بر حسب اینکه نشانه‌ی « و، آن‌ها صدایشان مثل هم است در یک گروه قرار بده و هر کدام را در یک شکل بنویس. (خواهر - ورزش - خورشید - موز - خوراکی - توت - خواندن - خواهش - ورق - موش - شور - والیبال).

