


۱) با سوالات زیر پاسخ دهید.

الف) شکل پهن که ۳ ضلع و ۳ گوشه داشته باشد
 نام چند ضلع هایی که ۴ ضلع و ۴ گوشه دارند را بنویس.


ب) پنج ضلع چند گوشه دارد؟

۲) شباهت و تفاوت های شکل های زیر را بنویسید.



شبهت: هر دو ۳ گوشه و ۳ ضلع دارند.
 تفاوت: ضلع های مثلث ۱ با هم برابرند و در ضلع های مثلث ۲ با هم برابر نیستند.


۳) الگوهای زیر را ادامه دهید.



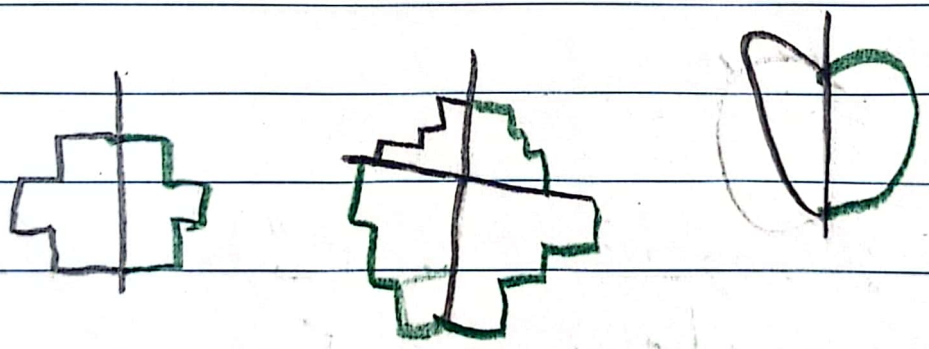
۱۰
۲۰
۶/۱۰

۴) ساختن های زیر را بنویسید

الف) ساعت چهار و ربع است. دو ساعت و ربع دیگر ساعت چند است؟
 ب) ساعت پنج و ربع است. دقیقه است. سه دقیقه دیگر ساعت چند است؟
 ج) عقربه های بزرگ ۱۰ دقیقه حرکت کرده است.



۵) شکل های زیر را کامل کنید.



۶) الف) اگر ۵ سنگی ۱۰ پایش با نانگ بردن چند سنگی ده
 ب) اگر ۷ سنگی یک پایش با نانگ بردن چند سنگی ده
 سنگی ۱۰ می توانی با نانگ بردن


پایش با نانگ بردن ده

۴ دستای صدتایی و ۴ دستای ده تایی و ده تاییها

این مقدار را در جدول ارزش مکانی قرار بده و بعد به تکیه نشان

بده و به عدد و حرف بنویس. به عدد ۳۳۵ در حرف: سیصد و

نصبت و پنج



۵ با کارت های ۳ و ۳ و ۳ هر یک می توان عدد ۳ رقمی بنویس


الف: کدام عددها رقم یکان نشان از دهگان و صدگان بیشتر است؟
ب: بزرگترین عدد کدام است؟ ۳۳۵

۶ گروه آمپین در کل مسئولی مسابقه ای ۲۴۷ امتیاز جمع

کرده اند و گروه رقیبشان ۲۴۷ امتیاز با صورت تقارین
> با جوخ بیگان و دهگان چند امتیاز عقب هستند؟

$230 \rightarrow 100$
 $254 \rightarrow 100$

$100 - 200 = 100$



• 100 / انتباه فقط مستند