
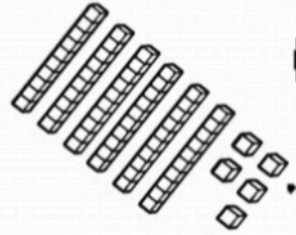


به نام خدا

پایه دوم دبستان

نام و نام خانوادگی




به نام خدا
نمونه سوالات فصل پنجم ریاضی پایه دوم دبستان

۱- طول جارو بین آچار و آچار است، یعنی از آچار بیشتر است ولی به آچار نمی رسد.



طول راکت بدمینتون بین آچار و آچار است، یعنی از آچار بیشتر است ولی به آچار نمی رسد.



طول شیپور بین آچار و آچار است، یعنی از آچار بیشتر است ولی به آچار نمی رسد.

۲- ساعت چند است؟ با توجه به قسمت رنگی، بگو عقربه ی بزرگ چقدر حرکت کرده است؟



..... دقیقه
حرکت کرده




..... دقیقه
حرکت کرده





..... دقیقه
حرکت کرده

۳- اندازه ی هر شکل را با کامل کردن جاهای خالی بنویس.




اندازه ی طول گیتار و است.



اندازه ی طول ماژیک و است.

۴- عقربه ها را خودت بکش و سپس بنویس عقربه بزرگ چند دقیقه حرکت کرده است.



۴:۱۵



۴:۵۰





۱۰:۰۵



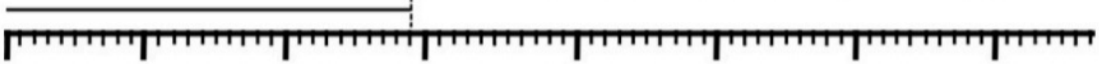
۱۰:۳۰



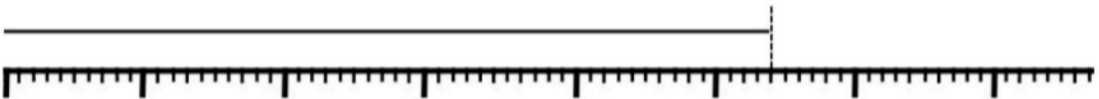
۵- با توجه به عقربه ی بزرگ (دقیقه شمار) بنویس یک ربع دیگر ساعت چند می شود؟
:۳ :۳ :۳



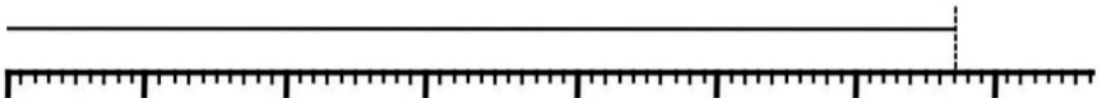
۶- اندازه ی هر خط را با کامل کردن جاهای خالی مشخص کن.



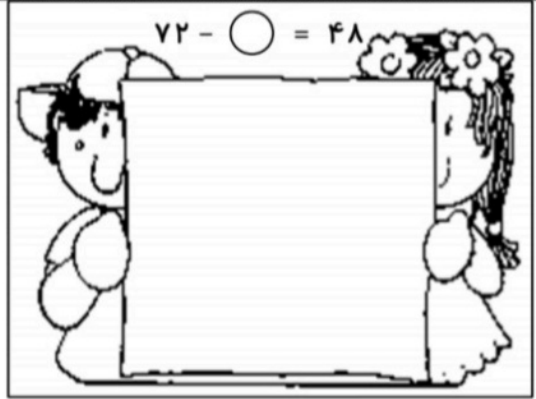

اندازه ی خط قسمت بزرگ و قسمت کوچک است.



اندازه ی خط قسمت بزرگ و قسمت کوچک است.




اندازه ی خط قسمت بزرگ و قسمت کوچک است.



چند دقیقه ی دیگر ساعت ۲:۴۰ می شود؟

چند دقیقه ی دیگر ساعت ۷ می شود؟




۵ شترمرغ و گاو در یک مزرعه بودند. اگر تعداد پاهای آن ها روی هم ۱۸ تا

باشد، چند شترمرغ در این مزرعه است؟

در یک جنگل ۷ شیر و گنجشک کنار هم ایستاده بودند. اگر پاهای آن ها روی هم ۲۲ تا باشد،

چند تا از آن ها شیر و چند تا گنجشک است؟



خط های زیر را با خط کش اندازه گیری کن و بنویس.

..... سانتی متر

..... سانتی متر

..... سانتی متر

خطی به طول ۴ و ۸ سانتی متر با خط کش بکش و وسط آن ها را علامت بزن.

جدول شگفت انگیز زیر را حل کن.

9	7		6	5		3	2	1
3		6	4	2	7		9	8
5	2	8		3	1	4		6
2		3		9	6	1	4	7
	9	7	2		4	6	3	5
6	4	5	7	1	3		8	
		1	3	7	2	8	6	9
7	3	9	8		5	2	1	
8	6	2		4	9	7		3



۱۲ روز دیگر ماه بهمن تمام می شود و اسفند ماه شروع می شود. امروز چندم بهمن ماه است؟
(سعی کن از روش حدس و آزمایش استفاده کنی).

$$۱۲ + \bigcirc = ۳۰$$

پر دیس برای درست کردن دستبند ۴۲ مهره قرمز و زرد استفاده کرد. اگر تعداد مهره های

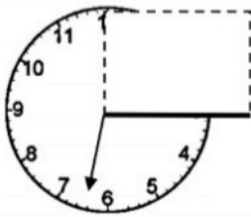
قرمز ۱۷ تا باشد. تعداد مهره های زرد چند تا است؟ (روش حدس و آزمایش) $\bigcirc + ۱۷ = ۴۲$



به روش حدس و آزمایش مقدار \bigcirc را پیدا کن.

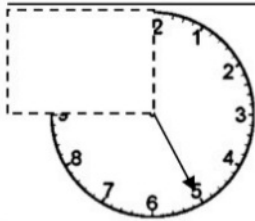
$\bigcirc + ۲۷ = ۵۶$

$۳۳ - \bigcirc = ۱۲$



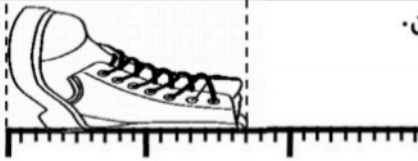
عقربه ی بزرگ چند تا یک ربع بچرخد تا به ضلع علامت زده شده

مستطیل برسد؟



عقربه ی بزرگ (دقیقه شمار) چند دقیقه حرکت کند تا به ضلع بزرگ

مستطیل برسد؟




طول این اشکال را با کامل کردن جاهای خالی مشخص کن.

ارتفاع کفش بین و سانتی متر است.

ارتفاع کفش از سانتی متر بیشتر و از سانتی متر کمتر است.

ارتفاع کفش سانتی متر و قسمت کوچک است.

ارتفاع کفش سانتی متر و میلی متر است.

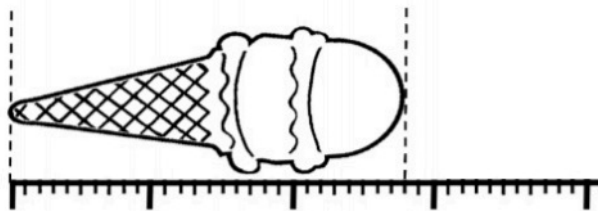


طول خمیردندان بین و سانتی متر است.

طول خمیردندان از سانتی متر بیشتر و از سانتی متر کمتر است.

طول خمیردندان سانتی متر و قسمت کوچک است.

طول خمیردندان سانتی متر و میلی متر است.



اندازه ی بستنی بین و سانتی متر است.

اندازه ی بستنی از سانتی متر بیشتر و از سانتی متر کمتر است.

اندازه ی بستنی سانتی متر و قسمت کوچک است.

اندازه ی بستنی سانتی متر و میلی متر است.



هر یک از اضلاع را به طور دقیق با خط کش اندازه بگیر و اندازه ی آن را بنویس (نام شکل های

که می دانی را در پایین آن بنویس) .



مربعی بکش که هر ضلع آن ۴ سانتی متر باشد و سپس وسط هر ضلع آن را با

نقطه مشخص کن و نقطه ها را با خط کش به هم وصل کن.