

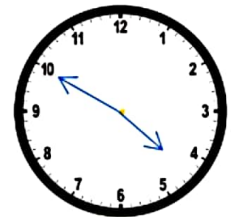
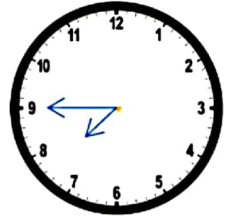
۱ - ساعت های زیر را مانند نمونه کامل کن (به ۴ روش)

07 : 45

۰۷ : ۴۵

ساعت ۱۵ دقیقه (یک ربع) به ۸ مانده است .

ساعت ۴۵ دقیقه از ۷ گذشته است .

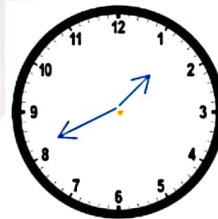
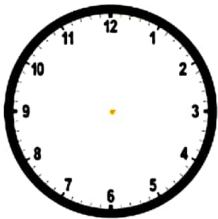


.....
.....
.....
.....

۲ - به سوالات زیر پاسخ بده

الان ساعت چند است ؟

۴ ساعت و ۲۵ دقیقه قبل ، چه ساعتی می شود ؟

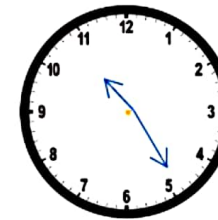
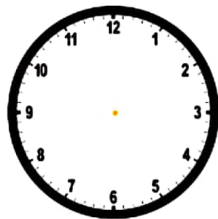


.....

.....

الان ساعت چند است ؟

۱ ساعت و ۳۰ دقیقه قبل چه ساعتی می شود ؟

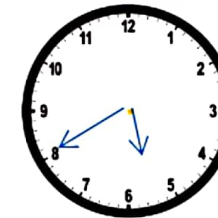
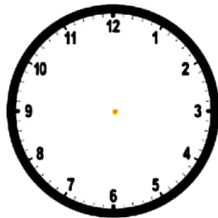


.....

.....

الان ساعت چند است ؟

۲ ساعت و ۳۵ دقیقه بعد ، چه ساعتی خواهد بود ؟



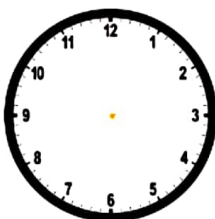
.....

.....

۳ - فاطمه ساعت ۲۰ : ۰۸ از خواب بیدار شد . سپس ۴۵ دقیقه بعد به مدرسه رفت . او در چه ساعتی به سمت مدرسه حرکت کرد ؟

از خواب بیدار

شدن



حرکت به

سمت مدرسه

