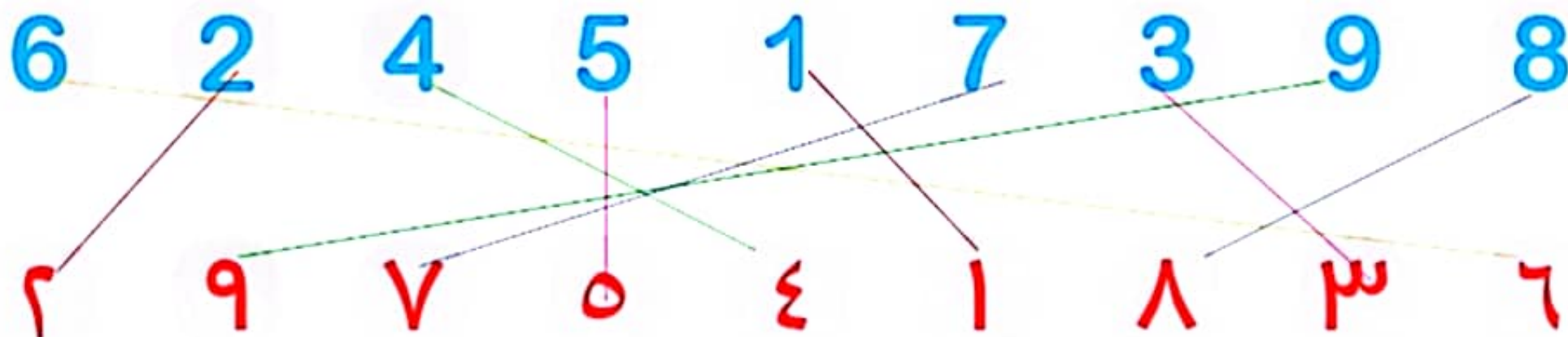


۱- هر شکل چه ساعتی را نشان می دهد؟



۲- با خط کش عددهای مثل هم را به هم وصل کنید.



۳- در جای خالی عدد مناسب بنویسید.

۷ _ ۸ _ ۹ _ ۱۰

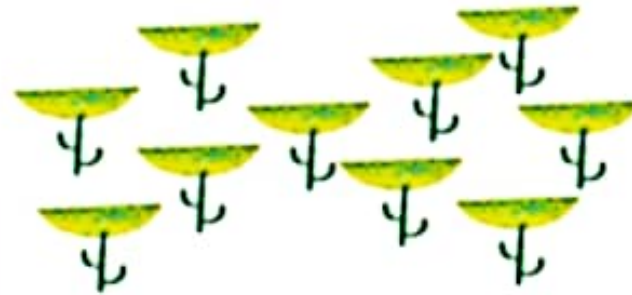
۱ _ ۲ _ ۳ _ ۴ _ ۵ _ ۶

حدس بزن

بدون شمردن بگویید در کدام شکل تعداد گل‌ها بیشتر است؟




۷



۱۰

با توجه به شکل‌های بالا عبارت زیر را با نوشتن تعداد گل‌ها کامل کنید و از دو طرف بخوانید:

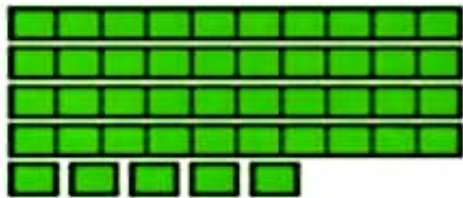
۷ < ۱۰




دسته‌های ده تایی و یکی



با توجه به شکل جدول‌ها را کامل کنید :




ده تایی	یکی
۳	۵



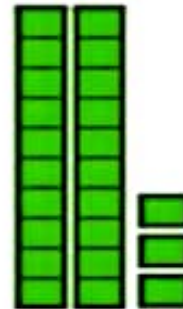
ده تایی	یکی
۳	۶



فعالیت



ده تایی	یکی
۵	۰



ده تایی	یکی
۲	۳



کار در کلاس

نوشتن عددها را ادامه دهید:

۱۰_ ۲۰_ ۳۰_ ۴۰_ ۵۰_ ۶۰_ ۷۰_ ۸۰_ ۹۰

ده_ بیست_ سی_ چهل_ پنجاه_ شصت_ هفتاد_ هشتاد_ نود







