





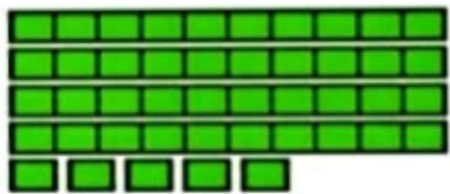





# دسته‌های ده تایی و یکی



با توجه به شکل جدول‌ها را کامل کنید:




ده تایی	یکی
۴	۵



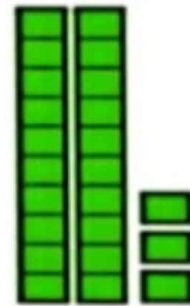
ده تایی	یکی
۳	۶



فعالیت



ده تایی	یکی
۵	۰



ده تایی	یکی
۲	۳



کار در کلاس

نوشتن عددها را ادامه دهید:

۱۰\_ ۲۰\_ ۳۰\_ ۴۰\_ ۵۰\_ ۶۰\_ ۷۰\_ ۸۰\_ ۹۰

ده\_ بیست\_ سی\_ چهل\_ پنجاه\_ شصت\_ هفتاد\_ هشتاد\_ نود