

کارت‌های عدد را که معلّم به شما می‌دهد، نگاه کنید. ۲ تا از آن‌ها را بردارید و کنار هم بگذارید تا یک عدد درست شود. عدد درست شده را بخوانید: بیست و پنج



۲۵-۵۲

همین کار را به صورت ۲ نفره انجام دهید. یکی عدد بسازد و دیگری عدد را بخواند.





فعالیت

۱- برای شمارش شکل‌ها، دسته‌های ده تایی جدا کنید و با کامل کردن جدول، تعداد شکل‌ها را بنویسید.



ده تایی	یکی
۲	۷

به حروف بیست و هفت
به عدد ۲۷

۲ ده تایی و ۳ یکی را به صورت ۲۳ می‌نویسیم و می‌خوانیم: بیست و سه عدد ۴۷ یعنی ۴ ده تایی و ۷ یکی. می‌توانیم این عدد را در جدول قرار دهیم.

ده تایی	یکی
۴	۷

در ۲۳ عدد های ۲ و ۳ / در ۴۷ عدد های ۴ و ۷

به عددهای ۲۳ و ۴۷ عددهای ۲ رقمی می‌گوییم. رقم‌های هر کدام را نام ببرید.

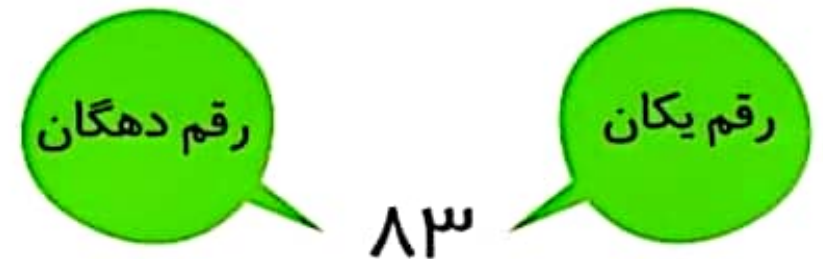
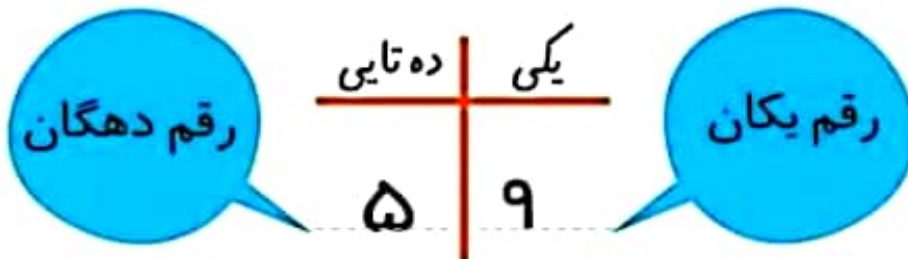
۲- با رقم‌های ۳ و ۵ هر چقدر می‌توانید عدد دو رقمی بنویسید.

۳۵ - ۳۳ - ۵۳ - ۵۵

۲ عدد دو رقمی نوشتید یا ۴ عدد دو رقمی؟ توضیح دهید و در این مورد در کلاس گفت‌وگو کنید. ۴ عدد دو رقمی حالا با رقم‌های ۷ و ۴ عددهای دو رقمی بنویسید.

۷۴ - ۷۷ - ۴۷ - ۴۴

در اعداد ۲ رقمی مانند ۵۹، رقم ۹ را رقم یکان و ۵ را رقم دهگان می‌نامیم.



فصل اول




فعالیت کلاسی



تعداد جوجه‌ها و درخت‌ها را بشمار و به عدد و حروف بنویس.

۱



تعداد جوجه‌ها

به عدد: ۱۸



به حروف: هجده



تعداد درخت‌ها


به عدد: ۹

به حروف: نه

۲ برای این که شمارش دقیقی داشته باشی کدام کارها را انجام دادی؟ شکل مقابل آن را رنگ کن.

از یک طرف شروع به شمارش کردم.  

به ترتیب شمردم.  

روی هر شکلی که شمردم علامت زدم.  

۳ تعداد کتابهای داخل کیف خود را سرشماری کن و با چوبخط نشان بده.

کتابهای من	چوبخط
	تعداد به عدد



۴ تعداد کتابهای خودت و دوستت را بنویس و در () علامت مناسب (< = >) بگذار.

تعداد کتابهای دوستم () تعداد کتابهای من

۵ جدول زیر را با نوشتن عددها از ۰ تا ۹ کامل کن.

به عدد	.	۱	۲	۳	۴	۵	۶	۷	۸	۹
به حروف	صفر	یک	دو	سه	چهار	پنج	شش	هفت	هشت	نه
به لاتین (انگلیسی)		1	2	3	4	5	6	7	8	9

۶ هر ساعت چه زمانی را نشان می دهد؟



..... ساعت ۵



..... ساعت ۱۱

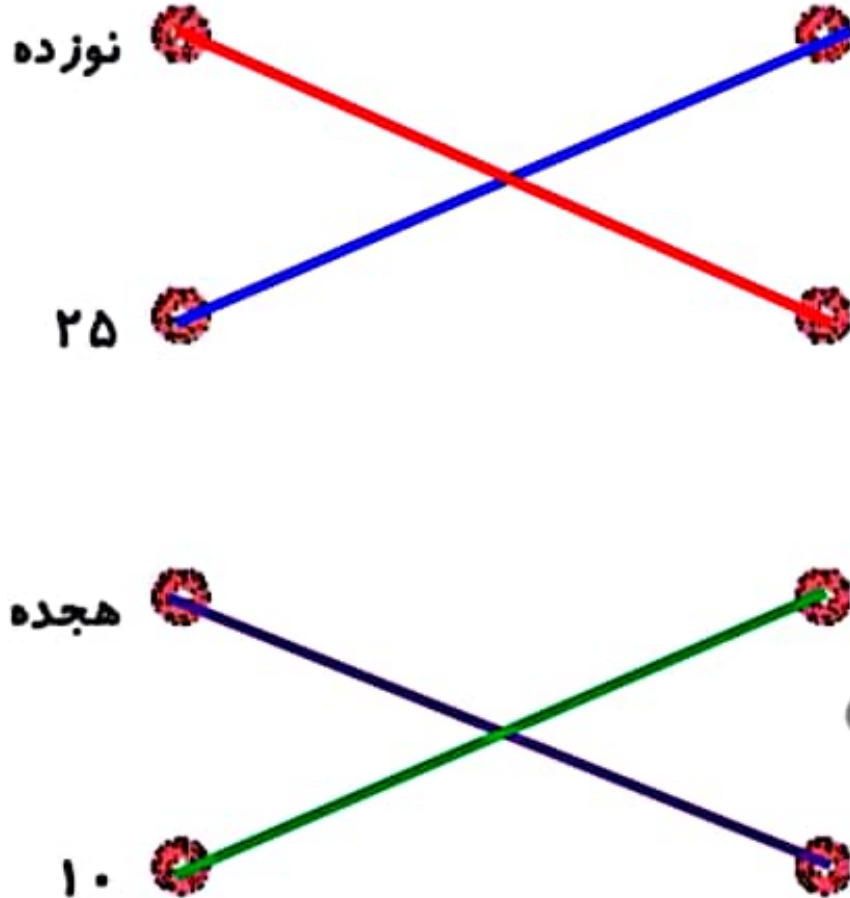


..... ساعت ۳





..... ساعت ۸

هر شکل را بعد از شمردن یکی یکی، به تعداد آن وصل کن.



۲ درستى  و نادرستى  هر عبارت را مشخص کن.

الف: عبارت $5 + 4 > 9$ صحيح است. 

ب:  ساعت ۵ : ۰۰ را نشان می دهد. 

عبارت را از دو طرف بخوان و بین هر دو عدد علامت $(< = >)$ بگذار.

۴

$$7 > 6$$

$$7 < 7+2$$

$$4 < 8$$

$$8 < 9-0$$

با توجه به ساعت‌هایی که درنا و برنا کارهای خود را انجام می‌دهند. جاهای خالی را کامل کن.



برنا در ساعت۶..... از خواب بیدار می‌شود. ★

برنا در ساعت۱..... کتاب می‌خواند. ★

درنا و برنا در ساعت۱..... غذا می‌خورند. ★