


فعالیت کلاسی



۱ تعداد جوجه‌ها و درخت‌ها را بشمار و به عدد و حروف بنویس.

تعداد جوجه‌ها

۱۸

به عدد: ۱۸

هجده

به حروف: هجده

تعداد درخت‌ها

۹

به عدد: ۹

نه

به حروف: نه

۲ برای این که شمارش دقیقی داشته باشی کدام کارها را انجام دادی؟ شکل مقابل آن را رنگ کن.



از یک طرف شروع به شمارش کردم.



به ترتیب شمردم.



روی هر شکلی که شمردم علامت زدم.

۳ تعداد کتاب‌های داخل کیف خود را سرشماری کن و با چوب‌خط نشان بده.

کتاب‌های من	چوب‌خط	۷۷۷ /
	تعداد به عدد	۷

۴ تعداد کتاب‌های خودت و دوستت را بنویس و در علامت مناسب (< = >) بگذار.

تعداد کتاب‌های دوستم ۶ < ۹ تعداد کتاب‌های من

۵ جدول زیر را با نوشتن عددها از ۰ تا ۹ کامل کن.

به عدد	۰	۱	۲	۳	۴	۵	۶	۷	۸	۹
به حروف	صفر	یک	دو	سه	چهار	پنج	شش	هفت	هشت	نه
به لاتین (انگلیسی)	0	1	2	3	4	5	6	7	8	9

۶ هر ساعت چه زمانی را نشان می‌دهد؟



۵ ساعت



۱۱ ساعت




۳ ساعت



۸ ساعت

به تعداد هر حیوان، چوب خط بکش و سپس با شمارش چوب خطها، تعداد هر حیوان را بنویس.



///

۳

۴



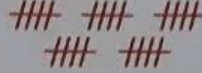
۴




۸









تمرین

۱ هر شکل را بعد از شمردن یکی یکی، به تعداد آن وصل کن.

نوزده   

۲۵   

هجده   

۱۰   

۲ درستی و نادرستی هر عبارت را مشخص کن.

الف: عبارت $4 + 5 > 9$ صحیح است.

$9 = 9$

ب: ساعت ۵:۰۰ را نشان می دهد.



۳ با توجه به ساعت هایی که درنا و برنا کارهای خود را انجام می دهند. جاهای خالی را کامل کن.



برنا در ساعت ۹ از خواب بیدار می شود.

برنا در ساعت ۱۱ کتاب می خواند.

درنا و برنا در ساعت ۱۰ غذا می خورند.

۴ عبارت را از دو طرف بخوان و بین هر دو عدد علامت ($<$ $=$ $>$) بگذار.

$7 > 6 < 7 < 7+2 > 4 < 8 = 8 < 9-0$

در شکل زیر، کیک‌های تولد نیما، مینا، مانی و مانا را نشان داده‌ایم.



مانا



مانی



مینا



نیما

کدام یک از بچه‌ها از همه بزرگ‌تر است؟

9

مانا (4)

^

مانی (3)

^

مینا (2)

نیما (1)

زنگ تفریح

عدد یک در خط میخی به صورت T و عدد ده به صورت \llcorner نوشته می‌شود بر همین اساس عدد یازده T \llcorner و عدد بیست \llcorner \llcorner می‌باشد. می‌توانی حدس بزنی عدد سی چگونه نوشته می‌شود؟

خودارزیابی

نیاز به تلاش

قابل قبول

خوب

خیلی خوب



شمارش شکل‌ها با علامت زدن

خواندن ساعت

توانایی سرشماری و مقایسه‌ی اعداد

مهارت در کشیدن، چوب خط اعداد

مهارت در حل جدول شگفت انگیز

فضا لیت کلاسی



با توجه به شکل‌ها، جدول و جاهای خالی را پر کن.



ده تایی	یکی
۴	۴

به حروف: چهل و نولس

به رقم: ۴۹



به حروف: بیست و نه

به رقم: ۲۹

ده تایی	یکی
۲	۹

جاهای خالی را کامل کن.

۲

۷۷ ده تایی می شود ۷ یکی و ۷ ده تایی می شود

۳۵ ده تایی و ۵ یکی و ۳ ده تایی برابر است با ۵

۸۹ ده تایی می شود ۸ یکی و ۹ ده تایی می شود

۸۳ ده تایی و ۳ یکی و ۸ ده تایی برابر است با ۳

۵۵ ده تایی می شود ۵ یکی و ۵ ده تایی می شود

۴۰ ده تایی و ۴ یکی و ۴ ده تایی برابر است با ۴

۳۹ ده تایی می شود ۳ یکی و ۹ ده تایی می شود

۳۴ ده تایی و ۴ یکی و ۳ ده تایی برابر است با ۴

دور رقم یکان هر عدد خط بکش و جاهای خالی را کامل کن.

۳