

فصل ۱

۱۱ | ۵۸۳۹ | ۱۹

عدد و رقم



آبا می دانید؟ در گذشته های خیلی دور انسان ها فقط می توانستند تا ۳ بشمارند. آن ها برای مدهای بیشتر از ۳ می گفتند خیلی. بعد از مدتی، عدد بعد از ۳ را می گفتند یکی بیشتر از ۳.۳ تا بیشتر از ۳ و همت را می گفتند خیلی.

به نام خداوند بخشنده و مهربان

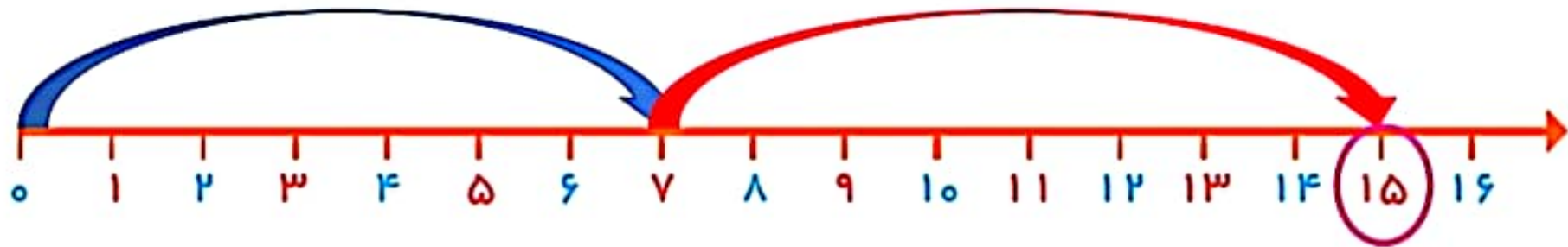
ریاضی صفحه ۹

دبستان و پیش دبستان علوی

آموزگار: خانم خاکسار



۱- امروز روز هفتم ماه است. ۸ روز بعد، چه روزی از ماه است؟ **پانزدهم** ماه است.

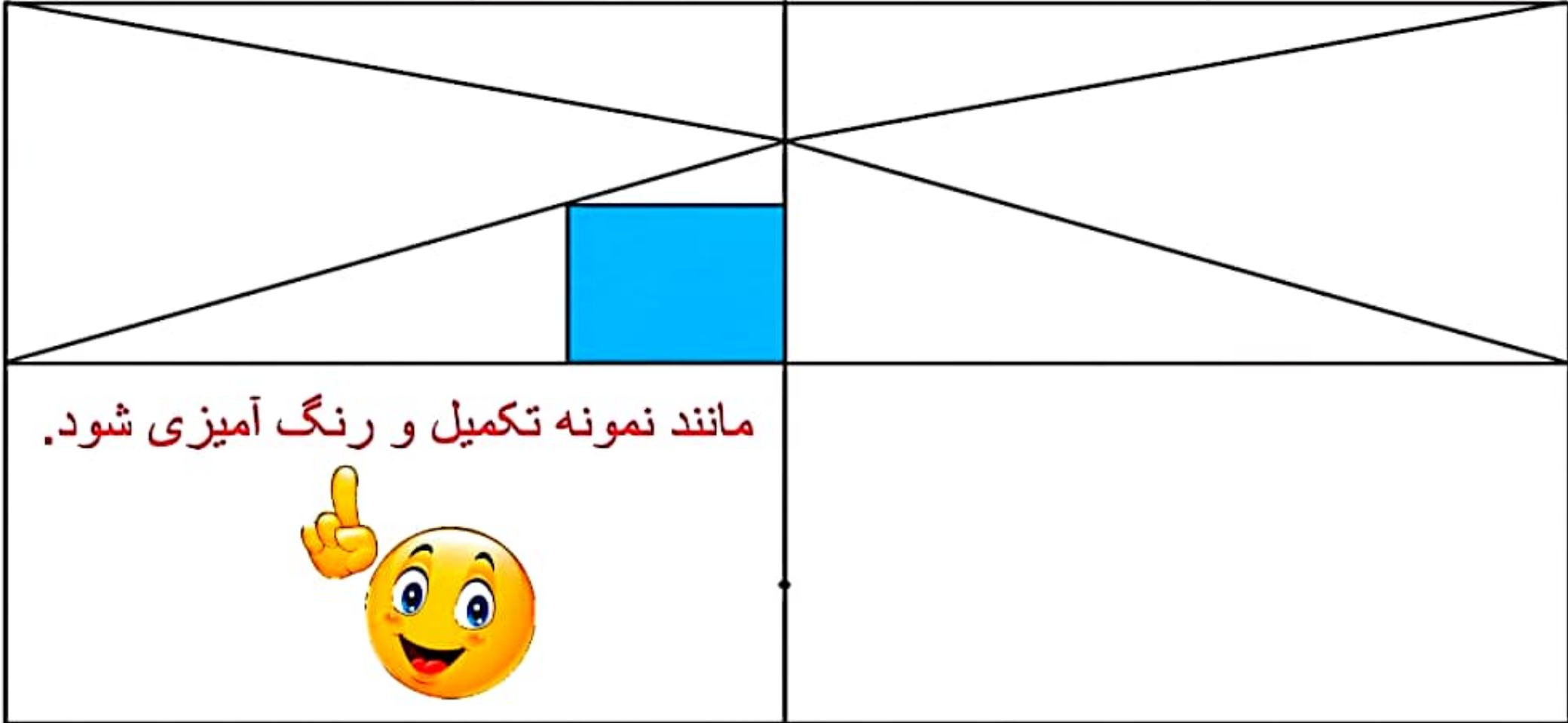


۲- سینا ۱۲ کتاب دارد. امروز ۵ تا کتاب دیگر خرید. حالا چند کتاب دارد؟ **هفده** کتاب دارد.

- ۱- به تعداد عددهایی که می خواهید با هم جمع کنید از رنگ های متفاوت استفاده کنید .
- ۲- خط ها را ادامه دار بکشید .



سه قسمت دیگر شکل را مانند قسمت داده شده با خط کش یا شابلون کامل کنید: طوری که اگر شکل را از روی خط‌ها تا کنیم، قسمت‌های چپ و راست یا بالا و پایین روی هم بیفتند.





فصل ۱

عدد و رقم

۱۱ | ۱۹ ۵۸۳۹ | ۱۱



آیا می‌دانید؟ در گذشته‌های خیلی دور انسان‌ها فقط می‌توانستند تا ۳ بشمارند. آن‌ها برای مدهای بیشتر از ۳ می‌گفتند خیلی. بعد از مدتی، عدد بعد از ۳ را می‌گفتند یکی بیشتر از ۲، ۳ تا بیشتر از ۳، ۳ تا بیشتر از ۳ و هفت را می‌گفتند خیلی.

به نام خداوند بخشنده و مهربان  
ریاضی صفحه ۱۰

دبستان و پیش دبستان علوی



آموزگار: خانم خاکسار



## جمع و تفریق



۱- حاصل جمع و تفریق‌ها را با انگشتان خود به دست آورید.

$$۴+۳=۷ \quad ۳+۴=۷ \quad ۸-۴=۴ \quad ۷-۵=۲$$

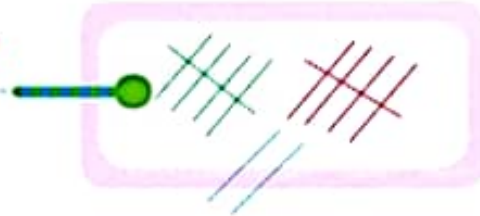


۲- حاصل جمع‌ها را با رسم چوب خط پیدا کنید.

$$۷+۸=۱۵$$



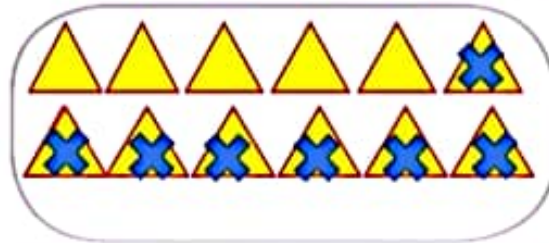
$$۶+۶=۱۲$$



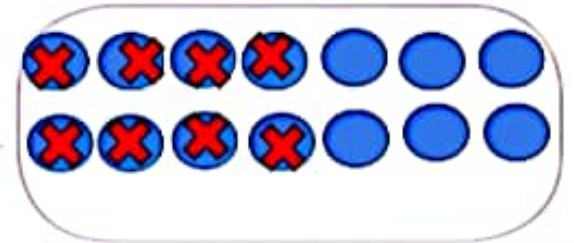
فعّالیت

۳- حاصل تفریق را با رسم شکل پیدا کنید.

$$۱۲-۷=۵$$



$$۱۴-۸=۶$$





۴- حاصل جمع‌ها را با رنگ کردن مربع‌ها به دست آورید.

$$۴ + ۶ + ۷ = ۱۷$$

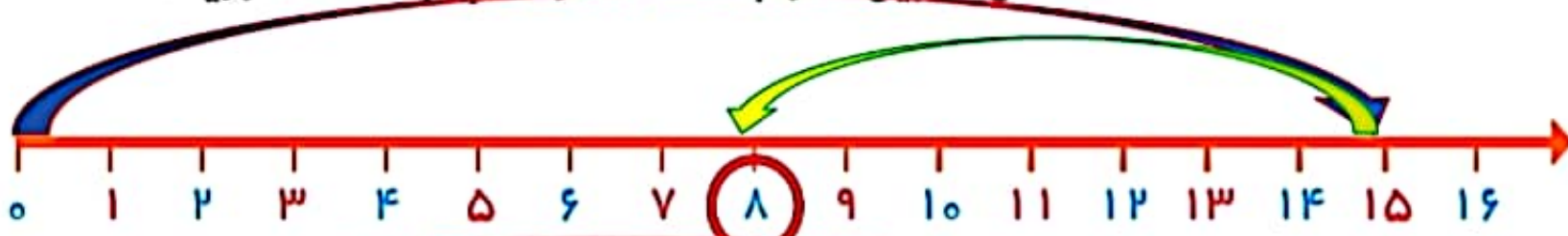


$$۳ + ۴ + ۵ + ۶ = ۱۸$$

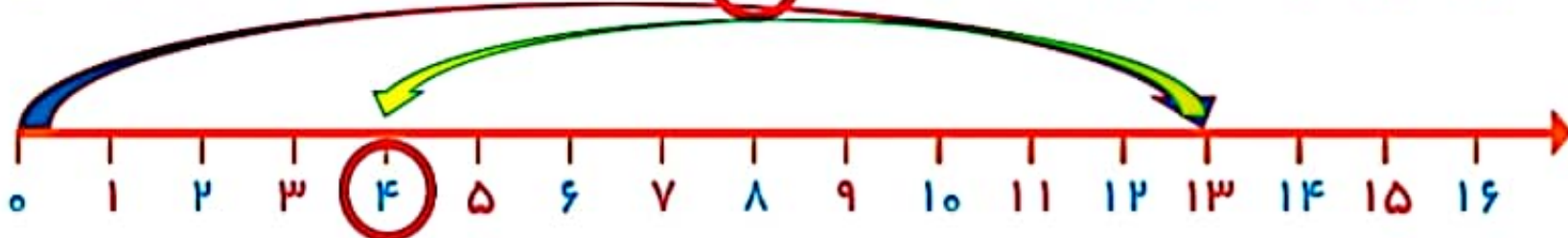


۵- حاصل تفریق‌ها را با استفاده از محور به دست آورید.

$$۱۵ - ۷ = ۸$$



$$۱۳ - ۹ = ۴$$



در کلاس اول دبستان روش‌های مختلفی را برای پیدا کردن حاصل جمع و تفریق یاد گرفتید. در فعالیت بالا این راه‌ها یادآوری شده است.



در کلاس اول دبستان روش‌های مختلفی را برای پیدا کردن حاصل جمع و تفریق یاد گرفتید. در فعالیت بالا این راه‌ها یادآوری شده است.



حاصل جمع‌ها و تفریق‌های زیر را از هر راهی که دوست دارید، به دست آورید.

$$6 + 7 = 13$$

$$14 - 8 = 6$$

$$8 + 9 = 17$$

$$11 - 5 = 6$$

کار در  
کلاس

به دلخواه دانش آموز