

۱- علی ۲۳ تا کتاب دارد. ۱۲ تا از آن‌ها کتاب داستان و بقیه کتاب علمی است. علی چند کتاب علمی دارد؟

( در این جا به جای کتاب از مربع استفاده کرده ایم.)



علی ۱۱ کتاب علمی دارد.

۲- زهرا ۳۷ عکس دارد. ۲۳ تا از عکس‌ها رنگی و بقیه سیاه و سفید هستند. زهرا چند عکس سیاه و سفید دارد؟



زهرا ۱۴ عکس سیاه و سفید دارد.


۳- شکل زیر چه عددی را نشان می‌دهد؟ با رسم شکل پنجمین عدد بعد از آن را بنویسید. ۱۸




## حدس بزن

در کدام قسمت تعداد شکل‌ها بیشتر از ۲۰ تا است؟  $\times$  بزنید.

۱۹

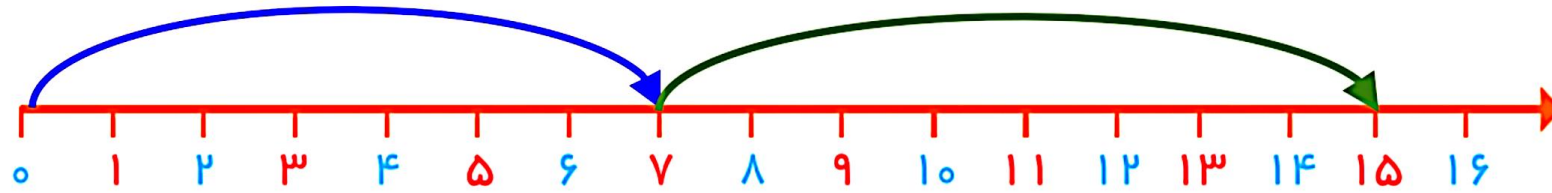


۲۶



حالا شکل‌ها را بشمارید. آیا حدس شما درست بود؟ **بله**

۱- امروز روز هفتم ماه است. ۸ روز بعد، چه روزی از ماه است؟ **پانزدهم** ماه است.



۲- سینا ۱۲ کتاب دارد. امروز ۵ تا کتاب دیگر خرید. حالا چند کتاب دارد؟ **هفده** کتاب دارد.



سه قسمت دیگر شکل را مانند قسمت داده شده با خط کش یا شابلون کامل کنید؛ طوری که اگر شکل را از روی خط‌ها تا کنیم، قسمت‌های چپ و راست یا بالا و پایین روی هم بیفتند.

