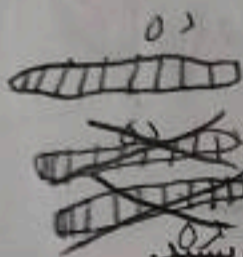


۱- علی ۲۳ تا کتاب دارد. ۱۲ تا از آن‌ها کتاب داستان و بقیه کتاب علمی است. علی چند کتاب علمی دارد؟
(در این جا به جای کتاب از مربع استفاده کرده ایم.)



علی ۱۱ کتاب علمی دارد.

۲- زهرا ۳۷ عکس دارد. ۲۳ تا از عکس‌ها رنگی و بقیه سیاه و سفید هستند. زهرا چند عکس سیاه و سفید دارد؟



زهرا ۱۴ عکس سیاه و سفید دارد.



۳- شکل زیر چه عددی را نشان می‌دهد؟ با رسم شکل پنجمین عدد بعد از آن را بنویسید.



$$12 + 5 = 17$$

حدس بزن

در کدام قسمت تعداد شکل‌ها بیشتر از ۲۰ تا است؟ بزیند.




حالا شکل‌ها را بشمارید. آیا حدس شما درست بود؟ بله


یکی از راه‌های حل کردن مسئله کشیدن شکل مناسب است. برای این کار لازم نیست شکل‌های مسئله نقاشی شود، می‌توان از شکل‌های ساده استفاده کرد.

۱۴۰۲ / ۱۷ / ۰۸

۱- امروز روز هفتم ماه است. ۸ روز بعد، چه روزی از ماه است؟ کجا ماه است.

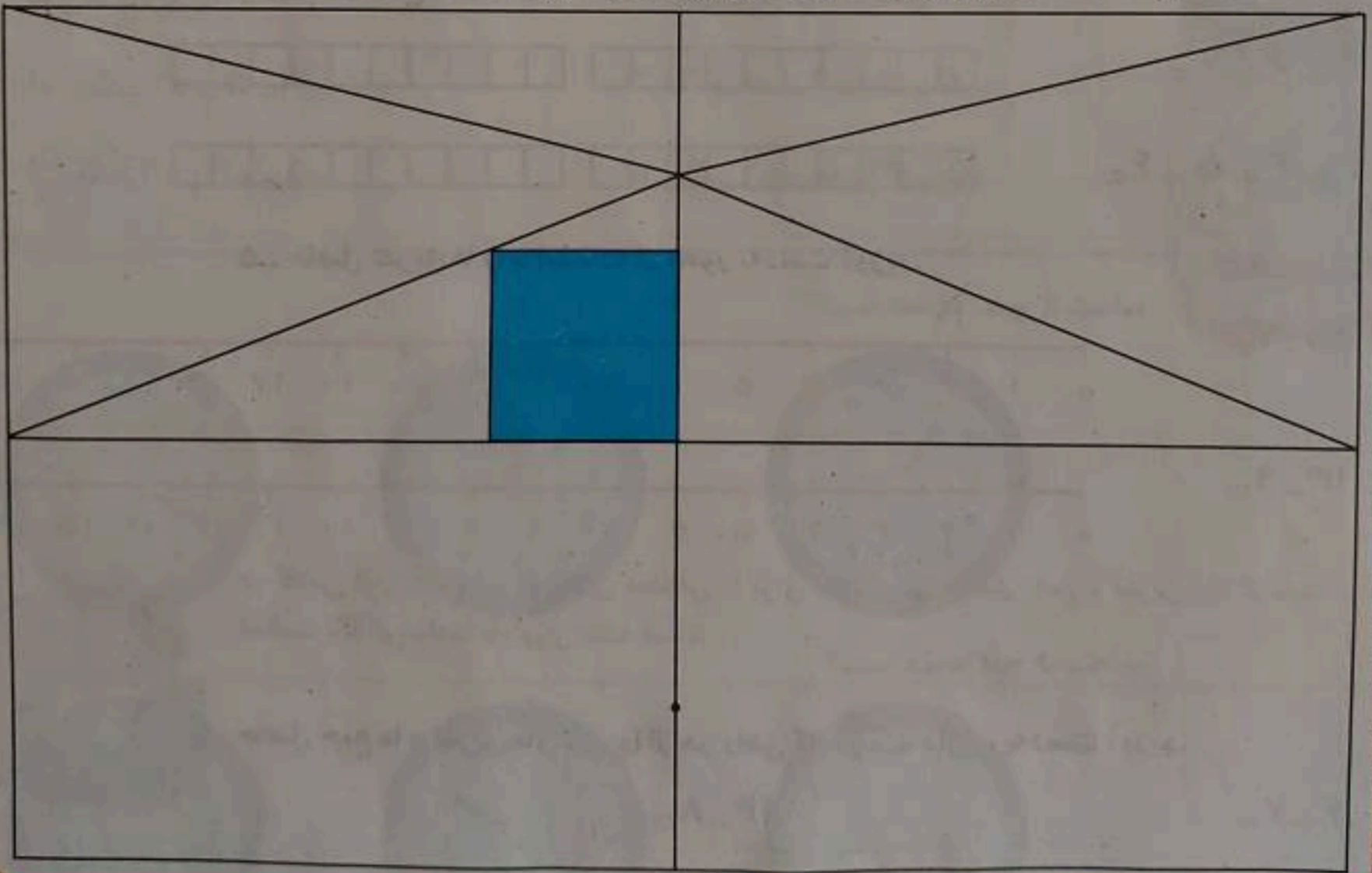


۲- سینا ۱۲ کتاب دارد. امروز ۵ تا کتاب دیگر خرید. حالا چند کتاب دارد؟ ۱۷ کتاب دارد.



کامل کن

سه قسمت دیگر شکل را مانند قسمت داده شده با خط کش و شابلون کامل کنید؛ طوری که اگر شکل را از روی خط‌ها تا کنیم، قسمت‌های چپ و راست یا بالا و پایین روی هم بیفتند.



استفاده از رسم چوب خط یا محور هم راهبرد رسم شکل به حساب می‌آید.