

۱۴۰۳ / ۷ / ۱۰

جمع و تفریق



۱- حاصل جمع و تفریق‌ها را با انگشتان خود به دست آورید.

$۴ + ۳ = ۷$ $۳ + ۴ = ۷$ $۸ - ۴ = ۴$ $۷ - ۵ = ۲$



۲- حاصل جمع‌ها را با رسم چوب خط پیدا کنید.

$۷ + ۸ = ۱۵$



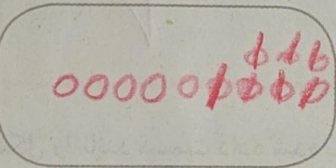
$۶ + ۶ = ۱۲$




فعالیت

۳- حاصل تفریق‌ها را با رسم شکل پیدا کنید.

$۱۲ - ۷ = ۵$



$۱۴ - ۸ = ۶$



۴- حاصل جمع‌ها را با رنگ کردن مربع‌ها به دست آورید.

$۴ + ۶ + ۷ = ۱۷$

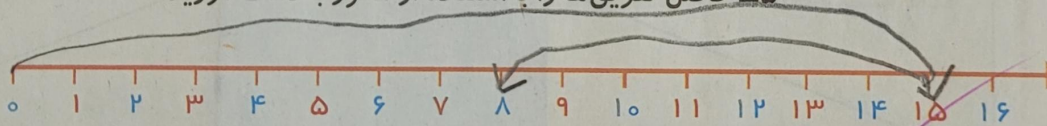


$۳ + ۴ + ۵ + ۶ = ۱۸$

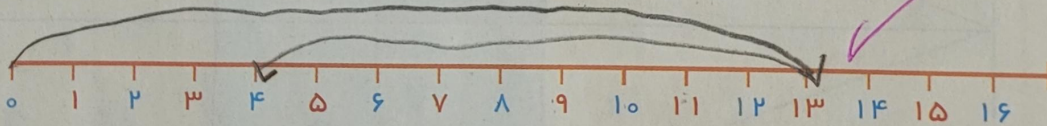


۵- حاصل تفریق‌ها را با استفاده از محور به دست آورید.

$۱۵ - ۷ = ۸$



$۱۳ - ۹ = ۴$



در کلاس اول دبستان روش‌های مختلفی را برای پیدا کردن حاصل جمع و تفریق یاد گرفتید. در فعالیت بالا این راه‌ها یادآوری شده است.



حاصل جمع‌ها و تفریق‌های زیر را از هر راهی که دوست دارید، به دست آورید.

$۶ + ۷ = ۱۳$

$۱۴ - ۸ = ۶$

$۸ + ۹ = ۱۷$

$۱۱ - ۵ = ۶$

کار در کلاس



با توجه به شکل‌ها، جدول و جاهای خالی را پر کن.



ده تایی	یکی
۴	۶

به رقم: ۴۶



ده تایی	یکی
۲	۶

به رقم: ۲۶

به حروف: چهل و شش

به حروف: شصت و دو

جاهای خالی را کامل کن.

۷ یکی و ۷ ده تایی می شود ۷۷

۳۵ برابر است با ۵ یکی و ۳ ده تایی

۹ یکی و ۸ ده تایی می شود ۸۹

۸۳ برابر است با ۳ یکی و ۸ ده تایی

۵ یکی و ۵ ده تایی می شود ۵۵

۴۰ برابر است با ۰ یکی و ۴ ده تایی

۳ یکی و ۳ ده تایی می شود ۳۶

۶۴ برابر است با ۴ یکی و ۶ ده تایی

دور رقم یکان هر عدد خط بکش و جاهای خالی را کامل کن.

۳۶	۴۷	۴۵
۶۶	۷۲	۵۵

رقم یکان عدد ۵۵، صفر است.

رقم یکان عدد ۳۶، ۶ است.

الف: عدد ۶۳ چند رقم دارد؟ ۲ رقم‌های آن ۳ و ۶ می باشد.

ب: با رقم‌های عدد ۶۳ چند عدد دو رقمی دیگر می توانی بنویسی؟ ۳۳ - ۳۶ - ۳۹ - ۶۳ - ۶۶

تمام عددهای دو رقمی که با کارت‌های ۵، ۰، ۹ می توان نوشت را، بنویس.

۵	۵	→
۵	۹	→
۹	۵	→
۹	۰	→

۵۵ - ۵۹ - ۹۵ - ۹۰

عددی دورقمی بنویس که یکانش ۷ و دهگانش ۴ تا از یکانش کم تر باشد.

۷	۳
---	---

