



فضایت کلاسی



۱ با توجه به شکل‌ها، جدول و جاهای خالی را پر کن.




به حروف: *سهول و بیست و یک*

ده تایی	یکی
۱۰	۶

به رقم: ۶

ده تایی	یکی
۲	۶

به رقم: ۲۶



به حروف: *هشتاد و یک*

۲ جاهای خالی را کامل کن.

۷۷ یکی و ۷ ده تایی می شود *۳* ده تایی و *۷* یکی

۸۹ یکی و ۸ ده تایی می شود *۸* ده تایی و *۹* یکی

۵۰ یکی و ۵ ده تایی می شود *۵* ده تایی و *۰* یکی

۳۶ یکی و ۳ ده تایی می شود *۳* ده تایی و *۶* یکی

- ۳۶
- ۴۷
- ۶۴
- ۷۲
- ۴۵
- ۵۰

۳ دور رقم یگان هر عدد خط بکش و جاهای خالی را کامل کن.

رقم یگان عدد صفر است.

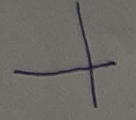
رقم یگان عدد است.

۴ الف: عدد ۳۶ چند رقم دارد؟ رقم‌های آن *۳ ۶* می باشد.

ب: با رقم‌های عدد ۳۶ چند عدد دو رقمی دیگر می توانی بنویسی؟

۵ تمام عددهای دو رقمی که با کارت‌های **۵ ۰ ۹**

۶ عددی دو رقمی بنویس که یکانش ۷ و دهگان‌ش ۴ تا از یکانش کم‌تر باشد. *۲۰*



۱۴۰۳ / ۷ / ۱۱



۸

تمام اعداد دو رقمی که با رقم‌های ۵، ۰ و ۳ می‌توان ساخت را بنویس.

۵۰۵-۵۵۳-۵۰۰-۲۵۵-۲۳۳-۲۰۵

۹ استفاده شده است؟

خانه‌های خیابانی که برنا در آن زندگی می‌کند از ۱ تا ۲۴ شماره گذاری شده‌اند، رقم ۲ چند بار در پلاک این خانه‌ها استفاده شده است؟

۱۲-۱۳-۱۴-۱۵-۱۶-۱۷-۱۸-۱۹-۲۰-۲۱-۲۲-۲۳-۲۴

۱۰

با توجه به عدد های داده شده، دسته های ده تایی و یکی را از صفحه ی آخر کتاب کار علوی جدا کن و در جای خالی بچسبان و عدد به دست آمده را در جدول ارزش مکانی قرار بده.

۱۳ به حروف: ۲۷ به حروف:

ده تایی	یکی
---------	-----

ده تایی	یکی
---------	-----

۱۱ با توجه به سوالات داده شده، گزینه ی صحیح را انتخاب کن.

الف: عدد ۴۷ چند ده تایی و چند یکی دارد؟ ۲

۷ ده تایی و ۴ یکی (۳) ۴ ده تایی و ۷ ده تایی (۳) ۷ ده تایی و ۴ یکی (۳) ۴ ده تایی و ۷ ده تایی (۳)

ب: اعداد قبل و بعد عدد ۶۸ کدام است؟

۶۷-۶۸-۶۹ (۱) ۶۹-۶۸-۶۷ (۳) ۶۹-۶۶-۶۹ (۲) ۷۰-۶۹ (۳)

پ: درنا ۷۰ شاخه گل داشت و آن‌ها را به صورت دسته ده تایی درست کرده بود. امروز ۲ دسته از گل‌ها را فروخت. حالا برای درنا چند دسته گل باقی مانده است؟

۵۰ (۱) ۷۰-۲۰=۵۰ (۳) ۴۰ (۳) ۴۰ دسته (۳)

ت: شکل زیر را با چند مربع کوچک هم‌اندازه که بعضی هایشان را نصف کرده‌ایم، ساخته‌ایم. برای ساختن این شکل چند مربع استفاده کرده‌ایم؟

۱۸+۳=۲۱

۱۳، ۱۱، ۱۲، ۳